

- 민주평화통일자문회의 -
2026 청소년 통일골든벨 기본학습문제(공개)

2026. 4.



민주평화통일자문회의

목 차

1. 분단에 대한 인식	2
2. 평화통일에 대한 역사적 접근	25
3. 북한에 대한 이해	45
4. 한반도 평화통일의 미래	65

기본학습문제는 통일부가 2025년에 발간한 『통일문제 이해』, 『북한 이해』, 그리고 2026년 청소년 통일공감사업의 사업대상을 고려하여 중고등학교 관련 교과(중학교 역사·도덕, 고등학교 한국사·동아시아 역사기행·세계사)를 참고하여 출제하였습니다.

※ 본 자료는 공개용 문항이며, 변별력 확보를 위해 비공개 문항을 따로 선정하였습니다. 비공개 문항은 공개용 문항의 해설내용을 바탕으로 출제될 예정이오니 해설을 통한 주도적인 학습 바랍니다.

1. '분단에 대한 인식' 단원 출제 의도 및 배경

한반도는 대륙세력과 해양세력이 교차하는 지정학적 위치로 인해 역사적으로 다양한 국제 정세의 영향을 받아왔다. 한반도의 분단은 우리 민족의 의사와 상관없이 제2차 세계대전 종결 과정에서 강대국들의 이해관계와 국제적 냉전 구조가 맞물리며 발생한 결과이다. 본 주제는 청소년들이 이러한 분단의 배경을 객관적으로 이해하고, 역사의 아픔을 넘어 평화로운 미래를 설계하는 주역으로 성장하도록 돕는 데 목적이 있다. 이를 위해 세 가지 영역으로 문항을 구성하였다.

첫째, 일제 강점기 민족 운동과 독립 국가 수립을 위한 준비이다. 일제 침략에 맞선 저항 운동의 과정을 살펴보고, 당시 독립운동 세력들이 간절히 바랐던 독립과 평화의 의미를 탐구한다. 특히 김구, 안창호, 안중근, 조소앙 등 독립운동가들의 활동과 대한민국 임시정부, 신간회, 한인 애국단 등 주요 단체들의 역할을 학습한다. 이를 통해 우리 민족이 주체적으로 새로운 나라를 세우기 위해 얼마나 치열하게 준비하고 헌신했는지 그 역사적 실체를 정확히 이해하도록 한다.

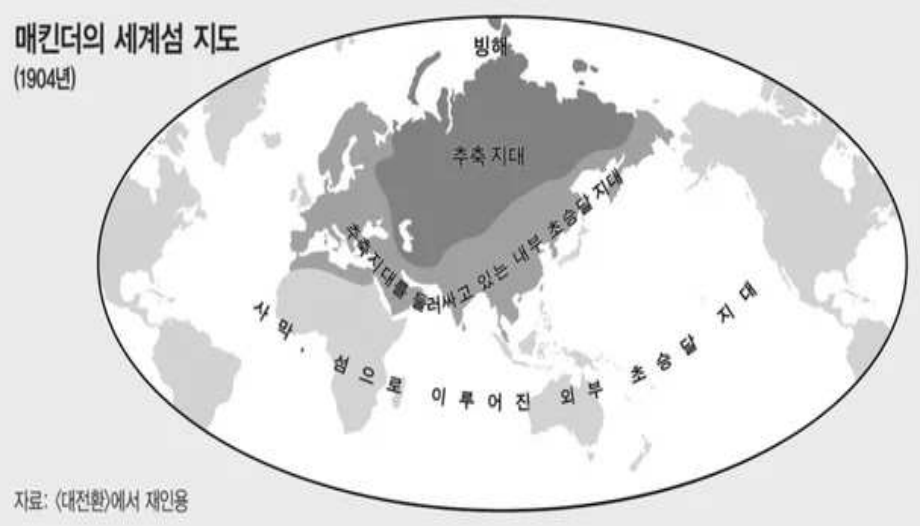
둘째, 해방 이후 국제 정세와 분단의 과정이다. 제2차 세계대전의 종결과 함께 찾아온 냉전이라는 거대한 흐름 속에서 한반도가 지정학적 요충지로 부각되며 분단이 가시화되는 과정을 객관적으로 살펴본다. 외세에 의한 분할 점령과 국내 정치 세력 간의 갈등으로 인해 통일 정부 수립이 좌절되는 과정을 성찰한다. 이를 통해 분단은 우리가 선택한 결과가 아닌 주변 정세에 의한 가슴 아픈 상황이었음을 인식하고, 이를 극복하기 위해 우리에게 필요한 '주체적 역량'이 무엇인지 고민해 본다.

셋째, 6·25 전쟁의 영향과 평화 회복을 위한 노력이다. 전쟁의 전개 과정을 학습하며 한반도에 남긴 유무형의 피해를 살펴본다. 특히 전쟁은 군인뿐만 아니라 민간인, 즉 남녀노소 모든 국민들의 삶에 커다란 희생을 초래할 수밖에 없다는 사실에 주목한다. 전쟁은 개인의 생명은 물론 사회 전반의 경

제와 기반을 파괴하며 공동체에 깊은 상처를 남긴다. 이러한 비극을 통해 다시는 한반도에 전쟁이 발발해서는 안 된다는 평화의 소중함을 깊이 공감하고, 정전 이후에도 지속되어 온 평화 통일을 향한 다양한 노력을 이해한다.

과거의 분단이 힘의 논리에 의해 우리에게 주어졌던 아픔이었다면, 미래의 평화와 통일은 우리가 스스로 책임지고 만들어가야 할 시대적 과제이다. 청소년들이 분단의 역사를 바로 앎으로써, 남과 북의 평화 공존을 이끌어갈 주역으로서 가져야 할 올바른 가치관과 연대의 정신을 함양하는 것이 본 단원의 핵심 목표이다.

번호	문항
	<p>1. 분단에 대한 인식</p>
1	<p>1894년 7월18일 영국 외무장관 존 킴벌리가 당시 한반도 지배권을 두고 “서울을 경계로 북쪽은 청나라가, 남쪽은 ()이 점령하자” 고 분할 점령안으로 제의했다. 빈 칸에 알맞은 국가는? ① 영국 ② 미국 ③ 러시아 ④ 일본</p> <p style="text-align: right;">[정답] ④</p> <p>【해설】 1894년 7월 18일 영국 외상 킴벌리는 영국 주재 일본공사 아오키 슈조와 청국공사 습소원(龔昭瑗)에게 남북 분할 안을 제안했다. 서울을 경계로 ‘남부 4개도는 일본이 점령하고, 북부 3개도는 청국이 맡고, 경기도는 서로 점령하지 않고 놓아둔다.’ 는 내용의 분할 점령안을 제시하였다. 그러나 이는 한반도 전체를 노리는 일본의 반대로 실현되지 못하였다. 1894년 7월 25일 아산 앞바다에서 일본함대의 청국함대 기습 공격으로 청일전쟁이 발발하였고, 결국 일본이 승리하였다.</p>
2	<p>지정학의 창시자로 불리우는 영국의 지리학자 헬퍼드 매킨더(Halford Mackinder)는 1904년 러일전쟁에 대해서 () 세력과 해양 세력의 대립으로 해석하였다. 빈 칸에 들어갈 알맞은 말은?</p> <p style="text-align: right;">[정답] 대륙</p>

번호	문항
	<p>【해설】 지정학(Geopolitics)은 국가의 위치, 영토, 자원, 기후 등 지리적 요인이 국제 정치, 경제, 안보에 미치는 영향을 연구하는 학문으로 국가 간 권력 관계를 거시적으로 분석하면서 강대국의 팽창 정책이나 분쟁의 원인을 지리적 환경에서 찾는다.</p> <p>지정학의 창시자로 호칭되는 영국의 정치인이자 지리학자 매킨더는 세계의 중심(추축지대, 심장지대)을 유라시아지역으로 판단하고, 그 중심에 위치한 대륙세력을 견제하기 위해서 해양세력의 러시아에 대한 봉쇄와 그 주변지역(주변지대, 초승달지대) 장악을 주장하였다. 따라서 인도-태평양 지역에서 한국과 인도를 대륙과 해양의 교두보 지역이라며 판단하였고, 교두보를 대륙세력의 확장을 막기 위한 완충지역이나 요충지로 활용하여야 한다고 강조하였다.</p> 
3	<p>다음 글에서 설명하는 안중근 의사의 저서로 알맞은 것은?</p> <p>이 책은 안중근 의사가 하얼빈 의거 직후 체포되어 뤼순 감옥에서 사형 선고를 받은 뒤 집필한 미완성 저서이다. 일본의 대한제국 식민지화에 저항하는 차원을 넘어, 한·중·일 3국이 주권 존중을 바탕으로 연대하여 동양의 평화 질서를 구축해야 한다는 선구적인 평화 구상을 담</p>


번호	문항
	<p>고 있다. 특히 평화 정착을 위한 구체적인 방안으로 공동 은행 설립이나 공용 화폐 발행과 같이 오늘날의 경제 공동체 개념을 앞서 제시하였다. 이는 외세에 끌려다니지 않고 우리 스스로 운명을 결정하여 평화와 번영을 이룩하겠다는 주체적인 염원을 잘 보여준다.</p> <p>① 백범일지 ② 삼균주의 ③ 동양 평화론 ④ 조선혁명선언</p> <p style="text-align: right;">[정답] ③</p> <p>【해설】 안중근 의사가 뤼순 감옥에서 저술한 『동양 평화론』은 일제강점기 독립운동 세력이 간절히 바랐던 ‘독립과 평화의 의미’를 가장 잘 보여주는 사료이다. 안중근 의사는 하얼빈 의거가 단순한 항복이나 복수가 아니라, 동양 3국의 공영과 진정한 평화를 지키기 위한 연대의 과정임을 이 책을 통해 밝혔다.</p> <p>백범일지는 대한민국 임시정부를 이끈 김구의 자서전이다. 삼균주의는 조소앙이 제창한 사상으로, 개인·민족·국가 간의 균등을 통해 완전한 독립과 평화를 추구한 대한민국 임시정부의 건국이념이다. 조선혁명선언은 신채호가 의열단의 무장 투쟁과 민중 직접 혁명의 당위성을 밝히기 위해 작성한 선언문이다.</p>
4	<p>1919년 만주에서 조직되었으며 신채호가 작성한 「조선 혁명 선언」을 활동 지침으로 삼고 일제의 주요 통치 기관을 파괴하고 식민 지배의 하수인을 처단하는 등 주체적인 항일 투쟁을 전개한 단체는?</p> <div style="border: 1px solid black; padding: 5px; margin: 10px 0;"> <p>우리는 외교론, 준비론 등의 미몽을 버리고 민중 직접 혁명의 수단을 취함을 선언하노라. …… 우리는 민중 속으로 가서 민중과 손을 맞잡아 끊임없는 폭력, 암살, 파괴, 폭동으로써 강도 일제의 통치를 타도하고, 우리 생활에 불합리한 일체의 제도를 개조하여 인류로써 인류를 압박하지 못하며, 사회로써 사회를 박탈하지 못하는 이상적 조선을 건설할지니라.</p> <p style="text-align: right;">「조선 혁명 선언」(신채호, 1923년)</p> </div> <p style="text-align: right;">[정답] 의열단</p> <p>【해설】 의열단은 1919년 3·1 운동 직후, 만주에서 김원봉의 주도로 결성된 대표적인 항일 비밀결사 단체이다. 이들은 조선총독부나 경찰서 등</p>

번호	문항
	일제의 억압적인 통치 기관을 타격하고, 식민 지배에 앞장선 인물들을 처단하는 의거 활동을 활발히 전개했다.
	(가)에 해당하는 민족 운동 단체로 옳은 것은? <div style="border: 1px solid black; padding: 5px; margin: 5px 0;"> <p style="text-align: center;">(가) 강령</p> <ul style="list-style-type: none"> • 우리는 정치적·경제적 각성을 촉진한다. • 우리는 단결을 공고히 한다. • 우리는 기회주의를 일체 부인한다. <p style="text-align: right;">- 『동아일보』 1927. 1. 20.-</p> </div> <p>① 신민회 ② 신간회 ③ 조선어 학회 ④ 조선 형평사</p> <p style="text-align: right;">[정답] ②</p>
5	【해설】 중국의 제1차 국·공합작(1924)을 계기로 중국 관내에서 민족 유일당 운동이 전개되었고, 코민테른도 민족 통일 전선을 지지하였다. 이러한 국제 정세 속에서 국내에서도 비타협적 민족주의 세력과 사회주의 세력이 연대하여 민족 협동 전선인 신간회가 창립되었고, 1927년부터 1931년까지 활동을 전개하였다. 신간회 강령은 민족 단결을 강조하고, 일제와 타협하는 자치 운동을 비판하고 있다. ① 신민회는 안창호 등이 1907년 비밀 결사 형태로 조직하여 국권 회복과 공화정 체제의 근대 국민국가 건설을 목표로 활동하였다. ③ 조선어 학회는 1931년 조선어 연구회가 이름을 고쳐 활동한 단체로 「한글 맞춤법 통일안」을 발표하여 표준어를 제정하고, 『큰사전』의 편찬 사업을 착수하였다. 일제가 일으킨 조선어 학회 사건으로 강제 해산되었다. ④ 조선 형평사는 1923년 조직되어 신분제 철폐 후에도 남아 있었던 백정들에 대한 사회적 차별을 없애기 위해 형평운동을 전개하였다.
6	대한민국 임시정부에 대한 설명으로 옳지 않은 것은? ① 고종 복위의 입헌 군주국을 목표로 하였다. ② 「독립 신문」을 발행하여 독립 운동 소식을 전했다.

번호	문항
	③ 독립 운동 자금을 확보하기 위해 독립 공채를 발행하였다. ④ 연통제라는 비밀 연락망을 통해 국내외 긴밀한 연락을 꾀했다.
	[정답] ①
	【해설】 3·1 운동 이후 독립을 위한 의지와 역량을 결집하기 위해 통합된 임시정부를 수립하기 위한 움직임이 일어났다. 통합 운동의 결과 프랑스 조계지 내에 있어 일제 영향력이 상대적으로 약한 상하이로 합의되었으며 이승만을 대통령, 이동휘를 국무총리로 하는 대한민국 임시정부가 수립되었다. 대한민국 임시정부는 민주공화제를 표방하고 삼권분립의 원칙을 담은 임시 헌법을 공포하였다.
	(가)에 해당하는 독립운동가로 알맞은 인물은 누구입니까? (가)는 일제 강점기 민족의 자주독립을 위해서는 무엇보다 우리 스스로의 힘을 기르는 ‘실력 양성’이 중요하다고 믿었다. 이를 위해 비밀결사 단체인 신민회를 조직하여 교육과 산업 진흥에 힘썼으며, 샌프란시스코에서 흥사단을 창립하여 독립을 위한 인재를 길러내는 데 헌신했다. 또한, 3·1 운동 이후 수립된 대한민국 임시정부의 체제를 정비하고, 이념과 노선이 달랐던 다양한 독립운동 세력의 연대와 통합을 이끌어내기 위해 평생을 바쳤다.
7	[정답] 안창호
	【해설】 도산 안창호 선생(1878 ~ 1938)은 일제의 억압 속에서도 단기적인 무력 충돌에만 의존하지 않고, 장기적인 관점에서 민족 스스로의 역량을 기르는 ‘실력 양성’과 ‘인재 교육’을 가장 중요하게 생각했다. 또한 민주적인 공화정 체제의 근대 국가를 세우기 위해, 서로 다른 사상을 가졌던 독립운동 세력들을 하나로 모으고자 끊임없이 통합과 연대를 시도했다.
	(가)에 해당하는 단체의 이름을 쓰시오.
8	김구는 대한민국 임시정부에 활기를 불어 넣기 위해 (가)을/를 조직하였다. 이봉창은 1932년 일본 도쿄에서 일왕의 마차에 폭탄을 던졌으나 실패하였다. 윤봉길은 1932년 상하이 사변 승전 기념식이 열린 중국 상하이 흥커우 공원에서 폭탄을 던져 일제 주요 장성과 고

번호	문항
	<p>관들을 처단하였다.</p> <p style="text-align: right;">[정답] 한인 애국단</p> <p>【해설】 만주 사변 이후 일제의 대륙 침략이 확대되는 정세 속에서 내부 분열로 위축된 대한민국 임시정부에 활기를 불어넣기 위해 비밀 결사인 한인 애국단을 조직하여 의열 투쟁을 전개하였다. 윤봉길 의거는 대한민국 임시정부가 중국 국민당 정부의 지원을 받는 계기가 되었고, 이후 중국 관내에서 한국 광복군이 조직되는 토대가 되었다.</p>
9	<p>밑줄 친 ‘나’에 해당하는 인물로 옳은 것은?</p> <div style="border: 1px solid black; padding: 5px; margin: 5px 0;"> <p>나는 통일된 조국을 건설하려다가 38도선을 베고 쓰러질지언정 일신에 구차한 안일을 취하여 단독 정부를 세우는데 협력하지 아니하겠다. 나는 생전에 38도선 이북에 가고 싶다. 그쪽 동포들도 제 집을 찾아가는 것을 보고서 죽고 싶다.</p> </div> <p>① 김구 ② 김규식 ③ 이승만 ④ 여운형</p> <p style="text-align: right;">[정답] ①</p> <p>【해설】 김구가 1948년 2월 10일 발표한 「삼천만 동포에게 읍고함」이다. 유엔 소총회에서 남한만의 단독 선거가 결정되는 등 분단의 가능성이 높아지자, 김구는 평양에서 북한 지도부와 남북 협상을 가지는 등 단독정부 수립을 반대하고 통일 조국 건설을 위해 노력하였다.</p>
10	<p>1932년 1월 8일, 일본의 심장부인 도쿄에서 일왕 히로히토가 탄 마차를 향해 폭탄을 투척하여 우리 민족의 주체적인 독립 의지를 세계만방에 알린 이 인물은 누구입니까?</p> <p>① 윤봉길 ② 이봉창 ③ 이준 ④ 안중근</p> <p>[정답] ② 이봉창</p> <p>【해설】 한인 애국단원이었던 이봉창 의사(1900~1932)는 1932년 1월 8일에 일본 도쿄의 사쿠라다몬 밖에서 관병식을 마치고 돌아가던 일왕 히로히토의 행렬을 향해 폭탄을 투척했다. 이는 침체되었던 대한민국</p>

번호	문항
	<p>임시정부의 독립운동에 새로운 활력을 불어넣고, 일제 식민 지배의 상징인 일왕을 타격함으로써 우리 민족의 끊임없는 독립 의지와 평화를 향한 주체적인 염원을 전 세계에 알리기 위해서였다.</p>
11	<p>1940년 중국 충칭에 정착한 대한민국 임시정부가 중국 국민당 정부의 지원을 받아 창설한 군대의 이름은 한국 광복군이다. 맞으면 O, 틀리면 X를 쓰시오.</p> <p style="text-align: right;">[정답] O</p> <p>【해설】 대한민국 임시정부는 1940년 9월 17일 중국 충칭에서 산하 군사 조직으로 한국 광복군을 창설하였다. 총사령관은 지청천이었다. 대한민국 임시정부는 일제가 미국 하와이의 진주만을 기습하여 태평양 전쟁을 일으키자, 일제에 선전포고를 하고 한국 광복군을 연합국의 일원으로 참전시켰다. 이들은 주로 중국군과 함께 일본군에 대한 심리전이나 포로 심문 등을 수행하였다. 1943년에는 영국군의 요청으로 인도·미얀마 전선에 병력을 파견하였다. 1944년 12월 미국 전략 사무국(OSS)과 함께 국내 진공작전(독수리 작전)을 준비하였다. 연합군이 한반도에 상륙할 때 미리 특수부대를 잠입시켜 교란 작전을 편다는 계획이었다. 작전 실시 예정일이 1945년 8월 20일이었으나, 일본이 갑작스럽게 패망하면서 실행하지 못했다.</p> <p>밑줄 친 ‘이 사상’의 명칭을 쓰시오.</p> <div style="border: 1px solid black; padding: 5px; margin: 5px 0;"> <p>이 사상은 정치, 경제, 교육의 균등을 통해 개인과 개인의 균등한 생활을 실현하고, 이를 토대로 민족과 민족, 국가와 국가의 균등한 생활을 이룬다는 주장이다. 조소앙이 체계화하였으며 대한민국 임시정부의 건국 강령에 사상적 기반을 제공하였다.</p> </div> <p style="text-align: right;">[정답] 삼균주의</p> <p>【해설】 조소앙의 삼균주의는 정치, 경제, 교육의 균등을 통해 개인과 개인의 균등 생활을 실현하고, 이를 토대로 민족과 민족, 국가와 국가의 균등 생활을 이룬다는 이론 체계이다. 대한민국 임시정부는 조소앙의 삼균주의를 기초로 하여 대한민국 건국 강령을 발표하였으며 이 강</p>
12	

번호	문항
	령을 통해 보통 선거, 무상 의무 교육 실시, 토지와 생산 기관의 국유화 등의 내용을 담았다.
	(가)에 들어갈 회담의 명칭으로 옳은 것은? <div style="display: flex; align-items: flex-start;"> <div style="margin-right: 10px;">  </div> <div> <p>사진은 1943년 11월 이집트에 모인 중국, 미국, 영국 정상의 모습이다. 이 <input type="text" value="(가)"/> 에서 미국, 영국, 중국 정상들은 일본과의 전쟁에서 서로 협력하고, 일본이 탈취·점령한 지역을 되돌려준다는 내용의 선언을 발표하였고, 우리나라의 독립을 연합국이 최초로 보장하였다.</p> </div> </div>
13	<p>① 알타 회담 ② 포츠담 회담 ③ 카이로 회담 ④ 제네바 회담</p> <p style="text-align: right;">[정답] ③</p> <p>【해설】 1943년 11월 이집트 카이로 회담에 모인 미국, 영국, 중국의 수뇌부는 일본의 항복을 받아 내기 위한 군사 행동을 지속하고 일본이 탈취, 점령한 지역을 되돌려준다는 내용을 담은 카이로 선언을 발표하였다. 이 회담에서 “한국 인민의 노예 상태에 유의하여 적절한 절차를 거쳐 한국을 자유 독립하게 할 것을 결정한다”는 내용으로 한국의 독립을 연합국이 최초로 보장하였다. ① 알타 회담은 1945년 2월 독일 패전이 임박하자 독일의 분할 점령과 소련의 대일전 참전 등을 합의하였다. 또한 패전국과 해방된 나라의 민주적인 임시정부 구성과 자유 선거를 통한 정부 수립 방침도 합의하였다. ② 1945년 7월 독일이 연합국에 항복하고 열린 포츠담 회담에서는 유럽의 전후처리 문제를 논의하고 일본의 무조건 항복을 요구하고 카이로 선언의 이행을 확인하였다. ④ 제네바 회담은 1954년 4~7월에 열렸고, 한국 전쟁과 베트남 문제 해결과 관련된 회담이다. 한국 전쟁의 공식적 종료와 한반도 평화 협정 체결 관련 내용은 미소 양측 대립으로 어떠한 선언도 채택되지 않고 중</p>


번호	문항
	결되었으나 프랑스령 인도차이나 해체와 베트남 분단이 합의되었다.
	해방 직후, <신탁통치> 소식이 알려지면서, 우리 겨레는 한반도를 둘러싼 강대국들에 의해 또 다른 식민체제가 시작될까 봐 우려하고 있었다. 당시 사람들은 이런 노래를 불렀다. []에 들어갈 나라는? <div style="border: 1px solid black; padding: 5px; margin: 5px 0;"> 미국을 믿지 말고, []엔 속지 말라. 일본은 일어선다. 조선은 조심하자 </div>
14	<p>① 영국 ② 소련 ③ 인도 ④ 중국</p> <p style="text-align: right;">[정답] ② 소련</p> <p>【해설】 해방 직후 열강들의 세력다툼 속에 한반도가 희생양이 될 수 있다는 위기의식이 반영된 노래로 우리(조선)는 조심조심해야 한다는 당시의 국제정세 인식이 반영된 것이다.</p>
	연합국이 전쟁 중에 발표한 대서양 헌장에 따라 국제 평화를 유지하기 위해 1945년 10월 출범한 국제기구는 국제 연맹이다. 맞으면 O, 틀리면 X를 쓰시오.
15	<p style="text-align: right;">[정답] X</p> <p>【해설】 태평양 전쟁 발발 직전인 1941년 8월 미국의 루스벨트와 영국의 처칠이 조인한 대서양 헌장에 따라 1945년 10월 국제 연합(UN)이 출범하였다. 이전의 국제 연맹과 달리 침략 행위에 대한 군사적 제재를 할 수 있게 했고, 국제 평화를 위해 노력하고 있다. 국제연맹은 제1차 세계 대전 이후 1920년 출범하였으나, 1930년대 이후 국제 분쟁에 효과적인 대처를 하지 못하며 제2차 세계대전 이후 업무를 국제 연합에 승계하면서 해체되었다.</p>
16	제2차 세계대전 이후 미국과 소련이 국제 질서의 주도권을 놓고 대립하면서 전후 세계는 미국 중심의 자본주의 진영과 소련 중심의 공산주의 진영으로 재편되었다. 두 진영은 직접적인 무력은 사용하지 않았지만 세계 곳곳에서 체제와 이념을 둘러싸고 대립하게 된다. 이러한 전후

번호	문항
	<p>의 국제 질서를 무엇이라 부르는지 쓰시오.</p> <p style="text-align: right;">[정답] 냉전 (체제)(Cold War)</p> <p>【해설】 제2차 세계 대전 이후 미국과 소련이 양대 강국으로 떠오르면서 국제 사회의 주도권을 둘러싼 갈등이 일어났고, 이를 냉전이라고 부른다. 냉전 체제 기간 중 미국과 소련 간의 직접적인 전면전은 없었지만 여러 분야에 걸쳐 두 진영 간의 치열한 대립이 발생하였다.</p>
17	<p>1947년 미국 대통령이 발표한 다음 선언의 명칭을 쓰시오.</p> <div style="border: 1px solid black; padding: 5px; margin: 10px 0;"> <p>미국이 공산주의 확대를 저지하기 위하여 자유와 독립의 유지에 노력하며, 소수의 정부 지배를 거부하는 의사를 가진 세계 여러 나라에 대해 군사적·경제적 원조를 제공한다는 내용을 담고 있다.</p> </div> <p style="text-align: right;">[정답] 트루먼 독트린</p> <p>【해설】 1947년 3월 미국 대통령 트루먼이 의회에서 발표한 외교 정책으로, 공산주의가 확대되는 것을 막기 위해 반공 정책을 취하는 국가에 원조를 제공하겠다는 선언이다. 이를 트루먼 독트린이라 한다. 이를 계기로 미국이 소련 봉쇄에 나섬으로써, 냉전 갈등이 본격적으로 시작되었다. 이어 미국 국무 장관은 서유럽에 경제 원조 기금을 제공하겠다는 마셜 계획을 발표하였고, 1949년에는 자본주의 진영 국가들이 상호 군사 원조와 집단 방어를 목표로 하는 북대서양 조약기구(NATO)를 결성하였다.</p>
18	<p>제2차 세계대전 이후 중국에서는 1946년 국민당과 공산당 간의 국·공 내전이 일어났고, 월등한 군사력을 바탕으로 한 국민당이 승리하였다. 맞으면 O, 틀리면 X를 쓰시오.</p> <p style="text-align: right;">[정답] X</p> <p>【해설】 제2차 세계대전 후 미국과 소련을 중심으로 한 갈등은 세계 각지로 확대되어 동아시아에서 더욱 격화되었다. 미국의 후원을 받은 국민당은 월등한 군사력을 보유하고 있었음에도 토지 개혁 등으로 민중의 지지를 얻은 공산당에게 패배하고 타이완으로 밀려났다. 국·공 내전에</p>

번호	문항
	<p>서 승리한 중국 공산당은 중국 전역을 장악하고 1949년 10월 1일 중화인민 공화국을 수립하였다.</p>
19	<p>제2차 세계대전에서 패망한 일본에서는 미군정이 실시되었다. 맞으면 O, 틀리면 X를 쓰시오.</p> <p style="text-align: right;">[정답] O</p> <p>【해설】 일본에서는 제2차 세계대전의 패망과 동시에 미군정이 실시되었다. 맥아더를 사령관으로 하는 연합군 최고 사령관 총사령부(GHQ)는 일본의 군대를 해체하고 군국주의자를 공직에서 추방하였으며 전쟁 범죄 심판을 위해 도쿄 재판관을 열었다. 중국 국·공 내전에서 공산당이 승리하는 상황 속에서 일본은 미군정의 통치 아래에서 동아시아의 반공 거점이 되었다.</p>
20	<p>샌프란시스코 강화조약에 대한 설명으로 옳지 않은 것은?</p> <p>① 일본이 주권을 회복하였다. ② 한국과 중국이 참여하였다. ③ 소련은 조약에 서명하지 않았다. ④ 6·25 전쟁 기간 중에 체결되었다.</p> <p style="text-align: right;">[정답] ②</p> <p>【해설】 중국의 공산화 이후 6·25 전쟁이 발발하자 미국은 일본을 동아시아의 반공기지로 삼고자 서둘러 1951년 9월 8일 샌프란시스코에서 연합국과 일본의 강화조약을 이끌어 냈다. 그러나 한국은 연합국이 아니라는 이유로, 중국은 중화민국과 중화 인민 공화국의 대표성 문제로 참여할 수 없었고, 소련은 미국 주도의 강화에 반대하여 조약에 서명하지 않았다. 이 조약으로 제2차 세계대전의 패전국이었던 일본은 주권을 회복하고 국제 사회에 복귀할 수 있었다. 그리고 같은 날 일본은 미국과 미·일 안보 조약을 체결하였다. 샌프란시스코 강화 조약은 이후 동아시아 국가 사이 갈등의 소지를 남겼다.</p>
21	<p>1945년 8월 15일 직전 일본군의 무장 해체를 명분으로 편의상 북위 38도선을 경계로 한반도 분할 점령을 제안한 국가의 이름을 쓰시오.</p> <p style="text-align: right;">[정답] 미국</p>

번호	문항
	<p>【해설】 1945년 8월 15일 직전까지 한반도의 전후처리와 관련된 원칙이나 방침이 마련되지 못한 상태였다. 1945년 8월 초, 미국이 일본 히로시마와 나가사키에 원자 폭탄을 투하하자 소련은 동아시아에 대한 영향력을 확보하기 위해 대일 선전 포고를 하고 만주와 한반도 북부 지역으로 참전하기 시작했다. 이러한 상황 속에서 미국은 소련에 일본군의 무장 해제를 위해 8월 11일 북위 38도선을 경계로 한반도를 분할 점령할 것을 제안했고, 소련이 동의함으로써 북위 38도선이 한반도의 군사 분계선으로 설정되었다.</p>
22	<p>북위 38도선은 군사적 편의를 위한 경계선이었기 때문에 광복 직후 남북한 주민들이 38도선을 오가는 것은 엄격히 금지되었다. 맞으면 O, 틀리면 X를 쓰시오.</p> <p style="text-align: right;">[정답] X</p> <p>【해설】 북위 38도선은 군사적 편의를 위한 일시적 경계선이었기 때문에 광복 직후 남북한 주민들은 자유롭게 38도선을 오갈 수 있었다. 그러나 냉전의 심화로 인해 점차 왕래가 제한되었다.</p>
	<p>(가)와 (나)에 해당하는 국가의 명칭을 쓰시오.</p> <div style="border: 1px solid black; padding: 5px; margin: 5px 0;"> <p>해방 직후 북위 38도선 이남은 <input type="text" value="(가)"/> 이/가 군정청을 설치하고 직접 통치를 하였고, 북위 38도선 이북은 <input type="text" value="(나)"/> 이/가 인민 위원회를 통한 간접 통치 방식으로 정치적 영향력을 행사하였다.</p> </div> <p style="text-align: right;">[정답] (가) 미국, (나) 소련</p> <p>【해설】 해방 이후 북위 38도선 이남은 미국이 군정청을 설치하고 직접 통치를 하였으며 미군정은 통치의 편의를 위해 조선 총독부의 기구와 인력을 계승하였다. 북위 38도선 이북은 소련이 인민 위원회를 통한 간접 통치 방식으로 정치적 영향력을 행사하였고, 공산주의자들은 소련군의 후원을 업고 큰 어려움 없이 권력을 차지하였다.</p>
24	<p>밀줄 친 ‘이 단체’의 명칭을 쓰시오.</p> <div style="border: 1px solid black; padding: 5px; margin: 5px 0;"> <p>광복 당일, 여운형은 엔도 정무총감을 만나 행정권 이양을 논의하였다. 그리고 안재홍 등과 함께 좌·우익의 합작 형태로 이 단체를</p> </div>

번호	문항
	<div style="border: 1px solid black; padding: 5px; margin: 5px 0;"> <p>조직하였다. 이 단체는 광복 직후 사회 안정을 위해 노력하는 한편, 식량과 생활필수품 확보에 주력하여 국민 생활을 안정시키려 하였다.</p> </div> <p style="text-align: right;">[정답] 조선 건국 준비 위원회(건준)</p> <p>【해설】 광복 직후 여운형은 조선 건국 준비 위원회를 조직하여 사회 안정과 정부 수립을 위해 노력하였다. 조선 건국 준비 위원회는 미국이 진주하기 직전에 1945년 9월 9일 조선민주주의인민공화국의 수립을 선포하고 국가 건설 주도권을 확보하려 하였다. 그러나 미군정의 인정을 받지 못했고, 우익 세력의 부정적 태도로 인해 결국 해체되었다.</p>
25	<p>광복 후 민족 지도자들의 활동에 대한 설명으로 옳지 않은 것은?</p> <p>① 김규식은 조선 건국 준비 위원회를 이끌었다. ② 송진우, 김성수 등은 한국 민주당을 결성하였다. ③ 이승만은 독립 촉성 중앙 협의회를 결성하였다. ④ 박헌영 등 좌익 계열은 조선 공산당을 기반으로 활동하였다.</p> <p style="text-align: right;">[정답] ①</p> <p>【해설】 김규식은 여운형과 함께 좌우 합작 운동, 김구와 함께 남북 협상에 참여한 지도자이다. 여운형과 안재홍이 주축이 되어 조선 건국 준비 위원회를 이끌었다.</p>
26	<p>(가)에 해당하는 용어를 쓰시오.</p> <div style="border: 1px solid black; padding: 5px; margin: 5px 0;"> <p>1945년 12월 모스크바에 미국, 소련, 영국의 외무 장관들이 모여 한반도 문제를 협의하였다. 이들은 한국 독립의 방안으로 임시 민주주의 정부를 수립하고, 임시정부 수립을 위해 미·소 공동 위원회를 설치하며, 정부 수립까지 5년 이내를 기한으로 4개국 <input type="text" value="(가)"/> 에 관한 협약을 작성한다고 결정하였다.</p> </div> <p style="text-align: right;">[정답] 신탁통치</p> <p>【해설】 제시문의 결정 사항은 모스크바 3국 외상 회의의 결정 사항이다. 이 회의에는 미국, 영국, 소련의 외무장관이 모여 한반도 문제를 협의하였다. 모스크바 3국 외상 회의의 결정 사항이 국내에 전해지면서 주로 신탁 통치 문제가 부각되어 ‘3상 회담 결정=신탁통치’로 굳어져</p>

번호	문항
	전해졌다.
27	<p>제1차 미·소 공동 위원회 당시 미국은 모스크바 3국 외상 회의의 결정을 지지하는 단체만을 임시정부 수립을 위한 협의에 참여시킬 것을 주장하였다. 맞으면 O, 틀리면 X를 쓰시오.</p> <p style="text-align: right;">[정답] X</p> <p>【해설】 미·소 공동 위원회에서 소련은 3국 외상 회의 결정을 지지하는 단체만을, 미국은 모든 단체를 임시정부 수립에 참여시킬 것을 주장하며 대립하였다.</p>
	<p>이 사진은 1910년대 편찬된 현대적인 국어사전 원고본이다. 주시경 선생과 제자들인 김두봉, 권덕규, 이규영이 편찬하였다. 1911년부터 편찬이 시작되어 거의 원고가 마무리되었으나 편찬자들의 사망·망명 등으로 출판되지 못하였다. 그래서 <○○○> ‘원고본’이라고 하였다. 일제에 의해 우리말 사용이 금지되고, 혹독한 고문과 탄압 속에서도 우리말 사전을 지켜냄으로써 우리 얼을 지켜낸 이것은 무엇인가? (힌트! 영화배우 유해진, 윤계상이 출연하는 영화도 있었다.)</p>
28	 <p>① 우리말 ② 나랏말 ③ 말모듬 ④ 말모이</p> <p style="text-align: right;">[정답] ④ 말모이</p> <p>【해설】 말모이는 ‘말을 모으다’ 라는 뜻의 순우리말이다. 말모이는 우</p>

번호	문항
	<p>리나라 최초의 근대식 국어사전 원고이다. 1910년대 초, 주시경 선생과 그의 제자들이 일제의 언어 말살 정책에 맞서 우리말을 지키기 위해 편찬을 시작했다. 단순히 단어를 나열한 책이 아니라, 우리 민족의 정체성과 독립 의지를 담은 ‘마음의 독립운동’ 이었다. 1942년 이들이 체포된 ‘조선어학회 사건’ 은 일제가 사전 편찬을 독립운동으로 간주하여 국어학자들이 고문당했던 가슴 아픈 역사가 서려 있다. 해방 직후인 1945년 9월, 서울역 창고에서 분실된 줄 알았던 원고 문치가 기적적으로 발견되어 오늘날 『조선말 큰사전』의 밑바탕이 되었다.</p>
29	<p>모스크바 3상회의 이후 신탁통치를 둘러싼 갈등에 대한 설명으로 옳지 않은 것은?</p> <p>① 일부 언론은 “소련은 38도선 분할을 구실로 신탁 통치를 주장한 반면, 미국은 즉각 독립을 요구하였다.” 라고 사실과 다르게 보도하였다.</p> <p>② 김구, 이승만 등을 중심으로 한 우익 세력은 신탁통치를 식민 지배의 연장으로 보고 반탁 운동을 펼쳤다.</p> <p>③ 박헌영 등의 좌익 세력은 처음부터 신탁통치를 찬성하고 모스크바 3상회의 결정 사항을 지지한다는 입장을 내세웠다.</p> <p>④ 신탁통치 문제가 부각되면서 우익 세력은 좌익을 매국이라 비판하며 반탁 운동이 반소 운동으로 확대되었다.</p> <p style="text-align: right;">[정답] ③</p> <p>【해설】 미, 영, 중, 소 4개국에 의한 신탁통치안을 먼저 제안한 것은 미국이었으나, 정식 발표가 있기 전에 언론에 의해 잘못 전달되었다. 박헌영 등의 좌익 세력은 처음에는 신탁통치에 반대하는 견해를 밝혔으나, 회의 결정 사항이 알려진 이후 임시 민주 정부 수립이 중요하다고 판단하여 모스크바 3상회의 결정에 대한 총체적 지지, 즉 신탁 지지로 입장을 바꾸었다.</p>
30	<p>다음 연설을 한 인물은 이승만이다. 맞으면 O, 틀리면 X를 쓰시오.</p> <p>무기 휴회된 미·소 공동 위원회가 재개될 기색도 보이지 않으며, 통일 정부를 고대하나 여의치 않으니, 우리 남방만이라도 임시정부 혹은</p>

번호	문항
	<p>위원회 같은 것을 조직하여 38도선 이북에 있는 소련을 철폐하도록 세계 공론에 호소하여야 할 것이니 여러분도 결심해야 할 것입니다.</p> <p style="text-align: right;">[정답] O</p> <p>【해설】 위 자료는 이승만의 정읍 발언이다. 이승만은 제1차 미·소 공동 위원회가 무기한 휴회되자, 순회 연설 중인 1946년 6월 정읍에서 남한 단독 정부 수립을 공개적으로 주장하였다.</p>
31	<p>1948년 2월 26일, UN(국제연합)의 남한 단독 선거 결정 과정으로 옳지 않은 것은?</p> <p>① 국제연합은 미국과 소련이 참석한 총회에서 한반도에서 인구 비례 총선거를 시행할 것을 통과시켰다. ② 국제연합은 1948년 초 총선거 시행을 위해 UN 한국 임시위원단을 파견하였다. ③ 소련과 북한의 정치 지도자들은 UN 한국 임시위원단의 방문을 거부하였다. ④ 국제연합은 소총회를 열어 선거가 가능한 지역에서 총선거를 시행하도록 결의하였다.</p> <p style="text-align: right;">[정답] ①</p> <p>【해설】 미·소 공동 위원회가 결렬되자 미국은 한반도 문제를 국제연합에 넘겨 해결하자고 제안하였다. 반면 소련은 두 나라 군대가 동시 철수한 다음, 정부를 수립하게 하자고 주장했다. 국제연합은 소련이 불참한 가운데 총회를 열어 한반도에서 인구 비례에 따라 총선거를 시행하고, 정부를 수립하자는 미국의 제안을 통과시켰다.</p>
32	<p>8·15 광복 이후 추진된 좌우 합작 운동은 이승만 등 우익 세력이 주도하였다. 맞으면 O, 틀리면 X를 쓰시오</p> <p style="text-align: right;">[정답] X</p> <p>【해설】 1946년 좌우 합작 위원회를 조직하여 통일 정부 수립 운동을 펼친 세력은 여운형과 김규식 등 중도파이다. 이승만 등 우익 세력은 좌우 합작 위원회에 불참하였다.</p>
33	<p>다음 사건이 일어난 지역을 쓰시오.</p>

번호	문항
	<p>경찰과 서북 청년회의 탄압에 맞선 저항, 그리고 남한만의 단독 선거와 단독 정부 수립에 반대하며 1948년 4월 남로당의 무장대가 봉기한 이후 1954년까지 이어진 무력 충돌과 진압 과정에서 수많은 주민이 희생당한 사건을 말한다.</p> <p style="text-align: right;">[정답] 제주도</p> <p>【해설】 제시문은 제주 4·3 사건에 대한 설명이다. 제주도 무장 봉기와 이에 대한 진압 과정에서 무고한 제주도민이 희생되었다. 1947년 3월 1일 경찰의 발포 사건을 계기로 시작되었고, 1948년 4월 3일 제주도 일부 주민들은 남한 단독 선거 반대, 미군 철수를 주장하며 무장 봉기하였다. 군과 경찰은 우익 단체와 함께 진압 작전을 벌여 이 과정에서 2~3만 명의 주민들이 희생당했다. 2000년 ‘제주 4·3 사건 진상 규명 및 희생자 명예 회복에 관한 특별법’이 제정되어 제주 4·3 사건을 재조사하였다.</p>
34	<p>1948년 5월 10일 남한의 제헌국회를 구성하기 위해 실시된 국회의원 총선거(5·10 총선거)에 대한 설명으로 옳은 것은?</p> <p>① 우리나라 최초의 보통 선거였다. ② 5년 임기의 대통령을 선출하였다. ③ 대한민국 임시정부 설립으로 이어졌다. ④ 미·소 공동 위원회의 결정에 따라 치러졌다.</p> <p style="text-align: right;">[정답] ①</p> <p>【해설】 5·10 총선거는 21세 이상의 모든 국민이 보통·평등·비밀·직접 선거의 원칙에 따라 참여한 민주적인 선거로 제헌국회를 구성하기 위한 국회의원 선거였다. 미·소 공동 위원회는 무산되었고, 1948년 2월 26일 유엔 소총회의 결정에 따라 유엔 한국 임시위원단의 참관에 의해 5·10 총선거가 진행되었다. 선거에서 2년 임기의 제헌 국회의원을 선출하였고, 7월 17일 제헌헌법을 제정하면서 8월 15일 대한민국 정부 수립을 선포하였다.</p>
35	<p>제헌 국회의 정원은 38도선 이남 지역에 200석, 이북 지역에 100석이 배정되었다. 맞으면 O, 틀리면 X를 쓰시오.</p> <p style="text-align: right;">[정답] O</p>

번호	문항
	<p>【해설】 5·10 총선거 당시 38도선 이남 지역에 200석, 이북 지역에 100석이 배정되었고, 이북 지역은 선거가 가능해질 때 선출하기로 하였다</p>
36	<p>제헌 국회는 ‘반민족 행위 처벌법’을 제정하고 특별 조사 위원회(반민특위)와 특별 재판부를 구성하였다. 맞으면 O, 틀리면 X를 쓰시오.</p> <p style="text-align: right;">[정답] O</p> <p>【해설】 제헌 국회는 제헌 헌법에 근거하여 ‘반민족 행위 처벌법’을 제정하고 특별 조사 위원회를 구성하는 등 친일과 청산에 나섰으나, 이승만 정부의 반대 속에 반민법의 시효가 단축되면서 반민 특위는 해체되었다.</p>
37	<p>1950년 미국 국무장관 애치슨이 발표한 극동 방위선에 한국이 제외되었다. 맞으면 O, 틀리면 X를 쓰시오.</p> <p style="text-align: right;">[정답] O</p> <p>【해설】 1950년 1월 미국 국무장관 애치슨은 미국 극동 방위선을 알류얼도에서 일본을 거쳐 오키나와, 필리핀 군도로 이어지는 지역으로 정하고, 기타 태평양 지역은 군사적 공격으로부터 미군이 직접 안전을 보장할 수 없다는 내용의 성명을 발표하였다. 애치슨 선언으로 한국, 타이완, 인도차이나 반도가 미국 방위선에서 제외되었다. 하지만 발표 당시 애치슨 국무장관은 애치슨 라인 밖의 지역에서는 우선 그 나라가 방어하되, 유엔의 절차를 거쳐서 미국이 개입한다고 밝혔다.</p>
38	<p>1950년 9월, 6·25 전쟁의 전세를 역전시키는 대규모 상륙작전이 전개된 도시의 이름을 쓰시오.</p> <p style="text-align: right;">[정답] 인천</p> <p>【해설】 국군과 국제연합군이 인천 상륙 작전을 통해 6·25 전쟁의 전세를 역전시켰다.</p>
39	<p>6·25 전쟁 중 1950년 10월 19일 북한을 지원하기 위해 참전한 나라는? ① 소련 ② 중국 ③ 미국 ④ 베트남</p> <p style="text-align: right;">[정답] ②</p> <p>【해설】 1950년 10월 19일 중국이 군대를 보내 북한을 지원하였고, 중국인민지원군은 순식간에 남하하였다. 남한과 북한은 38도선 부근에서 치열한 공방을 이어갔다.</p>

번호	문항
	<p>(가)에 해당하는 도시의 이름을 쓰시오.</p>
40	<p>6·25 전쟁 중 (가)은/는 1,023일간 임시 수도 역할을 하였다. 전국 각지에서 피란민들이 몰려들며 감천 문화 마을 등 피란민의 주거지가 형성되었다. 피란민들은 일자리를 찾아 국제시장과 부두로 나섰다.</p> <p style="text-align: right;">[정답] 부산</p> <p>【해설】 6·25 전쟁이 발발한 후 대전, 대구, 부산 등이 임시 수도였다. 흥남 철수 작전과 서울 재함락 등으로 대표되는 1·4 후퇴로 부산은 재차 임시 수도가 되었으며 수많은 피란민이 생활하면서 부산 국제시장이 번창하였다.</p>
41	<p>(가)에 해당하는 지역은?</p> <p>1950년 10월 이후로 중국군의 개입으로 북한군의 전세가 다시 역전되자 12월 24일 국군과 유엔군은 (가)부두를 통해 해상 철수를 단행하였다. (가) 철수 작전에서 10만 여명의 피란민들이 함께 탈출하는 데 성공하여 세계 전쟁사에서 가장 인도주의적인 작전으로 평가받고 있다.</p> <p>① 신의주 ② 평양 ③ 흥남 ④ 청진</p> <p style="text-align: right;">[정답] ③</p> <p>【해설】 1950년 10월 19일 중국군의 개입으로 전세가 다시 북한군에 유리하게 역전되자 11월 27일 유엔군 사령부는 동부 전선 후퇴 명령을 내렸다. 중국군이 원산을 점령하여 육로는 이미 막혀있었으므로 국군과 유엔군은 흥남 부두를 통해 해상 철수를 단행하였다.</p>
42	<p>6·25 전쟁 중 북한과 중국은 포로의 무조건 본국 송환을 주장하였고, 유엔군은 포로의 자유의사를 존중하자고 주장하였다. 맞으면 O, 틀리면 X를 쓰시오.</p> <p style="text-align: right;">[정답] O</p> <p>【해설】 6·25 전쟁이 교착 상태에 빠지자 소련이 정전을 제의하였고, 미국이 제의를 받아들였다. 이승만 정부는 통일을 주장하며 휴전에 반대하였지만 정전 협상은 그대로 진행되었다. 6·25 전쟁의 포로는 자신의 의사와 관계없이 북한군 혹은 국군으로 징집된 경우가 많아서 포로</p>

번호	문항
	교환 원칙을 정하기가 쉽지 않았다. 북한과 중국 측은 포로의 무조건 본국 송환을 주장하였고, 유엔군은 포로의 자유의사를 존중하자고 주장하여 의견 차이를 좁히지 못하였다. 이러한 상황 속에서 포로들 사이에 갈등이 심화되었다. 그러던 중 이승만 정부는 정전에 반대하여 1953년 6월 18~19일 반공 포로를 일방적으로 석방하였다. 이후 미국에게 한·미 상호 방위 조약 체결, 경제 원조 등을 약속받고 정전 협상을 준수하겠다는 입장을 밝혔다.
43	<p>1953년 7월 27일 체결한 정전 협정문에 서명한 주체가 <u>아닌</u> 것은?</p> <p>① 유엔군 총사령관 ② 북한군 최고사령관 ③ 중국인민지원군 사령관 ④ 대한민국 육군 참모총장</p> <p style="text-align: right;">[정답] ④</p> <p>【해설】 정전 협정문에는 김일성 북한군 최고사령관, 평덕화이 중국인민지원군 사령관, 클라크 유엔군 총사령관이 서명하였다. 이승만 정부는 정전에 반대하였다.</p>
44	<p>정전 협정 체결 이후에 한국과 미국은 1953년 10월 1일 한미 상호 방위 조약을 맺어 미군을 한반도에 계속 주둔시켰다. 맞으면 O, 틀리면 X를 쓰시오.</p> <p style="text-align: right;">[정답] O</p> <p>【해설】 제네바 회담은 1954년 4월 26일~6월 15일까지 유엔참전국을 비롯한 19개국 외상들이 스위스 제네바 전 국제연맹회관에서 한국의 평화적 통일방안과 베트남 문제 등의 해법을 모색하기 위해 개최했던 국제정치회담이었다. 그러나 제네바 회담이 성과 없이 끝나면서 전쟁의 종전이 이루어지지 못하였다. 그 결과 군사비용이 증가하였고, 군사적 긴장이 지속되었으며 냉전 체제는 공고해졌다. 미국은 이승만 정부와 한·미 상호 방위 조약을 맺고 주한 미군을 통해 동아시아에 강력한 영향력을 행사하였다.</p>
45	다음 포로 수용소가 설치된 지역을 쓰시오.

번호	문항
	<p>6·25 전쟁이 일어나자 포로들을 수용하기 위하여 포로 수용소가 설치된 곳이다. 이곳의 포로 수용소에서는 1951년 6월 말까지 인민군 포로 15만 명, 중국군 포로 2만 명 등 최대 17만여 명의 포로를 수용하였다. 그러나 반공 포로와 친공 포로 간의 격렬한 충돌이 벌어지는 등 비극적인 사건이 많이 발생하기도 하였다.</p> <p style="text-align: right;">[정답] 거제도</p> <p>【해설】 거제도 포로수용소는 6·25 전쟁에 의한 포로들을 수용하기 위하여 설치되었다. 지금은 당시 포로들의 생활상, 막사, 사진 등 자료와 기록물을 바탕으로 거제도 포로수용소 유적공원으로 조성되어 있다.</p>
46	<p>(가)에 해당하는 나라의 이름을 쓰시오.</p> <p>6·25 전쟁은 동아시아 국제 질서의 재편을 가져왔다. 중국은 6·25 전쟁에 참전하여 미국과 대결하면서 공산주의 진영에서 위상이 높아졌으며 북한에 대한 영향력이 확대되었다. <input type="text" value="(가)"/>은/는 6·25 전쟁 특수에 힘입어 전쟁 이후로 경제 침체에서 벗어났으며 아시아의 반공 거점 국가로 자리 잡았다.</p> <p style="text-align: right;">[정답] 일본</p> <p>【해설】 일본은 패전 이후 경제난을 겪었으나 6·25 전쟁이 일어나자 미국으로부터 대량의 보급물자 생산 및 수송을 받으면서 경제가 복구되면서 크게 활성화되었다.</p>
47	<p>밑줄 친 ‘전쟁’의 결과로 옳은 것은?</p> <p>어머니! 나는 사람을 죽였습니다. …… 적은 다리가 떨어져 나가고 팔이 떨어져 나갔습니다. 너무 가혹한 죽음이었습니다. 아무리 적이지만 그들도 사람이라고 생각하니, 더욱이 같은 언어와 같은 피를 나누는 동족이라고 생각하니 가슴이 답답하고 무겁습니다. …… 어서 <u>전쟁</u>이 끝나고 어머니 품에 덜쩍 안기고 싶습니다.</p> <p style="text-align: right;">〈학도병의 편지(故 이우근 학도병)〉</p> <p>① 원자폭탄이 투하되었다.</p>

번호	문항
	<p>② 한국광복군이 결성되었다. ③ 많은 이산가족이 발생하였다. ④ 38도선이 분계선으로 설정되었다.</p> <p style="text-align: right;">[정답] ③</p> <p>【해설】 제시문에서 ‘아무리 적이지만 … 같은 언어와 같은 피를 나눈 동족’ 을 통해 밀줄 친 ‘전쟁’ 은 6·25 전쟁임을 알 수 있다. 6·25 전쟁으로 많은 이산가족이 발생하였다.</p>
48	<p>6·25 전쟁 당시 한국을 지원하는 유엔군에 포함되지 않은 국가는? ① 캐나다 ② 필리핀 ③ 뉴질랜드 ④ 이탈리아</p> <p style="text-align: right;">[정답] ④</p> <p>【해설】 유엔 안전 보장 이사회는 북한을 침략자로 규정하고, 한국을 지원하는 유엔군의 참전을 결의하였다. 이에 미국을 비롯한 16개국으로 구성된 유엔군이 참전하게 되었다. 16개국은 미국, 캐나다, 콜롬비아, 오스트레일리아, 뉴질랜드, 필리핀, 타이, 남아프리카공화국, 에티오피아, 영국, 벨기에, 프랑스, 그리스, 룩셈부르크, 네덜란드, 터키 등이다. 한편 인도, 스웨덴, 덴마크, 노르웨이, 이탈리아는 의료 지원단을 보냈다.</p>
49	<p>냉전이 심화되면서 서방세력에 대항하기 위해 1955년 소련과 동유럽 국가들이 군사 동맹으로 결성한 기구의 명칭을 쓰시오.</p> <p style="text-align: center;">[정답] 바르샤바 조약 기구(WTO)</p> <p>【해설】 소련은 유럽 각국에 있는 공산당의 정보 교환을 강화하고자 코민포름을 창설하였다(1947). 또한 소련은 코메콘(동유럽 경제 상호 원조 회의)을 만들어 동유럽 공산주의 국가에 대한 경제 지원을 강화하였다. 1955년 소련과 동유럽 국가들은 군사 동맹인 바르샤바 조약 기구(WTO)를 결성하였다. 이러한 과정을 거치면서 미국을 중심으로 한 자본주의 진영과 소련을 중심으로 한 공산주의 진영이 서로 대립하는 냉전 체제가 성립되었다.</p> <p>바르샤바 조약 기구(WTO)에 대항하기 위해 1949년 미국, 캐나다, 유럽 등 12개국이 나토(NATO, 북대서양조약기구)를 결성하였다. 나토는 한 회원국이 공격받으면 전체에 대한 공격으로 간주하는 상호 방위가 핵</p>

번호	문항
	<p>심이며, 현재 32개국이 가입해 있다. 6.25 전쟁이 발발하자 서구 사회는 “소련이 주도하는 제3차 세계대전의 전초전” 으로 인식하며 위기감을 느꼈다. “한국이 무너지면 다음은 서독” 이라는 공포가 확산되면서, 나토는 급히 유럽 연합군 최고사령부를 창설하고 아이젠하워를 초대 사령관으로 임명했다. 이로써 세계적으로 냉전이 고착화 되었다.</p>

2. '평화통일에 대한 역사적 접근' 단원 출제 의도 및 배경

통일하면 가장 먼저 떠오르는 나라는 독일이다. 그래서 독일 통일과 남북의 통일을 많이 비교한다. 과연 독일 통일은 남북 통일의 대안이 될 수 있을까?

독일 통일과 남과 북의 통일은 분단의 원인부터 다르다. 독일은 2차 세계대전을 일으킨 전범국가로 인한 징벌적 분단의 형식이었다면 남북의 분단은 두 강대국인 미국과 소련에 의한 분단이였다. 통일 과정도 독일은 1970년대부터 동, 서독은 교류를 시작했지만 1989년 11월 9일 베를린 장벽 붕괴 후 329일 뒤인 1990년 10월 3일 통일이 되었다. 그 과정이 너무 빠르게 진행이 되면서 막대한 양의 통일 비용이 발생하고, 사회적 갈등과 경제적 차이 등 통일을 이룬지 30년이 넘었지만 많은 문제점이 존재하고 있다.

독일통일의 교훈은 너무 빠른 통일은 많은 문제를 발생할 수 있다는 것이다. 하지만 여전히 통일을 떠올리면 가장 많이 나오는 질문은 “통일은 언제 되나요?”이다. 과연 통일은 ‘언제’ 될까? 그리고 통일은 ‘언제’ 되는 것이 중요할까? ‘어떻게’ 되는 것이 중요할까? 이 물음에 대한 해답은 남북이 만든 통일 방안에 있다.

1989년 <한민족공동체통일방안>을 시작으로 1994년 국회를 통과한 대한민국 유일한 통일방안인 <민족공동체통일방안>의 핵심은 통일은 ‘언제’가 아닌 ‘어떻게’를 상정하고 있다. <민족공동체통일방안>은 통일을 3단계로 나눠서 단계별로 진행한다. 1단계는 <화해, 협력>단계이다. 분단과 전쟁으로 많은 갈등이 있는 남과 북이 하루아침에 통일이 될 수 있을까? 그리고 남북대화가 단절된 지금 상황에서는? 불신과 갈등을 해결하기 위해서 대화를 통한 신뢰 회복을 바탕으로 화해와 협력을 해야 한다. 민족공동체통일방안은 시간을 정하지 않는다. 1단계를 10년 등 특정시간을 정해서 진행하고 2단계로 넘어가는 것이 아니라, 1단계를 충분히 진행하고 2단계로 넘어가는 방식이다. 이렇게 1단계를 충분히 진행해서 남북의 화해와 협력이 진행이 되면 2단계인 <남북연합>의 단계로 넘어가게 된다. 여기서 연합이란 제도는 유럽연합의 제도와 매우 유사하다. 남북은 하나의 민족이지만 현재 2개의

정부, 2개의 체제로 다르게 살고 있다. 달라진 남과 북을 인정하고 존중하면서 남북이 연합을 만들어서 평화를 더욱 공고히 하는 것이 <남북연합>단계이다. 이렇게 <남북연합>단계를 충분히 지내고 나서 마지막 단계인 <통일>로 가는 것이다. 즉 <민족공동체통일방안>은 시간을 상정하지 않고, 과정에 집중하는 것이다. 북의 통일방안인 <고려민주연방공화국 창립방안>도 시간보다는 과정에 집중하고 있다. 그래서 남북의 통일방안은 공통점이 존재하고, 이것을 확인하고 합의한 선언이 2000년 발표된 6.15공동선언이다.

이번 단원의 핵심 키워드는 바로 통일은 결과가 아닌 과정에 있고, 속도가 아닌 방향에 있다는 것이다. 이러한 접근이 나오기까지 남북대화, 남북합의, 민족공동체통일방안, 이재명 정부의 <한반도 평화공존 정책> 등에 대한 이해를 통해 대화와 협력, 소통과 교류를 통한 단계적이고, 평화로운 통일을 지향하고자 한다.

번호	문항
	2. 평화통일에 대한 역사적 접근
50	<p>제2차 세계대전 이후 유럽 지역에서는 독일뿐만 아니라 오스트리아도 분할 점령되었다. 맞으면 O, 틀리면 X를 쓰시오.</p> <p style="text-align: right;">【정답】 O</p> <p>【해설】 제2차 세계대전을 일으킨 전범국 독일은 1945년 미국, 영국, 프랑스, 소련 등 4개국에 의해 분할 점령되었다. 오스트리아 역시 독일의 병합국으로서 전쟁에 가담한 책임을 물어 동일하게 1945년 4개국에 의해 분할 관리되었으나, 1955년 ‘영구 중립화’를 조건으로 통일을 이루고 주권을 회복했다.</p>
51	<p>독일은 1990년 ‘2+4회담’을 통해 독일 통일에 대한 미국, 소련, 영국, 프랑스의 동의를 획득하였다. 동서독과 승전 4개국 외상은 ‘독일 문제의 최종 해결에 관한 조약’에 합의했으며, 이로써 독일 통일에 대한 국제적 장애가 완전히 제거되었다. 맞으면 O, 틀리면 X를 쓰시오.</p> <p style="text-align: right;">【정답】 O</p> <p>【해설】 1990년 9월에 열린 ‘2+4회담’은 통일 이후 독일의 국제 지위를 논의하기 위해서 동독과 서독, 미국, 소련, 영국, 프랑스의 대표가 모인 회의이다. ‘2+4회담’에서 ‘독일 문제의 최종 해결에 관한 조약’</p>

번호	문항
	에 합의를 이끌어냄으로써 독일 통일에 대한 국제적 장애를 완전히 제거하였다.
52	<p>1960년대부터 ‘접근을 통한 변화’를 표방한 서독의 동방 정책은 동독과 동유럽 공산국가들의 실체를 먼저 인정한 뒤 접근하자는 것으로 빌리 브란트 총리가 주도한 정책이다. 맞으면 O, 틀리면 X를 쓰시오.</p> <p style="text-align: right;">[정답] O</p> <p>【해설】 빌리 브란트 서독 총리의 동방 정책은 통일을 직접 언급하지 않는 대신 서신 허용, 통행 허용, 가족 방문과 같은 작은 조치들로 먼저 변화를 이끌자는 정책으로 ‘작은 발걸음 정책’으로도 불린다.</p>
53	<p>제2차 세계대전 이후 독일의 분할에 참여하지 않은 나라는? ① 미국 ② 영국 ③ 프랑스 ④ 중국</p> <p style="text-align: right;">[정답] ④</p> <p>【해설】 제2차 세계대전 패전 후 독일은 포츠담 회담 결과에 따라 1945년 연합국인 미국, 영국, 프랑스, 소련에 의해 4개의 점령구역으로 분할되었다. 수도 베를린 역시 4개국이 분할 점령했다. 이후 냉전이 심화되면서 1949년 서방 점령구역은 독일연방공화국(서독)으로, 소련 점령구역은 독일민주공화국(동독)으로 각각 정부가 수립되며 공식적으로 분단되었다.</p>
54	<p>1969년 서독 사민당이 추진한 ‘동방정책’과 관련하여 옳지 않은 것은? ① 빌리 브란트 총리가 추진한 동구 공산권과의 관계정상화를 위한 외교 정책이다. ② 동독을 정식국가로 승인한 나라와는 외교관계를 갖지 않기로 하는 ‘할슈타인 원칙’을 폐기했다. ③ 동방정책은 베트남의 통일에 결정적 영향을 주었다. ④ 이 정책으로 이산가족 상봉, 전화 및 우편 개통, 경제 교류 등 동서독간의 활발한 교류가 시작되었다.</p> <p style="text-align: right;">[정답] ③</p> <p>【해설】 베트남은 베트남 전쟁의 결과로 1976년 7월 2일 남북 베트남이 통합하여 베트남사회주의공화국을 수립하면서 하나의 국가로 통일되었다. 한편, 빌리 브란트 총리는 소련과의 기본조약(1970), 폴란드와의 바</p>

번호	문항
	르샤바조약(1970), 베를린에 대한 4강대국협약(1971), 체코슬로바키아와의 우호조약(1973) 등으로 화해 정책을 추구한 공로로 1971년에 노벨평화상을 받았다.
55	<p>분단국 통일의 교훈 중에서 특히 다음과 같은 내용이 강조하는 교훈으로 가장 적절한 것은?</p> <div style="border: 1px solid black; padding: 5px;"> <p>독일은 통일독일이 주변 국가들에 안보 위협이 되기보다는 유럽 전체의 평화와 번영을 촉진시킬 것임을 강조하였다. 독일 통일에 적극적이었던 미국과 긴밀히 협조하면서, 통일에 미온적이었던 소련, 영국, 프랑스의 양보를 얻어냄으로써 통일을 성취할 수 있었다.</p> </div> <p>① 평화적인 방법으로 통일을 이루어야 한다. ② 국민적 합의를 바탕으로 투명하게 추진되어야 한다. ③ 국민들의 올바른 통일 의식과 실질적 통일준비가 이루어져야 한다. ④ 통일에 우호적인 환경을 조성하기 위해 주변국과의 협력을 강화해 나가야 한다.</p> <p style="text-align: right;">[정답] ④</p> <p>【해설】 베트남은 1976년 무력으로 통일되었으나 막대한 인명 피해와 경제적 손실을 겪었으며, 이는 평화적 방법의 중요성을 시사한다. 예멘은 지도자 간의 전격적인 합의로 통일했으나 국민적 합의와 투명한 준비 과정이 부족하여 다시 내전에 휩싸이는 아픔을 겪었다. 독일은 동독이 서독에 가입하는 급격한 편입 통일 방식을 택하면서 막대한 통일 비용 발생과 주민 간 심리적 이질감이라는 과제를 남겼으며, 이는 철저한 사전 준비의 필요성을 보여준다. 그러나 독일은 ‘2+4 회담’을 통해 주변국인 미·소·영·프의 지지를 끌어냄으로써 통일에 우호적인 국제 환경을 조성하여 통일을 성취하였다.</p>
56	다음에서 설명하는 용어를 쓰시오.

번호	문항
	<p>1990년 법적 통일을 이루기 전, 서독은 ‘동방 정책’을 통해 동독과 꾸준히 교류하며 이산가족 상봉, 우편 및 전화 개통, 활발한 경제 협력을 이어갔다. 독일에서 정치·법적으로는 분단 상태이지만 교류와 협력이 지속적으로 진행되어 통일된 것과 비슷한 상황을 뜻하는 용어는 무엇인가?</p> <p style="text-align: center;">[정답] 사실상의 통일(사실상 통일)</p> <p>【해설】 ‘사실상의 통일(de facto unification)’이란 말은 독일에서 나왔다. 독일은 전범국가여서 주변 어느 나라도 통일을 바라지 않고 반대했다. 그래서 서독은 법적 통일 대신 동독과 경제협력과 교류, 인도적 지원, 왕래를 통해 민족의 고통을 덜어주면서 통일은 안됐지만 통일된 것과 유사한 상황을 만들려고 하였다. 이것이 바로 ‘사실상의 통일’이다.</p> <p>또한 ‘사실상의 통일’은 법적 통일로 가기 위한 과정을 의미한다. 서독은 갑작스런 체제의 통일이 정치, 사회, 경제적으로 많은 부담을 발생시키기 때문에 교류와 협력의 과정을 충분히 지내면서 민족의 동질성을 회복한 후에 하나의 정치적 체제로 법적으로 통일하는 것이 바람직하다고 판단하였다.</p>
57	<p>분단된 독일의 서독에서 1976년에 만들어진 이후 지속적으로 적용된 정치사회 문제에 관한 교육의 원리가 있다. 이 원리의 적용으로 서독의 민주적 시민성이 고양되었다고 평가되는 것으로서, 분단과 통일을 포함하는 민감하고 분열되기 쉬운 주제를 교육에서 다룰 때 항상 다음과 같은 원칙을 적용하기로 한 서독에서의 사회적 합의를 무엇이라고 하는가?</p>

번호	문항
	<ol style="list-style-type: none"> 바람직한 의견이라는 이름으로 어떠한 수단으로도 학생들에게 특정 생각을 주입하거나 자립적인 판단 획득을 방해하는 것은 허락되지 않는다. <주입-교화 금지 원칙> 학문과 정치에서 논쟁적인 것은 수업에서도 논쟁적으로 나타나야 한다. <논쟁성 재현 원칙> 학생들이 정치적 상황과 자신의 관심 상황을 분석할 능력, 그리고 그의 관심영역에 놓인 현존하는 상황에 영향을 끼치는 수단과 방법을 찾는 능력을 갖출 수 있도록 해주어야 한다. <이해 상관성 원칙> <p style="text-align: right;">[정답] 보이텔스바흐 합의</p> <p>【해설】 이는 1976년 서독의 소도시 보이텔스바흐에서 보수 및 진보 정치교육학자들이 토론 끝에 합의한 교육 지침이다.</p>
58	<p>독일 통일 이후 동독 지역 출신을 ‘오씨(Ossi)’, 서독 지역 출신을 ‘베씨(Wessi)’라고 부르며 발생한 심리적·문화적 갈등을 ‘머릿속의 장벽’이라고 한다. 맞으면 O, 틀리면 X를 쓰시오.</p> <p style="text-align: right;">[정답] O</p> <p>【해설】 1990년 법적·정치적 통일은 이루어졌으나, 오랜 기간 서로 다른 체제에서 살아온 주민 간의 심리적 이질감은 쉽게 사라지지 않았다. 동독인을 비하하는 ‘오씨(게으른 동쪽 사람)’와 서독인을 비하하는 ‘베씨(거만한 서쪽 사람)’라는 표현은 이러한 갈등을 상징적으로 보여준다. 독일은 이를 ‘머릿속의 장벽’이라 부르며, 진정한 통합을 위해서는 물리적 결합뿐만 아니라 마음의 통합이 중요하다는 교훈을 남겼다.</p>
59	<p>독일의 베를린 장벽에 대한 설명 중 옳은 것은 무엇인가?</p> <ol style="list-style-type: none"> 베를린 장벽은 1945년 독일 분단과 동시에 건설되었다. 베를린 장벽은 1949년 동·서독 정부 수립 직후 세워졌다. 베를린 장벽은 1961년 동독 주민의 탈출을 막기 위해 동독 정부에 의해 기습적으로 건설되었다. 베를린 장벽은 1970년대 동서독의 교류를 관리하기 위해 세워졌다.

번호	문항
	<p style="text-align: right;">[정답] ③</p> <p>【해설】 베를린 장벽은 분단 직후에 생긴 것이 아니라, 분단 후 약 12년이 지난 1961년에 건설되었다. 1945년 분할 점령과 1949년 각각의 정부 수립 이후에도 주민들의 왕래는 일정 부분 가능했으나, 동독 주민들이 대거 서방으로 탈출하자 동독 정권이 이를 차단하기 위해 1961년 8월 13일 기습적으로 장벽을 쌓은 것이다.</p>
60	<p>다음 중 베트남의 통일 과정과 결과에 대한 설명으로 가장 적절한 것은 무엇인가?</p> <p>① 남과 북이 평화로운 대화를 통해 투표로 합의 통일을 이루었다. ② 오랜 전쟁 끝에 북베트남이 무력으로 남베트남을 점령하며 통일되었다. ③ 주변 강대국들의 주도로 전쟁 없이 민주적인 절차에 따라 통일되었다. ④ 경제 협력이 활발해지면서 자연스럽게 하나의 국가로 합쳐졌다.</p> <p style="text-align: right;">[정답] ②</p> <p>【해설】 베트남은 우리처럼 남북으로 갈라져 있었으나, 통일의 방식은 매우 비극적이었다. 1975년 북베트남 군대가 남베트남의 수도인 사이공을 함락시키면서 전쟁을 통한 무력 통일이 완성되었다. 이 과정에서 수많은 인명이 희생되었고 국토는 황폐해졌다. 따라서 지금의 베트남 경제성장이 이루어지기까지는 많은 시간이 소비되었다. 이는 우리에게 한반도의 통일은 반드시 전쟁이 아닌 평화적인 방법으로 이루어져야 함을 일깨워주는 중요한 반면교사가 된다.</p>
61	<p>1990년 북예멘과 남예멘은 정치 지도자 간의 전격적인 합의를 통해 통일을 선언했으며, 이후 현재까지 내전 없이 평화로운 상태를 유지하고 있다. 맞으면 O, 틀리면 X를 쓰시오.</p> <p style="text-align: right;">[정답] X</p> <p>【해설】 예멘은 1990년 합의에 의한 통일을 이루어 큰 주목을 받았으나, 국민적 합의와 사회적 통합 준비가 부족한 상태에서 지도자 간의 정치적 결합에만 치중했다. 그 결과 통일 4년 만인 1994년 다시 내전이 발발했으며, 이후에도 종교 및 부족 간의 갈등이 지속되며 현재까지도</p>

번호	문항
	<p>극심한 혼란을 겪고 있다. 이는 제도적인 통일보다 신뢰 구축과 주민 간의 실질적인 통합이 통일의 지속 가능성을 결정한다는 중요한 교훈을 준다.</p>
62	<p>중국과 대만은 정치적으로는 대립하고 있지만, 매년 인적 교류와 항공기 운항이 이루어지고 있다. 맞으면 O, 틀리면 X를 쓰시오.</p> <p style="text-align: right;">[정답] O</p> <p>【해설】 중국과 대만은 공식적으로 서로를 국가로 인정하지 않고, 군사적으로 심각하게 대치하는 긴장 관계에 있지만, 민간 차원에서는 교류가 꾸준히 진행되고 있다. 인적 교류 측면에서는 2024년 기준 대만 내 중국 출신 배우자가 약 36만 6,000명에 달해 양측을 잇는 가교 역할을 하고 있으며, 교육 분야에서도 매년 1만 명 이상의 대만 학생이 중국 본토에서 유학하는 등 청년 세대의 왕래가 꾸준히 이어지고 있다. 또한, 양측 주요 도시를 연결하는 항공기 직항 노선이 상시 운영됨에 따라 2025년 기준 연간 인적 교류 규모가 약 545만 명을 기록할 만큼 밀접한 상호 의존성을 유지하고 있다.</p>
63	<p>중국 대륙(중국)과 타이완섬(대만) 사이의 좁은 바다를 사이에 둔 관계를 뜻하는 말로, 현재 두 나라의 관계를 부르는 명칭은 무엇인가?</p> <p style="text-align: right;">[정답] 양안 관계 (또는 양안)</p> <p>【해설】 ‘양안(兩岸)’이란 바다를 사이에 둔 두 개의 해안이라는 뜻으로, 중국 대륙과 대만 사이의 관계를 일컫는 공식적인 용어다. 중국과 대만은 이 ‘양안 관계’를 통해 정치적 대립 속에서도 활발한 경제적 교류를 이어가고 있다.</p>
64	<p>1972년 남북은 「7·4 남북공동성명」을 통해 ‘자주, 평화, 민족대단결’이라는 통일 원칙에 합의하였다. 맞으면 O, 틀리면 X를 쓰시오.</p> <p style="text-align: right;">[정답] O</p> <p>【해설】 1972년 「7·4 남북공동성명」의 핵심은 ‘자주, 평화, 민족대단결’ 원칙이다. 즉, 외세의 의존이나 간섭 없이 자주적으로, 무력행사에 의하지 않고 평화적인 방법으로 사상과 이념 및 제도의 차이를 초월하여 민족적 대단결을 도모하여야 한다는 것이다.</p>
65	<p>1972년에 발표한 남북 간 합의 문서인 「7·4 남북공동성명」은 남북</p>

번호	문항
	<ul style="list-style-type: none"> • 상대방의 체제를 인정하고 존중한다. • 상대방을 무력으로 침략하지 않는다. • 자원의 공동 개발, 민족 내부의 교류로서 물자 교류, 합작 투자 등 경제 교류와 협력을 실시한다.
72	<p>2000년 남북정상회담에서 발표한 「6·15 남북공동선언」을 계기로 금강산 관광이 시작되었다. 맞으면 O, 틀리면 X를 쓰시오.</p> <p style="text-align: right;">[정답] X</p> <p>【해설】 금강산 관광은 1989년 故 정주영 회장이 방북하여 금강산 남북공동개발 의정서를 체결한 후, 1998년 6월 북한과 현대가 금강산 관광사업 계약을 체결하면서 본격 추진되었으며, 1998년 11월 18일 ‘금강호’가 첫 출항하였다. 그러나 2008년 7월 한국 관광객이 피격되어 사망하는 사건을 계기로 중단되었다.</p>
73	<p>2000년 6월 15일 남한의 김대중 대통령과 북한의 김정일 국방위원장이 합의한 「6.15 남북공동선언」은 통일 방안으로 '1국가 1체제'의 즉각적인 수립을 최우선 약속으로 담고 있다. 맞으면 O, 틀리면 X를 쓰시오.</p> <p style="text-align: right;">[정답]: X</p> <p>【해설】 「6.15 남북공동선언」은 통일 문제를 자주적으로 해결하고, 남측의 연합제와 북측의 낮은 단계 연방제 간의 공통성을 인정하는 데 합의한 것이다. 이 선언은 이산가족 문제와 같은 인도적 사안의 조속한 해결 및 경제협력을 포함한 남북 간 교류 활성화 등 5개 조항을 핵심으로 하고 있다. 이재명 정부는 이러한 역대 정부의 공동선언 정신을 계승하여 통일지향의 평화공존을 일관되게 추구하고 있다. '1국가 1체제'는 민족공동체통일방안의 최종 단계인 완전통일 단계에 해당하는 내용으로, 당시 선언의 주요 합의 사항과는 차이가 있는 것이다.</p>
74	<p>남북관계 전개에 있어 2000년 6월 15일 남북정상회담과 정상회담에서 합의된 「6·15 남북공동선언」은 중요한 전환점을 가져왔다. 다음 중 「6·15 남북공동선언」 이후 나타난 변화로 옳은 것은?</p> <p>① 남북경제회담이 개최되었다. ② 남북협력기금이 설치되었다. ③ 이산가족 면회소가 설치되었다.</p>

번호	문항
	<p>④ 남북조절위원회가 설치되었다.</p> <p style="text-align: right;">[정답] ③</p> <p>【해설】 2000년 6월 15일 남북정상회담이후 다양한 형태의 남북회담과 남북 간 인적, 물적 교류협력이 확대되었으며 특히 「6·15 남북공동선언」 이후 이산가족 상봉이 활성화되어 금강산에 이산가족 면회소가 설치되었다. ① 전두환 정부(1984년~1985년), ② 노태우 정부(1990년~1991년), ④ 박정희 정부(1972년) 시기의 일이다.</p>
75	<p>다음 합의서가 작성될 수 있었던 계기로 가장 적절한 것은?</p> <div style="border: 1px solid black; padding: 5px;"> <p>< 남북 철도 및 도로 연결 실무 협의회 제1차 회의 합의서 > 남과 북은 2002년 9월 13일부터 17일까지 금강산에서 철도 및 도로 연결 실무 협의회 제1차 회의를 가지고 경의선과 동해선 철도 및 도로 연결을 위한 실무적 문제들에 대하여 다음과 같이 합의하였다. 경의선과 동해선 철도 및 도로 연결을 위한 착공식은 9월 18일에 하며 착공식 시간, 장소, 형식 등은 문서 교환 방식으로 착공식 하루 전에 교환한다. (이하생략)</p> </div> <p>① 「남북기본합의서」 채택 ② 「7·4 남북공동성명」 발표 ③ 「6·15 남북공동선언」 발표 ④ ‘민족공동체통일방안’ 발표</p> <p style="text-align: right;">[정답] ③</p> <p>【해설】 2000년 남북정상회담에 따른 「6·15 남북공동선언」의 발표 이후 개성공단 건설, 경의선 복구 사업과 같은 남북한 경제협력이 추진되었다.</p>
76	<p>남과 북의 정상이 최초로 만나 합의한 2000년 「6·15 공동선언」에서는 ‘남과 북은 나라의 통일을 위한 남측의 (가)안과 북측의 낮은 단계의 (나)안이 서로 공통성이 있다고 인정하고 앞으로 이 방향에서 통일을 지향시켜 나가기로 하였다’라는 조항을 채택하였다. (가)와 (나)에 들어갈 용어를 순서대로 쓰시오.</p> <p style="text-align: right;">[정답] 연합제, 연방제</p> <p>【해설】 연합(confederation)은 복수의 국가가 개별적인 주권을 유지하면서 특정한 권한을 보유하는 연합기구를 구성하여 특정한 영역의 사항</p>

번호	문항
	에 대해 협의하여 공동의 기능을 수행하는 국가결합을 뜻한다. 이에 반해 연방(federation)은 일반적인 의미에서 구성국 정부들이 국제법상 국가로서의 자격을 잃고 연방국가만이 국가의 자격을 갖게 되는 국가결합을 의미한다.
77	<p>2007년 10월 남북정상회담에서 합의한 「남북관계 발전과 평화번영을 위한 선언」에서 남과 북은 군사적 적대관계를 종식시키고 한반도에서의 긴장완화와 평화를 보장하기 위해 긴밀히 협력하기로 합의하였다. 맞으면 O, 틀리면 X를 쓰시오.</p> <p style="text-align: right;">[정답] O</p> <p>【해설】 2007년 10월 4일 남북정상회담 결과 남북 정상은 「남북관계 발전과 평화번영을 위한 선언」에 합의하였는데 동 선언 제3항에서 “남과 북은 군사적 적대관계를 종식시키고 한반도에서의 긴장완화와 평화를 보장하기 위해 긴밀히 협력하기로 하였다.”</p>
78	<p>2007년 남북정상회담 후 발표된 「남북관계 발전과 평화번영을 위한 선언(10·4 선언)」의 내용으로 옳은 것은?</p> <p>① 남과 북은 5·24 조치를 해제하기로 하였다. ② 남과 북은 남북조절위원회를 설치하기로 하였다. ③ 남과 북은 경의선 복구 공사에 착수하는데 합의하였다. ④ 남과 북은 서해에 공동어로구역 설치를 적극 추진하기로 하였다.</p> <p style="text-align: right;">[정답] ④</p> <p>【해설】 2007년 10월 노무현 대통령은 평양을 방문하여 김정일 국방위원장과 정상회담을 갖고 「10·4 선언」(정식 명칭: 남북관계 발전과 평화번영을 위한 선언)을 발표하였다. 이 선언은 2000년 「6·15 남북공동선언」의 정신을 계승하고 이를 더욱 구체화한 합의서로 평가받는다. 주요 합의 내용은 다음과 같다. 첫째, 남과 북은 군사적 적대관계를 종식시키고 한반도에서의 긴장완화와 평화를 보장하기 위해 긴밀히 협력하기로 하였다. 둘째, 서해에서의 우발적 군사 충돌을 방지하기 위해 공동어로구역 설치를 적극 추진하기로 합의하였다. 셋째, 민족 경제의 균형적 발전과 공동 번영을 위해 경제 협력 사업을 ‘공리공영’과 ‘유무상통’ (있는 것과 없는 것을 서로 교환함)의 원칙에서 적극 활성화하기로</p>

번호	문항
	하였다.
79	<p>‘유무상통’이라는 말은 남과 북의 경제 교류의 원칙으로 남측과 북측이 서로 있고 없는 것을 교환한다는 의미이다. 맞으면 O, 틀리면</p> <p style="text-align: right;">[정답] 유무상통</p> <p>【해설】 2007년 남북 정상회담에서 맺은 10.4선언의 5항에서 “남과 북은 민족경제의 균형적 발전과 공동의 번영을 위해 경제협력사업을 공리공영과 유무상통의 원칙에서 적극 활성화하고 지속적으로 확대발전시켜 나가기로 하였다”</p>
80	<p>다음은 우리 정부의 한반도 평화정착을 위한 노력들중 하나인 「4·27 판문점선언」에 대한 설명이다. 맞으면 O, 틀리면 X를 쓰시오.</p> <div style="border: 1px solid black; padding: 5px;"> <p>2018년 4월 27일 「판문점선언」에 따라 남북은 상대방에 대한 일체의 적대행위를 전면 중지하기로 하였고, 곧바로 군사분계선 일대에서 확성기 방송 및 전단 살포 등의 적대행위도 중지하기로 했으며, 또한 서해 북방한계선 일대를 평화수역으로 만들어 우발적인 군사적 충돌을 방지하기로 합의했다.</p> </div> <p style="text-align: right;">[정답] O</p> <p>【해설】 2018년 4월 27일 「한반도의 평화와 번영, 통일을 위한 판문점선언」에서 남과 북은 한반도에서 첨예한 군사적 긴장상태를 완화하고 전쟁 위험을 실질적으로 해소하기 위하여 공동으로 노력해 나갈 것을 합의하였다. 구체적으로, 남과 북은 군사분계선 일대에서 확성기 방송과 전단 살포를 비롯한 모든 적대 행위들을 중지하고 그 수단을 철폐하며 앞으로 비무장지대를 실질적인 평화지대로 만들어 나가기로 하였고, 서해 북방한계선 일대를 평화수역으로 만들어 우발적인 군사적 충돌을 방지하고 안전한 어로 활동을 보장하기 위한 실제적인 대책을 세워나가기로 하였다.</p>
81	<p>2018년 9월 평양정상회담에서 채택된 「판문점선언 이행을 위한 군사분야 합의서」(‘9·19 군사합의서’)에서 남과 북은 비무장지대에서의 완충구역 설정 및 우발적 충돌 방지, DMZ 내 GP 시범 철수 및 JSA 비무장화, 공동 유해 발굴 및 한강하구 공동이용수역 설정, 서해 평화수</p>

번호	문항
	<p>역·공동어로구역 설정 등에 합의하였다. 맞으면 O, 틀리면 X를 쓰시오.</p> <p style="text-align: right;">[정답] O</p> <p>【해설】 2018년 9.19 군사합의 주요 내용은 완충구역 설정 및 우발적 충돌 방지, DMZ 내 GP 시범 철수 및 JSA 비무장화, 공동 유해 발굴 및 한강하구 공동이용수역 설정, 서해 평화수역·공동어로구역 합의 등이다.</p>
82	<p>다음 제시문에서 ()에 들어갈 말을 쓰시오.</p> <div style="border: 1px solid black; padding: 5px;"> <p>2018년 9월 평양정상회담에서 채택된 「판문점선언 이행을 위한 군사분야 합의서」(‘9·19 군사합의서’)에 따라 남과 북은 지상, 해상, 공중을 비롯한 모든 공간에서 우발적인 무력 충돌을 방지하기로 하였다. 이를 위해 남북은 접경지역 일대에서 적대 행위를 전면 중지하기로 하고 이 공간인 ()을 설정하는 데 합의하였다.</p> </div> <p style="text-align: right;">[정답] 완충구역</p> <p>【해설】 2018년 9월 평양정상회담 당시 남북이 체결한 「판문점선언 이행을 위한 군사 분야 합의서」, 즉 ‘9·19 군사합의서’는 한반도에서 참여한 군사적 긴장 상태를 완화하고 전쟁 위험을 실질적으로 해소하기 위한 구체적인 실천 방안을 담고 있다. 이 합의의 핵심 내용 중 하나는 군사분계선 일대에서 우발적인 충돌이 전면적인 무력 충돌로 번지는 것을 막기 위해 지상·해상·공중 모든 공간에 완충구역을 설정하는 것이었다. 지상에서는 군사분계선으로부터 일정 거리 내에서 포병 사격 훈련 및 야외 기동 훈련을 중지하고, 해상에서는 서해 및 동해 북방한계선 일대를 평화수역으로 지정하여 함포 사격 등을 금지하며, 공중에서는 기종별로 비행금지구역을 설정하는 조치 등이 포함되었다.</p>
83	<p>대한민국의 공식 통일방안인 ‘민족공동체통일방안’이다. 맞으면 O, 틀리면 X를 쓰시오.</p> <p style="text-align: right;">[정답] O</p> <p>【해설】 1989년 노태우 정부에서 제시된 ‘한민족공동체통일방안’은 여야 합의로 인정되었는데, 이를 계승하여 김영삼 대통령이 1994년 8·15 경축사에서 발표된 ‘민족공동체통일방안’으로 발전되면서 정부의 공식 통일 방안으로 자리잡았다. ‘민족공동체통일방안’은 남북한이</p>

번호	문항
	<p>화해협력 단계와 남북연합 단계를 거쳐 1민족, 1국가, 1체제, 1정부의 통일국가를 수립한다는 단계적, 점진적 통일을 추구하고 있다.</p>
84	<p>‘민족공동체통일방안’에서 제시하는 통일의 3단계를 순서대로 배열하시오.</p> <div style="border: 1px solid black; padding: 5px;"> <p>ㄱ. 남북연합 단계 ㄴ. 화해협력 단계 ㄷ. 1민족 1국가 1체제 1정부의 통일국가 단계</p> </div> <p style="text-align: right;">[정답] ㄴ-ㄱ-ㄷ</p> <p>【해설】 ‘민족공동체통일방안’은 통일은 하나의 민족공동체를 건설하는 방향에서 점진적이고 단계적으로 나아가야 한다는 기초에서 통일의 과정을 3단계로 제시한다. 즉, 화해협력 단계, 남북연합 단계를 거쳐, 1민족·1국가·1체제·1정부의 통일국가를 완성해야 한다는 것이다.</p>
85	<p>다음의 내용은 우리 정부의 공식적인 통일방안인 ‘민족공동체통일방안’에 대한 설명이다. 구체적으로 어떤 단계의 통일과정을 설명하고 있는지를 쓰시오.</p> <div style="border: 1px solid black; padding: 5px;"> <p>남북 간의 교류와 협력이 활발해지고 제도화되는 단계로 남북은 상호 신뢰를 구축하면서 평화정착과 민족의 동질화를 촉진해 나가는 한편 남북한의 합의에 따라 법적·제도적 장치가 체계화되고 남북한이 공동으로 구성하는 기구-남북정상회의, 남북각료회의, 남북평의회, 공동사무처 등-에서 국가통합을 위한 여러 가지 방안들이 논의 된다.</p> </div> <p style="text-align: right;">[정답] 남북연합(단계) 유사정답 : 남북연합 / 남북연합단계 / 연합단계</p> <p>【해설】 남북연합 단계는 통일로 가는 중간과정으로 남한과 북한은 국제사회에서 독립된 개별적 주권국가로 존재하지만, 민족내부관계에서는 기능적으로 결합된 느슨한 형태로 통일 지향적인 협력관계를 통해 통합과정을 관리해 나가는 단계이다.</p>
86	<p>다음 중 남북정상회담과 정상회담에서 합의된 선언의 연결로 바르지 못한 것은?</p>

번호	문항
	<p>① 2000년 6월 정상회담-「6·15 남북공동선언」 ② 2007년 10월 정상회담-「10·4 선언」 ③ 2018년 9월 정상회담-「9월 평양공동선언」 ④ 2018년 5월 정상회담-「판문점선언」</p> <p style="text-align: right;">[정답] ④</p> <p>【해설】 「판문점선언」은 2018년 4월 27일 정상회담에서 합의한 것이다. 2018년 5월 26일 판문점 통일각에서 열린 정상회담에서는 별도의 선언 없이 6·12 싱가포르 북미정상회담의 성공과 판문점선언의 조속한 이행을 재확인하고, 앞으로도 필요한 경우 격의 없이 소통하기로 합의하였다.</p>
87	<p>우리나라 역대정부의 통일정책에 대한 설명으로 옳은 것은?</p> <p>① 1970년 이전에는 ‘선평화·후통일’ 론이 제시되었다. ② 1990년대 이후 우리나라 정부의 통일 접근의 주요 시각은 남북문제 해결의 3 단계론이다. ③ 민족화합 민주통일방안은 ‘자주·평화·민주’ 를 통일의 원칙으로 ‘자유·인권·행복’ 이 보장되는 민주국가를 통일국가의 미래상으로 제시하였다. ④ 김영삼 정부는 처음으로 남북정상회담을 개최해 남북관계 개선방향과 당면 실천과제 5개항을 담은 「6·15 남북공동선언」 을 채택하였다.</p> <p style="text-align: right;">[정답] ②</p> <p>【해설】 1970년 이전 통일론은 선 건설 후 통일로 경제발전 이후 통일을 추진한다는 입장이었다. 선 평화 후 통일론으로의 전환은 1974년 8월 15일 ‘평화통일 3대 기본원칙’ 이후 이루어졌다. 1989년 ‘자주·평화·민주’ 를 통일의 원칙으로 ‘자유·인권·행복’ 이 보장되는 민주국가를 통일국가의 미래상으로 제시한 통일방안은 ‘한민족공동체통일방안’ 이다. 2000년 「6·15 남북공동선언」 을 채택한 정부는 김대중 정부이다.</p>
88	<p>이재명 정부는 2025년 출범 이후 남북 간 신뢰 회복을 위해 전단 살포 중단, 대북 확산기 방송 중단 등의 조치를 시행해 왔다. 맞으면 O, 틀리</p>

번호	문항
	<p>면 X를 쓰시오.</p> <p style="text-align: right;">[정답] O</p> <p>【해설】 신뢰는 말이 아니라 구체적인 실천 행동을 통해 만들어진다. 것이 이재명 정부의 실천적인 입장이다. 정부는 취임 직후부터 남북 간 군사적 긴장을 고조시키고 우발적 충돌의 원인이 될 수 있는 대북 전단 살포와 확산기 방송 중단 조치를 선제적으로 취해 왔다. 이는 남북 간 무너진 신뢰를 회복하고 상호 존중의 자세로 관계를 전환하기 위한 필수적인 첫걸음이었다. 적대와 대결의 악순환을 끊어내고 평화로운 한반도의 새 시대를 열어가기 위해, 정부가 약속한 사항들을 행동으로 보여줌으로써 평화 정착의 진정성을 입증하고자 하는 것이다.</p>
89	<p>이재명 정부가 국민의 알권리 보장과 북한에 대한 객관적 이해를 돕기 위해 시행한 조치는?</p> <p>① 북한 웹사이트 전면 차단 강화 ② 노동신문 및 북한방송 등 북한 자료 공개 단계적 확대 ③ 북한 영화 및 드라마 시청 시 처벌 강화 ④ 민간의 북한 자료 소지 전면 금지</p> <p style="text-align: right;">[정답] ②</p> <p>【해설】 이재명 정부는 주권자인 국민이 북한의 실상을 객관적으로 파악하고 평화와 통일에 대한 담론을 주도할 수 있도록 지원하고자 한다. 과거 국가 안보 등을 고려하여 열람이 제한되었던 노동신문과 북한 방송 등 북한 매체를 국민에게 전면 공개하거나 그 범위를 확대하는 조치를 취하고 있다. 2025년 12월 30일부터 북한 노동신문을 국립중앙도서관과 국회도서관, 대학 도서관 등에서 일반 자료처럼 제한 없이 열람하는 방안이 시행되었다.</p>
90	<p>다음 중 이재명 정부가 추진하는 ‘한반도 평화공존 정책’의 3대 목표가 아닌 것은?</p> <p>① 남북 간 평화공존 제도화 ② 한반도 공동성장 기반 구축 ③ 전쟁과 핵 없는 한반도 실현 ④ 북한 인권 문제를 통한 체제 전환 유도</p>

번호	문항
	<p style="text-align: right;">[정답] ④</p> <p>【해설】 이재명 정부의 평화공존 정책은 ①남북 간 평화공존 제도화, ②한반도 공동성장 기반 구축, ③전쟁과 핵 없는 한반도 실현이라는 세 가지 명확한 목표를 지향하고 있다. 정부는 상대의 체제를 인정하고 존중하는 상호 인정의 원칙에서 출발하므로, 북한의 인위적인 체제 전환이나 흡수 통일을 목표로 설정하지 않는다. 인권 문제 역시 평화공존 정책과 조화를 이루는 방향으로 추진하며, 실질적인 삶의 질 개선을 도모하는 실용적 접근을 취하고 있다. 따라서 특정 체제의 붕괴를 유도하거나 대결을 조장하는 방식은 이 정책의 목표와 상반되는 것임을 알 수 있다.</p>
	<p>평화가 경제 협력을 촉진하고, 경제 협력이 평화를 공고히 하는 선순환 구조를 구축하여 남북 주민 모두에게 이익이 되도록 하는 경제를 무엇이라고 부르는가?</p> <p style="text-align: right;">[정답] 평화경제</p> <p>【해설】 「평화경제」는 평화를 단순한 전쟁 부재 상태를 넘어 지속 가능한 번영을 창출하는 핵심적인 성장 동력으로 정의하고 있다. 이는 한반도 리스크를 해소하여 국가 신인도를 높이는 ‘한반도 프리미엄’을 창출하고, 남북 경제 공동체를 통해 새로운 성장 기회를 마련하려는 전략이다. 관광 협력, 철도·도로 연결, 개성공단 재개 등 남북 경협 사업을 정상화하고 신성장 산업을 접목한 새로운 경제 모델을 개발하는 내용을 포함하고 있다. 이재명 정부는 접경지역을 평화경제의 거점으로 육성하여 지역 균형 발전을 도모하고 남북 주민 모두에게 실질적인 혜택이 돌아가는 미래를 준비하고 있다.</p>
91	<p>다음에서 설명하고 있는 이재명 정부의 한반도 평화공존 추진 원칙은 무엇인지 다음 0000에 들어갈 명칭을 쓰시오.</p>

번호	문항
	<p>이재명 정부는 평화공존을 실현하기 위한 구체적인 세 가지 행동 원칙으로 ‘북한 체제 존중’, ‘흡수통일 불추구’와 함께 ‘0000 불추진’을 천명하였다. 이는 남북 간 무너진 신뢰를 회복하고 우발적 충돌의 원인을 제거하기 위해 대북 전단 살포와 확성기 방송 중단 등의 조치를 선제적으로 취하는 실천적 입장을 의미한다.</p> <p style="text-align: right;">[정답] 적대행위</p> <p>【해설】 이재명 정부는 한반도의 평화공존을 실현하기 위한 3대 추진 원칙으로 ‘북한 체제 존중’, ‘흡수통일 불추구’, ‘적대행위 불추진’을 제시하였다. 이 중 ‘적대행위 불추진’은 남북 간 무너진 신뢰를 회복하고 적대적 관계를 해소하기 위한 최소한의 약속이자 필수적인 전제 조건이다. 신뢰는 말이 아니라 구체적인 실천 행동을 통해 만들어진다는 정부의 입장에 따라, 취임 직후부터 남북 간 군사적 긴장을 고조시키고 우발적 충돌의 원인이 될 수 있는 대북 전단 살포와 확성기 방송 중단 조치를 선제적으로 취해 왔다.</p>
	<p>2026년 1월 이재명 대통령은 시진핑 국가주석과의 한중정상회담에서 남북 관계 개선과 동북아 협력을 위해 4대 남북·국제 협력사업 구상을 설명하면서 협력·중재를 요청하였다고 보도되었다. 이에 속하지 않은 것은?</p> <p>① 서울~평양~베이징 고속철 건설 ② 나진선봉지역 평화관광 ③ 대북 보건의료 협력 ④ 광역두만개발계획(GTI, Greater Tumen Initiative)</p> <p style="text-align: right;">[정답] ②</p> <p>【해설】 2026년 1월 5일 이재명 대통령은 시 주석과의 회담에서 △서울~평양~베이징 고속철 건설, △원산갈마 평화관광, △대북 보건의료 협력, △광역두만개발계획(GTI, Greater Tumen Initiative) 등 모두 4가지 남북·국제 협력사업 구상을 밝히며 북한이 호응할 수 있도록 중국 쪽의 협력과 중재를 요청하였다고 보도되었다. 참고로 두만강개발계획은 유엔개발계획(UNDP) 주도하에 두만강 하구</p>

번호 문 항

유역을 중심으로 한 동북아국가들의 국제경제특구 개발구상이다. 1991년 10월 평양에서 열린 UNDP 동북아 조정실무관회의에서 발족이 결정되었다. 두만강 유역에 대규모 공단 등을 조성하는 사업으로 남한, 북한, 중국, 러시아, 일본, 몽골 등이 참가했다. 2005년 9월 대상 지역을 확대하고 공동기금을 설립하여 광역두만개발계획(GTI)으로 전환했다. 2009년 북한이 합동위원회에 탈퇴를 통보해 현재까지 제한적인 개발에 머물고 있다. 두만강개발계획은 동북아지역의 유일한 정부간 협력사업이라는 의의가 있다.

 서울~평양~베이징 고속철 건설	2018년 남북 정상 합의와 한·중 정상의 공감 토대로 추진. '한반도 중단 고속철' 사업구상을 중국으로 확장
 대북 보건의료 협력	감염병 대응, (북한의) 군 단위 병원 현대화 등 보건의료 협력 보따리 마련 과 '국제신탁기금' 설립 추진
 원산갈마 평화관광	2025년 7월 개장한 '원산갈마해안관광지구'를 '재외동포 고향방문 → 남·북·중 환승관광 → 한국인 관광' 통해 활성화
 광역두만개발계획 (GTI, Greater Tumen Initiative)	북·중·러가 추진하는 두만강 하구 개발사업을 한국도 참여하는 남북·국제협력 사업으로 확대

3. '북한에 대한 이해' 단원 출제 의도 및 배경

“영원한 적도, 영원한 우방도 없다”는 영국 파머스턴 전 수상의 명언을 떠올린다면 북한은 우리에게 ‘영원한 적’ 보다는 궁극적으로 같은 언어와 문화를 지닌 민족으로서 평화와 통일을 지향해야 할 화해와 협력의 대상이다. 비록 지금은 악화된 남북관계에 의하여 대립하고 있지만, 민족의 명산인 금강산으로 수학여행을 가던 시절도 있었다. 다시 남북관계 개선을 추진하기 위해서는 무엇보다도 상대에 대해 잘 이해할 필요가 있다.

따라서 ‘북한에 대한 이해’ 단원은 남한의 청소년들이 한반도에서 함께 평화공존과 공동번영을 추구해야 할 상대인 북한의 사회상과 그 변화에 대해 객관적으로 파악하고, 남북 간의 이질성과 동질성을 균형 있게 이해하도록 출제하였다. 특히, IT기술의 도입, 교육 체계의 변화, 역사 및 문화유산의 공유 등을 중심으로 문항을 구성하여 청소년의 눈높이에서 관심 가질 만한 내용을 중심으로 다루었다.

첫째, 북한의 교육 제도와 환경의 특징을 이해하도록 하는 데 초점을 두었다. 김정은 시대에 들어 도입된 ‘전반적 12년제 의무교육’ 과 그에 따른 교육 환경의 구체적인 변화 등을 문항으로 구현하였다. 북한 학생들의 학교 생활을 남한의 제도와 비교하며 이해할 수 있도록 구성하였다.

둘째, 북한의 일상생활을 비중 있게 다루었다. 특히, 인터넷 사용이 보편화된 지구촌 시대에 북한 사람들 또한 스마트폰을 활용하여 음식을 주문하거나 쇼핑을 즐기는 등 디지털 소비 환경의 변화를 반영하였다.

셋째, 역사와 문화유산에 대한 이해로 남북한의 공통점에 대한 이해를 높이고자 하였다. 유네스코 인류무형문화유산에 공동 등재된 ‘씨름’ 과 남북 역사학자들이 함께 조사한 ‘개성 만월대 공동 발굴’ 사례 등을 통해 이념의 차이를 넘어 남과 북이 같은 뿌리를 가진 한민족임을 확인하고, 함께 지켜나가야 할 소중한 가치가 존재한다는 점을 제시하고자 하였다.

넷째, 북한의 언어 순화 정책과 남북한 언어의 차이를 다루었다. 이러한 문항들은 분단 기간이 길어짐에 따라 발생하는 언어적 이질화를 이해함과 동시에 그 차이는 충분히 극복할 수 있는 것임을 깨닫도록 하였다.

번호	문항
	3. 북한에 대한 이해
94	<p>평양에서 세계 여러 나라 영화인들이 참여하는 평양국제영화축전이 열린다. 맞으면 O, 틀리면 X를 쓰시오.</p> <p style="text-align: right;">[정답] O</p> <p>【해설】 평양국제영화축전(PIFF)은 1987년 비동맹 및 개발도상국 간의 문화 교류를 목적으로 시작되었다. 북한 유일의 국제 영화제로 최우수 작품에는 ‘햇불금상’이 수여되며, 평소 접하기 어려운 해외 영화를 북한 주민들에게 소개하는 중요한 문화적 통로가 된다. 2012년에는 서구와 합작한 영화가 큰 인기를 끌었으며, 2025년 10월에도 개최되어 국제 교류의 장으로서 역할을 했다.</p>
95	<p>북한에도 강원도라는 지명이 있다. 맞으면 O, 틀리면 X를 쓰시오.</p> <p style="text-align: right;">[정답] O</p> <p>【해설】 북한 지역의 강원도(일명 북강원도)는 한반도 중동부에 위치하며, 남한의 강원특별자치도와 남북으로 나뉜 도이다. 본래 도청 소재지는 철원군이었으나, 분단 이후 주요 도시들이 남한령이 되면서 1946년 함경남도에서 편입된 원산시가 새로운 도 중심지가 되었다.</p>
96	<p>북한에서는 자전거에도 번호판이 있다. 맞으면 O, 틀리면 X를 쓰시오.</p> <p style="text-align: right;">[정답] O</p> <p>【해설】 북한에서 자전거를 타기 위해서는 자전거 면허증이 있어야 하며, 자전거에도 자동차 번호판처럼 자전거 번호판을 달아야 한다. 자전거 면허증 제도가 본격화된 것은 1990년대 후반으로 처음에는 평양을 중심으로 1997년부터 시범적으로 실시하다가 1999년 전국으로 확대하여 실시하고 있다. 북한의 자전거 번호판은 ‘지역명 00-000’이라는 형식을 띠며, 자동차 번호판 형식도 유사하다.</p>
97	<p>북한에도 지하철이 있다. 맞으면 O, 틀리면 X를 쓰시오.</p> <p style="text-align: right;">[정답] O</p> <p>【해설】 평양시 지하철은 1973년에 평양을 남북으로 왕복하는 천리마선, 1978년에 동서로 왕복하는 혁신선, 1987년에 천리마선의 연장선인 만경대선이 개통되어 현재 3개 노선이 운영되고 있다.</p>

번호	문항
98	<p>북한에서 설은 양력으로 1월 1일이다. 그렇다면 북한에도 음력설이 있다. 맞으면 O, 틀리면 X를 쓰시오.</p> <p style="text-align: right;">[정답] O</p> <p>【해설】 북한은 과거 음력설을 봉건 잔재로 여겨 양력설만 인정했으나, 1989년에 음력설을 부활시켰고 2003년부터는 이를 기본 설 명절로 지정해 기념하고 있다. 설날에는 씨름, 그네, 널뛰기, 연피우기 같은 전통 민속놀이를 즐기는데, 북한 당국은 이를 민족체육으로 주민들에게 적극 권장하고 있다.</p>
99	<p>북한에서는 대학생들도 교복을 입는다. 맞으면 O, 틀리면 X를 쓰시오.</p> <p style="text-align: right;">[정답] O</p> <p>【해설】 북한에서는 대학생들도 교복을 입는다. 남학생은 양복, 여학생은 양복과 한복 두 종류이다. 큰 행사가 있을 때는 검은색 치마와 흰 저고리를 입는다. 대학교의 차이는 대학 배지 등으로 구분한다.</p>
100	<p>북한말 ‘선부호’는 남측의 ‘바코드’에 해당한다. 맞으면 O, 틀리면 X를 쓰시오.</p> <p style="text-align: right;">[정답] O</p> <p>【해설】 북한에서는 바코드를 선부호라고도 부른다. ‘선부호’인 바코드는 ‘1차원 상품식별부호’이고, QR코드는 ‘2차원 상품식별부호’다. 1차원 상품식별부호(바코드)는 제품 생산국, 생산기업 및 제품 정보 등 단순 정보를 제공하며, 2차원 상품식별부호(QR코드)는 다양하고 많은 정보를 수록하고, 제품 정보만이 아니라 응용 범위가 넓어서, 전자결제와 결합되어 휴대전화기로 식별해서 상품 구매를 가능하게 할 수 있다.</p>
101	<p>북한의 대표적인 영재교육 기관으로 특히 전국에서 선발된 컴퓨터와 예술분야의 영재들을 집중 교육하는 학교의 이름은 금성학원이다. 맞으면 O, 틀리면 X를 쓰시오.</p> <p style="text-align: right;">[정답] O</p> <p>【해설】 금성학원은 1989년 5월 만경대학생소년궁전이 설립됨에 따라</p>

번호	문항
	1990년 9월 문화예술 전문인 양성을 취지로 한 ‘금성제1고등중학교’로 출범했다. 그 뒤 2002년 북한의 고등중학교가 모두 중학교로 바뀌면서 ‘금성제1중학교’가 되었다가 2003년 ‘금성학원’으로 바뀌었다.
102	북한은 유치원 높은 반, 소학교, 초급중학교, 고급중학교 등 11년제 무료의무교육제도를 운영하고 있다. 맞으면 O, 틀리면 X를 쓰시오. <p style="text-align: right;">[정답] X</p> <p>【해설】 북한의 유치원은 5~6세 아동이 다니는 2년제 교육 과정으로, 낮은 반(5세)과 높은 반(6세)으로 구성되어 있다. 북한의 12년제 의무교육의 시작은 유치원 높은 반에서 시작된다. 따라서 유치원 높은 반(1년), 소학교(5년), 초급중학교(3년), 고급중학교(3년)로 12년제 무료의무교육제도를 운영하고 있다. 북한은 2012년 ‘ 전반적 12년제 의무교육을 실시함에 대하여’를 발표하면서 의무교육을 11년에서 12년으로 연장하였고, 교육체계를 크게 변화시켜 4년제 소학교 과정을 5년제 과정으로, 중학교 6년을 3년제 초급중학교와 3년제 고급중학교로 분리했다.</p>
103	남한과 북한은 2018년 씨름을 유네스코 인류무형문화유산에 사상 최초로 공동 등재했다. 맞으면 O, 틀리면 X를 쓰시오. <p style="text-align: right;">[정답] O</p> <p>【해설】 씨름은 우리 민족이 고구려 벽화 시절부터 즐겨온 대표적인 민속놀이이다. 처음에는 남북이 각각 등재를 추진했으나, 우리 정부의 제안과 유네스코의 중재로 공동 등재를 추진하여 2018년 11월에 전격적으로 결정되었다. 이는 남과 북이 비록 갈라져 있지만 같은 문화를 공유하는 하나의 민족임을 세계에 알린 아주 상징적인 사건이었다.</p>
104	남북한은 언어가 같기 때문에 학교에서 사용하는 수학 용어도 완전히 동일하다. 맞으면 O, 틀리면 X를 쓰시오. <p style="text-align: right;">[정답] X</p> <p>【해설】 80년 가까운 분단 기간이 흐르면서 남북한의 언어는 서로 많이 달라졌다. 특히 수학이나 과학 같은 전문 용어에서 차이가 큰데, 남한은 미국식 발음을 주로 따르지만 북한은 러시아식 발음을 따르거나</p>

번호	문항
	우리말로 다듬은 표현을 쓴다. 예를 들어 남한의 ‘부등식’을 북한은 ‘안갈기식’이라 부르고, ‘사인/코사인’을 ‘씨너스/코시네스’라고 발음한다.
105	남한과 북한은 ‘김치 담그기 풍습’을 유네스코에 최초의 공동 등재 유산으로 등록했다. 맞으면 O, 틀리면 X를 쓰시오. <p style="text-align: right;">[정답] X</p> <p>【해설】 김치 담그기 풍습은 남북한 모두 유네스코 인류무형문화유산으로 등재되어 있지만, 공동 등재는 아니다. 남한은 2013년에 ‘김장문화’라는 이름으로, 북한은 2015년에 ‘김치 담그기’라는 이름으로 각각 따로 등재했다. 무형유산인 씨름이 2018년에 최초로 남북 공동 등재된 것과는 차이가 있다.</p>
106	북한에서 무형유산을 부르는 공식 명칭은 ‘비물질 문화유산’이다. 맞으면 O, 틀리면 X를 쓰시오. <p style="text-align: right;">[정답] O</p> <p>【해설】 남한에서는 ‘무형유산’이라는 용어를 쓰지만, 북한은 유네스코의 분류 방식을 따라 2012년부터 ‘비물질 문화유산’이라는 용어를 사용하고 있다. 이는 형태는 없지만 입에서 입으로 전해지는 전설, 전통 예술, 관습, 민족 음식 조리법 등을 모두 포함한다. 북한은 평양냉면 풍습, 아리랑, 막걸리 담그기 등을 국가 비물질 문화유산으로 등록하여 보호하고 있으며, 최근에는 전통문화의 보존을 더욱 강조하는 추세이다.</p>
107	북한 청소년들도 남한 학생들처럼 명절이나 휴일에 가족과 모여 윷놀이나 제기차기 같은 민속놀이를 즐긴다. 맞으면 O, 틀리면 X를 쓰시오. <p style="text-align: right;">[정답] O</p> <p>【해설】 남북한은 유구한 역사를 함께해 온 한민족이기에 명절 문화와 전통 놀이가 매우 닮아 있다. 북한에서도 공휴일로 인정되는 설날이나 추석이 되면 온 가족이 둘러앉아 윷놀이를 하거나 마당에서 제기차기, 널뛰기를 하며 즐거운 시간을 보낸다. 이는 우리가 비록 정치적으로</p>

번호	문항
	로는 나누어져 있지만, 삶을 즐기고 가족의 화목을 다지는 전통적인 생활 방식은 여전히 하나로 이어져 있음을 보여준다.
108	<p>북한 주민들은 전기 사정이 좋지 않아 각 가정에서 태양열 전지판을 이용해 TV를 시청하기도 한다. 맞으면 O, 틀리면 X를 쓰시오.</p> <p style="text-align: right;">[정답] O</p> <p>【해설】 북한의 고질적인 에너지 부족 문제는 주민들의 생활 방식을 바꾸어 놓았다. 국가 공급 전기가 부족하다 보니 주민들은 각자 태양열 전지판을 마련하여 가전제품을 사용한다.</p>
109	<p>북한에서도 스마트폰을 이용해 음식을 주문하거나 물건을 사는 ‘전자상업’ 서비스가 존재한다. 맞으면 O, 틀리면 X를 쓰시오.</p> <p style="text-align: right;">[정답] O</p> <p>【해설】 최근 북한은 IT 기술을 일상에 도입하여 ‘옥류’ 라는 앱으로 맛집 음식을 주문하거나, ‘만물상’ 사이트에서 상품을 구매하는 등 디지털 소비 환경이 조성되고 있다. 북한의 옥류는 2015년 개발된 평양 중심의 배달 앱이자 온라인 쇼핑몰이다. 인민봉사총국이 운영하며 유명 식당 음식 주문, 호텔 예약, 전자결제 및 택배 배송 서비스를 제공한다. 만물상은 2016년 등장한 전자상거래 포털사이트로 ‘북한판 아마존’ 이라 불린다. 수백 개 기업의 수만 가지 상품 정보 열람과 경제 정보 교환 서비스를 제공한다.</p>
110	<p>남북한은 역사적 인물인 ‘안중근 의사’ 를 똑같이 민족의 영웅으로 존경하고 있다. 맞으면 O, 틀리면 X를 쓰시오.</p> <p style="text-align: right;">[정답] O</p> <p>【해설】 안중근 의사는 조국의 독립을 위해 헌신한 인물로, 남한과 북한 모두에서 위대한 민족의 영웅으로 존경받고 있다. 남북한은 안중근 의사의 유해 발굴이나 기념관 건립 등을 위해 이념을 떠나 협력하려 노력해 왔다. 남북은 ‘안중근 의사 유해 발굴 및 봉환사업’ 을 위해 중국 뤄순시 뤄순감옥 공동묘지를 함께 조사(2006.6.~2008.5.)했으며, 2008년 4월과 6월, 2009년 12월에는 남북 역사학자 공동학술회의를 개</p>

번호	문항
	성에서 개최했다.
111	<p>북한의 스마트폰은 남한의 스마트폰과 달리 문자메시지 전송 기능이 없다. 맞으면 O, 틀리면 X를 쓰시오.</p> <p style="text-align: right;">[정답] X</p> <p>【해설】 북한의 스마트폰에도 우리와 유사한 기본 기능들이 모두 탑재되어 있다. 용어만 다를 뿐, 통보문은 문자메시지, 화상서고는 사진첩, 열람기는 웹브라우저 역할을 한다. 또한 음악 감상, 시계, 달력 등의 앱도 갖추고 있다. 다만, 외부 인터넷 연결이 되지 않아 인트라넷인 광명망 내에서만 데이터를 주고받을 수 있다는 점이 남한과의 차이점이다.</p>
112	<p>현재 북한에서는 초등학교에서도 영어를 가르치고 있다. 맞으면 O, 틀리면 X를 쓰시오.</p> <p style="text-align: right;">[정답] O</p> <p>【해설】 북한 학생들이 영어를 처음 배우는 시기는 소학교 4학년이다. 과거에는 중학교 1학년부터 공식적인 영어 수업이 있었지만, 최근 북한에서도 세계적인 추세에 따라서 외국어를 배우는 시기가 많이 빨라졌기 때문에 소학교 때부터 영어를 가르치고 있다.</p>
113	<p>북한의 경제 체제는 생산과 분배의 주요 과정을 국가가 결정하는 계획 경제 체제이다. 맞으면 O, 틀리면 X를 쓰시오.</p> <p style="text-align: right;">[정답] O</p> <p>【해설】 북한은 중앙 정부가 경제 활동을 직접 통제하고 관리하는 중앙 집권적 계획 경제를 채택하고 있다. 국가의 계획에 따라 물품을 배급하고 직장을 배정하는 것이 원칙이다. 다만, 1990년대 심각한 경제 위기 이후 배급 체계가 제대로 작동하지 않게 되면서 주민들이 장마당과 같은 시장에 의존하여 삶을 이어가는 변화가 나타나기도 했다.</p>

번호	문항
114	<p>최근 북한 청소년들은 전 세계 인터넷에 자유롭게 접속하여 해외 SNS를 즐기고 있다. 맞으면 O, 틀리면 X를 쓰시오.</p> <p style="text-align: right;">[정답] X</p> <p>【해설】 북한은 정보 통제를 위해 외부 인터넷 접속은 차단하고 있다. 하지만, 국가 인트라넷인 ‘광명망’을 통해 자료를 검색하고 ‘나의 길동무’ 같은 앱스토어에서 다양한 콘텐츠를 얻는다. 비록 인트라넷이지만 북한 청소년들도 디지털 기술을 통해 정보를 습득하고 일상의 편리함을 추구하는 ‘모바일 세대’의 모습을 보인다.</p>
115	<p>북한에도 남한의 어린이날과 비슷한 기념일이 있다. 다른 사회주의 국가와 함께 기념하는 이날의 명칭은 무엇인가?</p> <p>① 조선어린이날 ② 국제어린이날 ③ 국제아동절 ④ 조선아동절</p> <p style="text-align: right;">[정답] ③</p> <p>【해설】 ‘국제아동절’은 1949년 11월 모스크바에서 열린 ‘국제민주여성연맹이사회’에서 매년 6월 1일을 어린이들의 국제적 기념일로 제정한 데서 시작된 대표적인 사회주의권의 기념일이다. 이에 따라 북한은 1950년 4월에 매년 6월 1일을 국제아동절로 제정하였다.</p>
116	<p>김정은 국무위원장 집권 이후, 위락 시설이 현대화되어 주목을 받았다. 평양의 워터파크로, 평양 시민뿐만 아니라, 외국인 여행객도 이용하는 곳이다. 27개의 미끄럼틀, 야외 물놀이장과 실내 물놀이장, 체육관 그리고 암벽 등반 시설 등을 갖추고 있다. 이곳은 어디인가?</p> <p>① 문수물놀이장 ② 개선청년공원 ③ 만경대유회장 ④ 룡라인민유원지</p> <p style="text-align: right;">[정답] ①</p> <p>【해설】 문수물놀이장은 북한의 워터파크이다. 문수물놀이장은 김정은의 지시로 2013년 초부터 공사가 시작되어 2013년 10월 15일 준공식을 했으며, 109,000m²의 면적에 27개의 미끄럼틀, 야외 물놀이장과 실내</p>

번호	문항
117	<p>물놀이장, 체육관 그리고 암벽 등반 시설 등을 갖추고 있다.</p> <p>북한의 학교생활에 대한 설명 중 옳지 않은 것은?</p> <p>① 유치원 높은 반부터 의무교육이 시작된다. ② 입학부터 졸업까지 담임 선생님이 바뀌지 않는다. ③ 대학생도 교복을 입는다. ④ 교복은 학교마다 다르다.</p> <p style="text-align: right;">[정답] ④</p> <p>【해설】 12년 의무교육제의 시작은 유치원 높은 반부터 시작된다. 담임 선생님은 각 단계의 학교마다 입학할 때부터 졸업할 때까지 동일하게 유지된다. 이는 학생들에 대한 지속적이고 밀착된 관리를 위한 것이다. 대학생들도 교복을 입고 등교를 하고 모든 학교의 교복은 모양이 같다. 학교의 구분은 교복 모양이 아닌 배지의 모양 등으로 식별한다.</p>
118	<p>다음 중 북한의 국화는 무엇인가?</p> <p>① 무궁화 ② 장미 ③ 목란 ④ 국화</p> <p style="text-align: right;">[정답] ③</p> <p>【해설】 북한의 국화(나라꽃)는 목란(木蘭)으로, 남한에서는 주로 함박꽃나무 또는 산목련이라 불린다. 북한에서도 1960년대 초반까지는 무궁화를 국화로 삼았다. 1964년에 국화를 목란으로 변경하였고 1991년에 국화로 공식 지정하였다. 북한 최고의 훈장인 ‘김일성 훈장’을 비롯해 주체사상탑, 개선문 등 주요 기념비적 건축물의 장식 문양으로 사용된다.</p>
119	<p>압록강과 두만강이 있는 곳이라는 의미로 붙여진 북한의 행정구역으로 백두산이 있는 도는 어디인가?</p> <p>① 양강도 ② 자강도 ③ 함경도 ④ 평안도</p> <p style="text-align: right;">[정답] ①</p> <p>【해설】 북한 북동부에 위치한 양강도는 민족의 성산인 백두산을 품고 있는 행정 구역이다. 1954년 함경도 일부 지역을 분리해 신설했으며, 이름은 압록강과 두만강 두 강(兩江)의 머리 부분에 자리 잡았다는 의미에서 유래했다. 개마고원 중심부에 위치해 평균 고도가 높고 겨울</p>

번호	문항
	이 매우 추운 산악 지대이며, 주요 작물인 감자 생산지로 유명하다. 최근 백두산 일대가 유네스코 세계지질공원으로 지정되며 지질학적 가치를 다시 한 번 인정받았다. 도 소재지인 혜산시는 압록강을 사이에 두고 중국과 접한 주요 접경 도시이다.
120	<p>고려시대 금속활자(1361년 이전에 제작)는 독일의 금속활자보다 무려 210년~270년 앞섰다고 한다. 남북은 2007년 5월 15일부터 고려시대 궁궐터인 만월대에서 공동발굴조사를 한 끝에 2015년 세계에서 가장 오래된 금속활자인 ‘전똥’ 한 점을 추가로 발굴했다. 고려시대 궁궐터가 있었던 북한의 이 지역은?</p> <p>① 평양 ② 청진 ③ 개성 ④ 함흥</p> <p style="text-align: right;">[정답] ③</p> <p>【해설】 남북이 개성 만월대 지역을 대상으로 시행한 제7차 공동발굴조사에서 고려시대의 것으로 추정되는 금속활자가 출토됐다. 남북역사학자협의회는 ‘2015 개성 만월대 성과 브리핑’에서 “개성 만월대 서부 건축군을 발굴조사한 결과 19동의 건물지와 3천 500여 점의 유물이 나왔다”고 밝혔다. 전체 누적으로는 유물 1만여 점을 수습하였다.</p>
121	<p>한글날인 10월 9일은 훈민정음이 반포된 세종 28년(1446년) 음력 9월의 마지막 날인 29일을 양력으로 환산한 날이다. 북한에는 ‘훈민정음 창제일’을 ‘조선글날’로 기념한다. 북한의 ‘조선글날’은 언제인가?</p> <p>① 1월 15일 ② 3월 15일 ③ 5월 15일 ④ 7월 15일</p> <p style="text-align: right;">[정답] ①</p> <p>【해설】 북한은 훈민정음 창제일을 ‘조선글날’로 기념한다. 훈민정음 창제일을 1444년 1월 15일로 보고, 매년 1월 15일을 훈민정음 창제기념일, 즉 ‘조선글날’로 기념하고 있는 것이다. 이는 세종실록에 기록된 ‘1443년 음력 12월 ‘을 양력으로 환산한 결과다. 남한의 ‘한글날(10월 9일) ‘이 반포일 중심인 것과 달리, 북한은 글자를 만든 날 자체에 의미를 둔다. 북한은 훈민정음을 “인민의 창조적 지혜가 담긴 우수한 글자”라 평가하며 민족 자긍심 고취의 수단으로 활용하고 있다.</p>

번호	문항
	현재 북한의 학교에서 가르치는 제1외국어는 무엇인가? ① 러시아 ② 중국어 ③ 영어 ④ 프랑스어
122	<p style="text-align: right;">[정답] ③</p> <p>【해설】 북한에서의 영어교육은 1964년부터 시작되었다. 1964년부터 러시아어와 영어를 중학교 제1외국어로 지정하여 학교별로 선택하도록 하였으나, 영어의 중요성이 높아지면서 1975년부터 영어 위주 교육으로 전환하였다. 1980년대 중반부터 러시아어반이 폐지되었고, 1991년에는 영어가 제1외국어로 지정되었다.</p>
123	<p>음력으로 5월 5일인 단오는 한국, 중국, 일본의 주요 명절이다. 북한에서도 추석날에 선조들의 산소에 찾아가며 단오 날에 즐겁게 노는 것은 예로부터 내려오는 우리 인민들의 풍습이라고 하면서 중요한 명절로 평가한다. 북한에서 단오에 행하는 놀이가 <u>아닌</u> 것은 무엇인가?</p> <p>① 씨름 ② 팔죽먹기 ③ 그네뛰기 ④ 윷놀이</p> <p style="text-align: right;">[정답] ②</p> <p>【해설】 북한은 민속명절에 전통 민속놀이를 기반으로 한 ‘민족체육’ 활동을 권장한다. 당국이 주민들에게 장려하는 대표적 종목으로는 씨름, 그네, 널뛰기, 밧줄 당기기 등이 있으며, 이는 민족성을 명분으로 집단주의 사상을 강화하는 데 활용된다. 특히 씨름은 남북 공동으로 유네스코 무형문화유산에 등재된 대표적 놀이이다.</p>
124	<p>한국의 표준어에 해당하는 북한 표준어를 무엇이라고 하는가? ① 주체어 ② 백두어 ③ 문화어 ④ 문명어</p> <p style="text-align: right;">[정답] ③</p> <p>【해설】 북한은 1966년 지역적으로는 평양말을, 계층적으로는 노동계급의 말을 중심으로 표준어 체계를 만들면서 ‘문화어’라고 하였다.</p>
125	<p>북한의 국보유적 1호는 무엇인가? ① 만월대 ② 평양성 ③ 동명왕릉 ④ 단군릉</p> <p style="text-align: right;">[정답] ②</p> <p>【해설】 북한에서 문화재는 가치정도에 따라서 국보급유물, 준국보유물, 국보유적, 준국보(보존급)유적으로 나누어 관리한다. 국보유적 1호</p>

번호	문항
	는 평양성이다.
126	<p>북한 주민의 여가 활동에 대한 설명이다. 다음 중 옳지 않은 것은?</p> <p>① 북한 주민이 비교적 자주 하는 여가활동은 영화 감상, 공연 감상, TV 시청 등이다.</p> <p>② 영화 및 공연 감상은 북한 주민이 전통적으로 즐겨온 여가활동으로 공장·기업소, 협동농장 등 직장 단위로 단체관람을 주로 한다.</p> <p>③ 공식채널 방송과 더불어 시장을 통해 유입된 외부 영화나 드라마 등도 시청하고 있다.</p> <p>④ 전기 사정이 열악하다보니 TV 시청을 거의 하지 않는다.</p> <p style="text-align: right;">[정답] ④</p> <p>【해설】 북한 주민이 비교적 자주 하는 여가활동은 영화 감상, 공연 감상, TV 시청 등이다. 영화 및 공연 감상은 북한 주민이 전통적으로 즐겨온 여가활동으로 공장·기업소, 협동농장 등 직장 단위로 단체관람을 주로 한다. 전기 사정이 열악하다보니 최근에는 태양열 전지판, 축전지 등을 통한 TV 시청이 많아졌다. TV를 통해 공식채널 방송과 더불어 시장을 통해 유입된 외부 영화나 드라마 등도 관람하고 있다.</p>
127	<p>다음 중 북한 주민들의 주거 생활 변화에 대한 설명으로 옳은 것은?</p> <p>① 평양의 아파트들은 돈만 있으면 누구나 거주할 수 있다.</p> <p>② 돈주나 개인 건설업자가 집을 지어 판매하는 경우도 있다.</p> <p>③ 국가가 배정해 준 집에서만 살아야 하며 이사는 불가능하다.</p> <p>④ 모든 주택은 법적으로 개인 소유권이 인정되어 등기할 수 있다.</p> <p style="text-align: right;">[정답] ②</p> <p>【해설】 북한에서는 법적으로 주택은 국가 소유이며, 국가가 주도하여 건설 사업을 진행하고 있다. 새로 지은 평양 미래과학자거리 아파트와 농촌 살림집 등에 대해서 우선적으로 과학자나 농민 등 주택 용도에 맞게 사람들을 입주시키고, 기존 거주 주민과 건설노동자 등에게 분배하다. 물론 일부 주택에 대해서 돈주들을 통한 주택 거래가 일어나고 있다. 시장에서 돈을 번 주민들이 더 좋은 집으로 이사하거나, 돈주들이 합법적으로 국가 기관의 건설에 투자하여 아파트 일부를 분양하는 일이 발생하고 있다. 돈주는 ‘돈의 주인’이라는 뜻으로 북한의 신흥</p>

번호	문항
	부유층을 의미한다. 그러나 북한에서 거주 이전과 관련하여 평양 거주 권 등은 제한되는 경우가 많고, 당국은 이러한 사적 거래에 대한 통제를 강화하려는 움직임도 보이고 있다.
128	<p>북한 사회생활의 특징 중 하나인 ‘집단주의’에 대한 설명으로 적절하지 않은 것은?</p> <p>① ‘하나를 전체를 위하여, 전체는 하나를 위하여’라는 구호를 강조한다.</p> <p>② 개인의 창의성과 자율성을 최대한 보장하는 것을 목표로 한다.</p> <p>③ 개인의 목표보다 집단이나 조직의 목표를 우선시한다.</p> <p>④ 주민들은 의무적으로 조직에 가입하여 평생 조직 생활을 해야 한다.</p> <p style="text-align: right;">[정답] ②</p> <p>【해설】 북한의 집단주의는 개인보다 집단의 이익을 우선시하기 때문에 개인의 자유로운 선택이나 창의성보다는 조직의 규율과 국가의 지시를 따르는 것을 중시한다. 따라서 개인의 자율성을 보장한다는 설명은 집단주의의 본래 의미와 북한의 현실에 맞지 않다.</p>
129	<p>북한의 헌법상 최고주권기관이자 입법기관인 ‘최고인민회의’에 대한 설명으로 옳은 것은?</p> <p>① 노동당의 정책 결정을 실질적으로 견제하고 감시하는 권력 분립 기구이다.</p> <p>② 헌법과 법령의 제·개정권, 국무위원장 및 주요 국가 기관장의 선출권을 가진다.</p> <p>③ 대의원의 임기는 10년이며, 매달 정기적으로 소집되어 국정을 심의한다.</p> <p>④ 1948년 정부 수립 당시에는 존재하지 않았으며, 1972년 사회주의 헌법 개정 시 신설되었다.</p> <p style="text-align: right;">[정답] ②</p> <p>【해설】 최고인민회의는 북한 헌법상 최고주권기관으로 법령 제·개정, 인민경제발전계획 심의, 주요 간부 선거 등의 권한을 갖는다. 그러나 실제로는 노동당의 결정을 추인하는 거수기 역할을 수행한다는 비</p>

번호	문항
	판을 받고 있다. 대의원의 임기는 5년이며, 1948년 9월 제1차 회의를 통해 헌법을 채택하고 정부를 수립한 역사를 가지고 있다.
130	<p>한반도에서 유네스코(UNESCO) 세계 복합문화유산으로 최초로 등재된 곳은? ① 백두산 ② 한라산 ③ 금강산 ④ 지리산</p> <p style="text-align: right;">[정답] ③</p> <p>【해설】 2025년 7월 북한의 금강산이 한반도 최초로, 세계 41번째로 세계복합문화유산으로서 정식 등재되었다. 복합유산은 독특한 지형, 수려한 자연경관 등의 자연유산과 유서 깊고 예술적 가치가 높은 문화유적 등의 문화유산이 함께 어우러진 것으로 세계적으로 금강산의 기암괴석과 불교유적의 조화가 인정받은 것이다. 2025년 7월까지 유네스코 세계유산 목록에는 170개국의 총 1,248건(문화유산 972건, 자연유산 235건, 복합유산 41건)이 등록되어 있다. 그리고 2025년 7월 기준, 남한은 종묘, 창덕궁 등 17건, 북한은 고구려 고분군 등 3건의 유네스코 세계유산을 보유하고 있다.</p>
131	<p>세계적으로 알려진 한반도의 전통 민요로서 남과 북이 각각 유네스코 인류무형문화유산으로 등재시킨 민요의 명칭은?</p> <p style="text-align: right;">[정답] 아리랑</p> <p>【해설】 남과 북은 따로따로 아리랑을 유네스코 인류무형문화유산으로 등재하였다. 남한의 아리랑은 ‘아리랑, 한국의 서정민요’ 라는 이름으로 2012년 등재되었고, 북한의 아리랑은 ‘조선민요 아리랑’ 이라는 명칭으로 2014년 등재되었다. 남한은 아리랑을 ‘한국과 한민족의 대표적 민요이며 한민족을 하나로 묶고 소통하게 하는 힘’ 을 가진 노래라고 설명하고 있으며, 북한은 ‘한민족의 시련기에 민족의 정체성을 간직하고, 분단의 아픔과 통일의 염원을 반영한 노래’ 로 설명하고 있다.</p>
132	<p>북한의 금강산은 춘하추동 사계절에 따라 그 이름이 달리 불리기도 한다. 여름에 부르는 금강산의 다른 이름을 쓰시오.</p> <p style="text-align: right;">[정답] 봉래산</p>

번호	문항
	<p>【해설】 금강산은 사계절의 변화에 따라 그 경치가 확연히 달라져 계절별로 네 가지 다른 이름을 가지고 있다. 만물이 소생하고 보석처럼 빛나는 봄에는 금강산(金剛山), 녹음이 우거져 신선이 사는 곳 같은 여름에는 봉래산(蓬萊山), 단풍이 붉게 물드는 가을에는 풍악산(楓嶽山), 나뭇잎이 지고 바위 산의 뼈대만 드러나는 겨울에는 개골산(皆骨山)이라 불린다. 이는 우리 조상들이 자연의 순환에 따라 변화하는 산의 아름다움을 예찬하며 붙인 명칭으로, 금강산이 지닌 다채로운 매력을 상징적으로 보여준다.</p>
133	<p>1990년대 북한의 경제난이 심화되고 배급제가 붕괴되면서 암시장 형태인 ‘야시장’ 과 또 다른 형태의 불법적이지만 상설화된 시장이 활성화되었다. 불법거래 상품인 쌀·옥수수 등 식량과 공산품 등이 주요 상품으로 거래되었고, 이후 대규모 도매시장과 함께 이 시장들이 특화된 시장으로 발달되어 나갔다. 이처럼 북한의 시장화 현상을 불러온 북한 시장을 통칭하는 용어를 쓰시오.</p> <p style="text-align: right;">[정답] 장마당</p> <p>【해설】 1990년대 접어들면서 북한의 계획경제 시스템 자체가 동요되고, 전반적으로 배급제가 붕괴되면서 북부 지방을 중심으로 식량을 거래하는 장마당이 상설화되었다. 처음에는 생존을 위한 식량획득 목적으로 농민시장이 확대되다가, 장사활동을 통한 생계유지 계층이 돈을 축적한 신흥 부유층, 이른바 ‘돈주’ 로 성장하면서 대규모의 유통시장으로 발전하였다.</p>
134	<p>북한에는 남북 민간합작으로 공동으로 설립한 대학이 있다. 이 대학의 이름은 무엇인지 쓰시오.</p> <p style="text-align: right;">[정답] 평양과학기술대학</p> <p>【해설】 평양과학기술대학은 평양직할시 낙랑구역 승리동에 있는 북한의 특수대학 및 대학원이다. 남한 기독교계, 해외동포들, 연변과학기술대학의 노력에 의해서 북한의 교육성과 한국의 동북아교육문화협력재단이 함께 설립하였다. 2001년 사업을 시작했으나, 여러 차례 개교가 지연되어, 2010년 가을부터 신입생을 받았다. 학부와 대학원으로는 정보통신공학부, 국제금융경영학부, 농업생명공학부, 의학부, 치과대학원</p>

번호	문항
	등의 학과가 있다.
135	<p>북한 학생들은 수학, 외국어, 예체능 과목 등 특정 과목을 중심으로 방과 후에 교사로부터 지도를 받으며 예습 복습이나 실험실습, 연습 등을 하는 일종의 동아리 성격의 활동을 매일 2~3시간씩 하고 있다. 이러한 활동을 무엇이라 하는지 쓰시오.</p> <p style="text-align: right;">[정답] 소조 활동</p> <p>【해설】 북한의 소조 활동은 우리의 방과 후 수업에 해당하는 활동이다. 매일 방과 후 2~3시간에 걸쳐 자신이 선택한 과목을 소그룹으로 지도를 받는데 주로 수학, 외국어, 음악, 미술 등의 과목에 대해 이루어진다.</p>
136	<p>북한 평양 대동강변에 있는 옥류관은 평양뿐만 아니라, 해외에도 분점이 있을 정도로 북한의 유명 음식점이다. 평양 옥류관 식당의 대표 메뉴로 메밀 면과 동치미 육수가 어우러진 평양의 대표 음식의 이름을 쓰시오.</p> <p style="text-align: right;">[정답] 평양냉면</p> <p>【해설】 평양 대동강변에 위치한 옥류관은 1960년 개관한 북한의 대표적인 대중음식점이자 국민 연회장이다. 전통 양식의 푸른 기와지붕이 특징이며, 평양냉면을 비롯해 고기쟁반국수, 철갑상어 요리 등이 유명하다. 남북 정상회담 당시 주요 외빈들이 방문하며 남북 화해의 상징적 장소로도 잘 알려져 있다. 최근에는 현대적인 설비를 도입하고 배달 서비스를 강화하는 등 평양 시민들의 외식 문화를 주도하고 있다.</p>
137	<p>서울과 신의주를 잇는 철도로, 현재 남측 구간의 최북단 역은 도라산역이다. 2007년 남측 도라산역과 북측 봉동역 사이에서 화물열차가 정례적으로 운행되기도 했다. 이 철도 노선의 명칭은?</p> <p style="text-align: right;">[정답] 경의선</p> <p>【해설】 경의선은 서울과 신의주를 잇는 한반도의 주요 종단 철도이다. 2000년 남북정상회담 합의에 따라 복원 사업이 추진되어 남측에서는 2002년에 도라산역까지 운행이 시작되었고, 2007년에는 남측 도라산</p>

번호	문항
	<p>역과 북측 봉동역 구간에서 화물열차가 정례적으로 약 11개월 간 운행되기도 하였다.</p> <p>현재 남측 구간은 민간인 통제 구역(CCZ) 내 도라산역까지만 운행되고 있으며, 이곳은 “남쪽의 마지막 역이 아니라 북쪽으로 가는 첫 번째 역”이라는 슬로건으로 한반도 분단 극복과 통일의 염원을 상징하는 장소가 되었다. 경의선은 향후 중국 횡단 철도(TCR) 등과 연결되어 한반도 평화경제의 핵심축이 될 것으로 기대를 모으고 있다.</p>
138	<p>한반도 5대 명산 중 하나이다. 평안북도와 자강도의 경계에 솟아있으며, 북한의 국보 문화유물 제40호인 보현사가 있는 산이다. 이 산의 이름을 쓰시오.</p> <p style="text-align: right;">[정답] 묘향산</p> <p>【해설】 묘향산맥의 중부에 있는 산으로 최고봉인 비로봉의 높이는 1,909m, 면적은 375평방km, 주위의 연장 거리는 128km이며 기반암은 시생대 흑운모 화강암이다. 묘향산은 북한의 유명한 관광지이다. 묘향산 관광지구는 상원동(上元洞), 만폭동(萬瀑洞), 비로봉(毘盧峰)의 3개 지구로 구분돼 있다. 묘향산에는 보현사라는 절이 있다.</p>
139	<p>명절이나 특별한 날에 남녀노소 즐겨 입는 우리 민족의 고유한 전통 의상 한복을 북한에서는 ()이라고 부른다. 빈 칸에 알맞은 말은?</p> <p style="text-align: right;">[정답] 조선옷</p> <p>【해설】 남한에서는 한복이라 부르지만 북한에서는 조선옷이라고 부른다. 북한에서도 설날이나 추석 같은 민족 최대의 명절이 되면 많은 주민이 조선옷을 정성껏 차려입고 어른들께 인사를 드린다. 북한은 행사나 일상에서 조선옷을 입는 경우가 남한보다 많아 우리 민족 특유의 전통미를 잘 간직하고 있기도 하다.</p>
140	<p>북한에서 ‘디지털 백신’을 뜻하는 말로, 스마트폰이나 컴퓨터의 바이러스를 막아주는 소프트웨어를 부르는 용어를 쓰시오.</p> <p style="text-align: right;">[정답] 악편</p> <p>【해설】 북한은 외국어인 ‘백신(Vaccine)’을 러시아어 발음의 영향</p>

번호	문항
	<p>을 받아 ‘악전’이라고 부른다. 북한의 최신 스마트폰에는 ‘클락새(크낙새)’와 같은 자체 개발 보안 소프트웨어가 탑재되어 바이러스로부터 기기를 보호한다.</p> <p>북한은 2019년 김책공업종합대학 정보기술연구소에서 개발한 “컴퓨터 바이러스악전프로그램 ‘참빛’ 4.0”에 대해 “악성프로그램들의 잠복특성과 류포특성에서 특징정보를 추출하여 검사하므로 은폐형바이러스 및 다형성바이러스에 대한 검출속도와 능력이 종전에 비해 6배 이상 높다”며, “국내에서 처음으로 랜섬웨어방지기술이 개발도입되어 인질형식의 악성프로그램을 방지하며 각종 행위에 대한 실시간적인 감시 및 차단 기능을 실현하여 새로 류포되는 악성프로그램을 미연에 차단한다”고 인터넷 사이트 <조선의 오늘>에 소개하였다.</p>
141	<p>북한에서 도넛을 가리키는 말을 쓰시오.</p> <p style="text-align: right;">[정답] 가락지뽕</p> <p>【해설】 북한은 언어 순화 정책을 통해 외래어를 우리말로 고쳐 쓴다. 도넛은 그 모양을 따서 ‘가락지뽕’, 라면은 꼬불꼬불한 면발을 따서 ‘꼬부랑 국수’라고 부른다. 사발면은 죽석에서 요리해 먹을 수 있다는 의미에서 ‘죽석 국수’라고 부른다.</p>
142	<p>1939년 일제강점기 일본에서 이승기 박사에 의해 개발된 합성섬유로 석유에서 뽑아내는 방식이 아니라 석탄과 석회석에서 뽑아내는 방식이다. 면 섬유에 가장 가까운 합성섬유로 불리며 북한에 가장 큰 공장 있는 이 섬유의 이름을 쓰시오.</p> <p style="text-align: right;">[정답] 비날론</p> <p>【해설】 이승기는 1939년에 교토대학에서 비날론 발명에 관한 논문으로 공학박사 학위를 취득했으며, 8·15광복 후 1945년 11월 귀국하여 서울대학교 응용화학과를 세우고 초대 공과대학장에 취임했다. 하지만 6·25전쟁 직후 월북하여 1952년부터 북한 과학원 산하 화학연구소 소장으로서 비날론 생산 연구에 전념하여 1961년에는 함흥비날론 공장에서 비날론이 생산되는데 크게 기여하였다. 현재 북한에서 비날론을 생산하는 핵심 공장기업소는 2.8비날론 연합기업소이며, 함흥에 위</p>

번호	문항
	<p>치해 있다.</p>
143	<p>북한은 한방치료를 동의학(東醫學)이라 하여 1953년 휴전 이후부터 정책적으로 적극 장려하였다. 1993년부터 ‘민족 주체성을 살린다.’는 취지 아래 동의학을 새롭게 명명하였는데 이 명칭(이름)을 쓰시오.</p> <p style="text-align: right;">[정답] 고려의학</p> <p>【해설】 북한은 고려의학에 대하여 “역사적 과정에 창조된 민족의학으로서 독특한 치료법을 이용하여 사람들의 병치료와 건강보호 증진에 이바지해 온 민족의 귀중한 의학유산”으로 규정하고 있다.</p>
144	<p>조선노동당의 기관지로서 대내외 주요 현안이나 사건에 대해 북한의 입장을 대변하는 북한의 대표신문 이름을 쓰시오.</p> <p style="text-align: right;">[정답] 노동신문(로동신문)</p> <p>【해설】 노동신문은 북한 조선로동당의 중앙위원회 기관지로, 북한 내에서 가장 권위 있는 일간지이다. 1945년 ‘정로’라는 이름으로 창간되었으며, 당의 노선과 정책을 인민들에게 전달하고 사상을 교육하는 핵심 매체로 활용된다. 최근에는 디지털화 추세에 맞춰 홈페이지를 통해 국외에도 소식을 전하고 있다. 대내외 정책 방향을 가늠하는 중요한 척도가 되고 있다.</p>
145	<p>북한에서 2016년 조선연풍상업정보기술사가 개발한 전자상거래 포털사이트로, 수백 개의 기업이 입점하여 상품 정보를 제공하며 ‘북한판 아마존’이라 불리는 서비스는 무엇인가?</p> <p>① 옥류 ② 만물상 ③ 광명망 ④ 내나라</p> <p style="text-align: right;">[정답] ②</p> <p>【해설】 만물상은 2016년 조선연풍상업정보기술사가 개발한 전자상거래 포털사이트이다. 인터넷 상점을 한곳에 모아놓은 형태이며 400여 개 기업이 입점하여 6만 5천여 개의 상품 정보를 제공하기 때문에 ‘북한판 아마존’으로 불린다. 가입자들은 이 사이트를 통해 제품 정보를 열람하거나 관련 경제 정보를 교환하는 서비스를 이용한다.</p>
146	<p>북한 북동부의 양강도 대흥단군과 같이 고도가 높고 추운 산악 지대에서 주로 재배되는 작물로, 북한에서 부족한 식량 문제를 해결하기 위해</p>

번호	문 항
	<p>생산을 장려하는 이 작물은 무엇인지 쓰시오.</p> <p style="text-align: right;">[정답] 감자</p> <p>【해설】 양강도는 개마고원 중심부에 위치하여 평균 고도가 높고 겨울이 추운 산악 지대라는 지리적 특성을 가지고 있으며, 북한의 주요 감자 생산지로 유명하다. 북한은 부족한 식량 문제를 해결하기 위해 감자 농사를 적극적으로 권장하고 있다. 특히 삼지연시를 비롯한 양강도 일대는 대규모 감자 재배가 이루어지는 대표적인 산지이다.</p>

4. '한반도 평화통일의 미래' 단원 출제 의도 및 배경

러시아-우크라이나 전쟁이 장기화 되면서 지하 방공호에서 수업하는 일은 아이들에게 더는 특별한 일이 아니다. 비밀상적인 전쟁이 일상으로 자리 잡은 것이다.

마찬가지로 분단은 비밀상적이다. 한반도의 분단은 전쟁의 종식이 아닌 ‘일시 중단’을 전제로 한다는 점에서 그러하며, 국토·언어·문화·경제를 공유하는 삶의 연속적인 흐름을 인위적으로 끊었다는 점에서 그러하다. 그런 비밀상이 80년 이상 지속되면서 분단은 하나의 문화로 우리의 일상을 긴밀하게 구성하고 있으며, 비밀상이 일상화된 시대를 살아가고 있다.

반면, 통일은 점점 우리의 일상에서 멀어지고, 때로는 불안으로 인식되기도 한다. 경제적 비용과 사회 혼란에 대한 우려를 표하듯 말이다. 우리는 통일이 마땅히 누려왔어야 하는 현재라는 걸 잊고 있다. 전쟁 불안에 시달리고, 기업들의 가치는 저평가되며, 기차로 해외를 갈 수 없게 되었다. 그런 의미에서 통일은 ‘예측 불가능한 미래’가 아닌 ‘빼앗긴 오늘’이다. 불합리한 오늘에 안주하려고 한다면, 우리는 머지않아 미래를 상상하는 힘마저 잃고 말 것이다.

본 단원은 평화통일에 대한 상상력과 통일 미래에 대한 이해를 기를 수 있도록 구성되었다. 출제 의도는 다음과 같다. 먼저, 긍정적인 한반도의 미래상을 상상하기 위해서는 통일을 위한 정책적 구상과 노력을 이해할 필요

가 있다. 이를 위해 유라시아 구상, 한반도 신경제지도 구상 등 남북 및 한반도 정책을 바탕으로 문제를 출제하였다. 두 번째로, 남북 평화를 정착시키고 통일 미래의 실현 가능성을 높이기 위해서는 다양한 분야에서의 남북 협력 사례를 이해해야 한다. 이에 따라 국토, 물류, 관광, 자원, 스포츠, 역사·문화, 인도적 문제, 경제 등 여러 영역에서 이루어진 협력 사례를 문제로 출제하였다. 세 번째로, 남북 교류협력이 국제기구와 연계되어 발전되어 왔음을 알아야 한다. UN을 비롯한 다자간 국제기구와의 협력을 통해 남북 관계가 발전해 온 과정과 더불어 평화 구축 및 평화 문화에 관한 개념 문제도 출제하였다.


결과적으로 본 단원을 통해 학생들이 남북 관계와 통일을 종합적이고 실천적인 관점에서 사고할 수 있도록 하고, 실제 남북 협력 사례와 정책, 국제 협력 과정을 공부하며 한반도 통일 미래에 대한 상상력과 평화 구축의 중요성을 이해하도록 하는 것을 목표로 한다.

번호	문 항
	4. 한반도 평화통일의 미래
147	<p>한반도신경제지도는 인천·평택 등 남한 항만과 남포 등 북한 항만을 연계하여 복합 물류체계를 구축하는 내용을 포함하고 있다. 맞으면 O, 틀리면 X를 쓰시오.</p> <p style="text-align: right;">[정답] O</p> <p>【해설】 2017년 문재인 정부가 제시한 한반도 경제협력 구상으로 만든 한반도신경제지도는 한반도의 평화정책과 경제 공동번영을 목표로 한다. 이 구상은 한반도를 3대 경제벨트로 연결하는 전략을 핵심으로 한다. 산업단지 협력과 철도 및 항만 연계를 통해 수도권-개성-평양을 잇는 산업·물류 중심 축을 형성하는 구상인 환황해 경제벨트, 에너지·자원·관광 협력을 통해 동해안을 북방 경제권과 연결하는 구상인 환동해 경제벨트, DMZ 일원을 생태·관광·평화 협력 공간으로 조성하는 구상인 접경지역 경제벨트를 내용으로 한다.</p>
148	<p>한반도신경제지도는 에너지·자원 협력을 핵심 과제로 포함하고 있다.</p>

번호	문항
	<p>다음 중 그 사례로 적절한 것은?</p> <p>① 개성공단 재가동 ② 서해안 항만 공동 개발 ③ 러시아 천연가스관의 한반도 연결 구상 ④ DMZ 생태관광지 조성</p> <p style="text-align: right;">[정답] ③</p> <p>【해설】 2017년 발표한 한반도신경제지도가 제시하는 3대 경제벨트 가운데 환동해 경제벨트에서 에너지·자원 협력을 주요 과제로 포함하고 있다. 그 대표적인 사례가 러시아 천연가스를 북한을 거쳐 남한으로 연결하는 가스관 사업 구상이다. 이는 한반도를 러시아 등 북방 에너지 자원과 연결하여 에너지 공급 안정성을 높이고, 남북 및 북방 국가 간 경제·협력을 확대하려는 전략이다. ①, ②는 환황해 경제벨트의 산업·물류 협력에, ④는 접경지역 경제벨트에 해당하는 사례이다.</p>
149	<p>(가)에 해당하는 철도를 쓰시오.</p> <p>경의선·동해선을 복원하여 한반도에서 출발해 중국, 러시아, 몽골 등을 거쳐 유럽까지 이어지는 철길이 연결되면 물류비를 줄일 수 있고, 기차길이 연결되면서 관광객들이 자유로이 오갈 수 있다. 이는 남북을 잇는 철도인 (가)로 시베리아 횡단철도(TSR), 중국횡단철도(TCR)와 연결하는 것이다. 그러기 위해서는 남과 북의 교류·협력이 무엇보다 중요하다.</p> <p style="text-align: right;">[정답] 한반도종단철도(TKR, Trans-Korean Railway)</p> <p>【해설】 경의선과 동해선을 복원하여 한반도종단철도(TKR, Trans-Korean Railway)가 연결된다면 시베리아 횡단철도(TSR), 중국횡단철도(TCR)과 연결되어 기차로 물류 및 관광객이 자유롭게 오갈 수 있다. 또한 해상 운송의 경우 유럽까지 약 30~40일이 소요되며, 수에즈 운하를 통과하지 못해 아프리카 남단 희망봉을 돌아갈 경우엔 60일 이상 걸리기도 한다. 반면 철도를 이용하면 약 10~15일 내외로 운송이 가능해 운송 기간을 크게 단축할 수 있다.</p>

번호	문항
150	<p>아시아 지역의 국제 육상 교통개발을 촉진하기 위해 시작한 이 사업은 일본, 한국, 북한, 중국, 인도, 터키, 러시아 등 아시아 지역에 주요 8개 노선을 중심으로 약 32개국을 연결하는 14만km의 대형 프로젝트이다. 이 프로젝트는 무엇인가?</p> <p>① 아시아-유럽 드림웨이 ② 아시아-유럽 하이스프드 ③ 아시안 하이웨이 ④ 아시안 하이패스</p> <p style="text-align: right;">[정답] ③</p> <p>【해설】 아시아와 유럽을 연결하는 ‘아시안 하이웨이 프로젝트’는 1959년 유엔에서 시작되었다. 이후 1992년부터 유엔의 아시아태평양경제사회위원회(ESCAP)에서 재추진하였다. 우리나라는 일본-한국-북한-중국-인도-터키 등을 연결하는 AH1노선과 한국-북한-러시아 등을 연결하는 AH6 노선이 지나게 된다. 우리나라를 지나가는 아시안 하이웨이는 1번 노선과 6번 노선이 있다. 1번 노선은 일본에서 서울과 평양을 지나 중국, 인도, 유럽의 길목인 터키까지 이어지는 노선이고 6번 노선은 부산에서 출발하여 평양을 지나 중국을 거쳐 러시아 서쪽 끝까지 이어진다.</p>
151	<p>한국은 2013년 한·러 정상회담 합의에 의해 북·러 사업에 한국의 민간·공기업이 참여하는 형태로 이 프로젝트를 진행해 왔다. 북한과 러시아를 잇는 철도를 개통하고, 이 철길이 향후 시베리아 횡단철도와 남북중단 철도의 연결고리가 될 것이라는 전망을 낳기도 했다. 이 프로젝트는 무엇인가?</p> <p style="text-align: right;">[정답] 나진-하산 프로젝트</p> <p>【해설】 나진-하산 프로젝트는 러시아산 유연탄을 러시아 하산과 북한 나진항을 잇는 54km 구간 철도로 운송해 나진항에서 화물선에 옮겨 실어 남한의 항구로 운송하는 사업이다. 한국은 남·북·러 복합물류 사업으로 러시아 유연탄을 3차례 시범 운송까지 했으나, 북한의 4차 핵 실험 이후 사실상 중단됐다.</p>
152	<p>이 도시는 한반도 철도가 연결되면 5,500만 평방킬로미터에 유라시아 대륙과 태평양을 잇는 최대의 물류기지로 성장할 수 있다고 한다. 한반</p>

번호	문항
	<p>도 동남쪽 끝에 자리 잡은 항구도시로서 2017년 컨테이너 물동량 기준 현재 세계 5위의 무역항인 이 도시는 어디인가? ① 부산 ② 창원 ③ 포항 ④ 여수</p> <p style="text-align: right;">[정답] ①</p> <p>【해설】 향후 한반도 철도가 연결되면 부산이 유라시아 대륙과 태평양을 연결하는 최대 물류기지로 역할을 할 것이다.</p>
153	<p>북한에는 국토의 80%에 광물자원이 매장되어 있다고 하는데, 아시아 최대의 노천광산인 <u>이 곳</u> 역시 약 20~30억 톤 이상의 철이 매장되어 있다고 한다. 한국의 포스코에서 2007년 10.4 남북정상회담 직후 남과 북이 공동 개발을 추진하려고 하였던 <u>이 곳</u>의 이름을 쓰시오.</p> <p style="text-align: right;">[정답] 무산철광</p> <p>【해설】 무산철광은 북한 최대의 철광산으로 함경북도 무산군에 위치해 있다. 아시아 최대 규모의 노천(露天) 철광산 가운데 하나로 알려져 있으며, 약 20~30억 톤 이상의 철광석이 매장된 것으로 평가된다. 2007년 10.4 남북정상회담 이후 남북 간 경제협력 확대 분위기 속에서 한국의 철강기업 포스코는 북한의 철광석 자원을 활용한 협력 방안을 검토하였다. 포스코는 무산 철광에서 철광석을 도입하거나 광산 개발에 참여하는 방안을 북한 측과 논의했으며, 장기적으로는 무산 일대에 제철소를 건설해 철광석 채굴 및 제철을 연계한 산업 협력 모델을 구상하기도 했다.</p>
154	<p>밑줄 친 ‘6대 전략 광물’에 속하지 <u>않는</u> 것은?</p> <div style="border: 1px solid black; padding: 5px; margin: 5px 0;"> <p>남과 북의 관계가 개선되면 우리나라가 현재 대부분 수입에 의존하고 있는 6대 전략 광물의 상당량을 북한 지역에서 얻을 수 있게 될 것이다.</p> </div> <p>① 우라늄 ② 구리 ③ 철광석 ④ 금</p> <p style="text-align: right;">[정답] ④</p> <p>【해설】 6대 전략 광물은 국내 산업과 에너지 생산에 필수적이지만 국내 생산이 부족해 대부분을 수입에 의존하고 있는 핵심 자원을 의미</p>

번호	문항
	<p>한다. 우리나라에서는 유연탄(역청탄), 우라늄, 철광석, 구리, 아연, 니켈을 6대 전략 광물로 분류한다. 이 광물들은 철강 생산, 전력 생산, 전력 및 기계 산업 등 국내 기간산업의 기초 원료로 사용되기 때문에 안정적인 확보가 중요한 자원으로 여겨진다. 한편 북한은 철광석, 구리, 아연 등 다양한 광물자원을 비교적 풍부하게 보유한 것으로 알려져 있어 통일이나 남북 경제협력이 이뤄질 경우 국내 산업에 필요한 전략 광물 확보 측면에서 중요한 의미를 가질 수 있다.</p>
155	<p>북한은 세계적인 마그네사이트 매장 국가 중 하나이다. 과거 남과 북이 경제협력을 통해 공동으로 개발하여 상업 생산이 이루어졌으나, 현재는 중단되었다. 맞으면 O, 틀리면 X를 쓰시오.</p> <p style="text-align: right;">[정답] X</p> <p>【해설】 북한은 세계적인 마그네사이트 매장 국가 중 하나로 평가되며, 함경남도 단천 일대에 대규모 매장지가 분포한 것으로 알려져 있다. 마그네사이트는 제철 공정에서 사용되는 내화재 등의 원료로 활용되는 전략적 광물자원이다. 2000년대 남북 경협이 활발하던 시기에 광물자원 협력 분야에서 잠재적 협력 자원으로 거론된 바 있으나, 국제 정세 변화와 대북 제재, 인프라 문제 등으로 인해 구체적인 공동 개발 사업으로 이어지지 않는 못하였다.</p>
156	<p>다음 그림과 사진의 장소 중 북한 지역의 문화유산이 아닌 것은?</p> <p>① 쌍영총 기마인물도</p> <div style="text-align: center;">  </div>

번호	문항
	<p>② 구룡연 구룡폭포</p>  <p>③ 병산서원</p>  <p>④ 선죽교</p>  <p style="text-align: right;">[정답] ③</p> <p>【해설】 쌍영총 기마인물도는 평양에 있는 고구려 시대의 무덤인 고구려 고분(쌍영총)을 벽에 그린 그림이다. 구룡연 구룡폭포는 북한 강원도 금강산에, 선죽교는 개성에 있다. 반면, 병산서원은 경상북도 안동에 위치한 조선시대 서원으로, 남한 지역에 위치한 문화유산이다.</p>
157	<p>비무장지대(DMZ) 전 지역은 유네스코 생물권보전지역으로 지정되었다. 맞으면 O, 틀리면 X를 쓰시오.</p> <p style="text-align: right;">[정답] X</p>

번호	문항
	<p>【해설】 2019년 6월 경기도 파주를 제외한 강원도 접경지역(철원군, 화천군, 양구군, 인제군, 고성군)과 경기도 연천군 등 비무장지대(DMZ) 일원이 유네스코 생물권보전지역으로 지정되었다. 파주시도 2011년 유네스코 생물권보전지역 지정 신청을 추진했지만, 2018년에는 산업단지 조성 등 경제개발을 이유로 신청하지 않아서 배제되었고 연천과 강원도만으로 추진하였다. 2012년 유네스코 인간과 생물권(MAB) 국제조정 이사회 심의 과정에서 유보되었지만, 2019년에 지정되었다.</p> <p>유네스코의 주요 지정 제도로는 문화유산과 자연유산을 보호하는 세계유산, 생태계 보전과 지속가능한 이용을 목표로 하는 생물권보전지역, 지질학적 가치가 뛰어난 지역을 보호하는 세계지질공원, 인류가 보존해야 할 기록물과 문헌을 대상으로 하는 세계기록유산, 전통과 관습·예술 등이 살아 있는 문화를 보호하는 무형문화유산 등이 있다.</p>
158	<p>다음에서 설명하는 내용에 해당하는 개념은?</p> <div style="border: 1px solid black; padding: 5px;"> <p>이는 접경지역 내에서 남북경제공동체 실현을 위한 산업형·관광형 개발사업을 추진하는 특별구역이다. 2025년 12월 통일부에서 수립한 기본계획에 의해 2026~2027년 인천(강화, 옹진), 경기(김포, 파주, 연천, 고양, 동두천, 양주, 포천, 가평), 강원(고성, 양구, 인제, 화천, 철원, 춘천, 속초) 등 17개 시·군 접경지역 가운데 선발하여 단계적으로 추진할 예정이다. 이는 분단으로 인해 그동안 개발에서 소외되었던 접경지역을 개발하여 국토의 균형발전을 이루고, 중장기적으로는 국내 산업 생산을 유발시켜 남북 경제성장의 선순환 기제를 형성하여 남북경제공동체를 만드는 데 기여하는 것을 목표로 한다.</p> </div> <p style="text-align: right;">[정답] 평화경제특구</p> <p>【해설】 평화경제특구는 남북경제공동체 형성에 기여하는 것을 목표로 하며, 접경지역 17개 시·군을 대상으로 선발·지정하여 추진할 예정이다. 평화경제특구는 접경지역의 발전 및 남북교류 협력 산업의 활</p>

번호	문항
	<p>성화를 위하여 조세·부담금 감면, 규제특례 및 기반시설 지원 등을 제공하는 사업으로, 2025년 12월 통일부에서 ▷지자체 의견 청취, ▷관계부처 협의, ▷연구용역 등을 거쳐 제1차 평화경제특구 기본계획을 수립하였다. 이에 따라 통일부와 국토교통부는 2026년과 2027년 2차례에 걸쳐 평화경제특구 지정을 위한 지방자치단체의 개발계획을 접수할 계획이다.</p>
159	<p>다음 중 접경지역과 그 접경지역의 평화 관광지를 바르게 연결한 것은? ① 파주 - DMZ평화누리공원 ② 철원 - 대릉시장 ③ 강화 - 노동당사 ④ 고성 - 오두산통일전망대</p> <p style="text-align: right;">[정답] ①</p> <p>【해설】 파주, 철원, 강화, 고성은 우리나라의 대표적인 접경지역으로 분단의 아픔을 간직한 공간이자 동시에 평화의 가치를 배우는 장소이다. 파주에 위치한 DMZ평화누리공원은 비무장지대(DMZ) 인근에 조성된 평화공원으로 전쟁의 상처를 기억하고 한반도의 평화를 기원하는 문화·체험 공간이다. 강화 교동도에 위치한 대릉시장은 피난 온 실향민들이 고향의 시장을 본떠 만든 전통시장이다. 철원에 위치한 노동당사는 해방 직후 북측 정권이 사용하던 건물이다. 파주에 위치한 오두산통일전망대는 임진강과 북한 지역을 전망할 수 있는 장소이다.</p>
160	<p>다음 중 남과 북이 국제 스포츠 대회에서 단일팀을 구성한 종목이 아닌 것은? ① 탁구 ② 농구 ③ 야구 ④ 축구</p> <p style="text-align: right;">[정답] ③</p> <p>【해설】 탁구는 1991년 세계탁구선수권대회에서 최초로 단일팀을 구성하여 금메달을 획득하였고, 농구는 2018년 자카르타-팔렘방 아시안게임에서 최초로 단일팀을 구성하고 은메달을 획득했다. 축구는 1991년 세계청소년축구대회에서 단일팀을 구성하여 8강에 진출하였다.</p>

번호	문항
	<p>도라산역은 경기도 파주시 민간인 통제구역 안에 있는 경의선의 최북단역이다. “남쪽의 마지막 연이 아니라 북쪽으로 가는 첫 번째 역”이라는 슬로건으로 유명하며, 한반도 분단과 통일 염원을 상징하는 장소이다. 맞으면 O, 틀리면 X를 쓰시오.</p> <p style="text-align: right;">[정답] O</p>
161	<p>【해설】 2002년 4월 11일 만들어진 도라산역은 경기도 파주시 민간인 통제구역에 위치한 경의선의 최북단 역으로, 실제로 일반적인 철도 운영의 종착역이기보다 남북 연결을 염두에 두고 건설된 상징적인 역이다. 이 역은 “남쪽의 마지막 역”이 아니라 “북쪽으로 가는 첫 번째 역”이라는 슬로건을 통해 분단의 끝이 아닌 통일과 연결의 출발점이라는 의미를 강조하고 있다. 실제로 향후 남북 철도 연결이 이루어질 경우, 도라산역은 북한을 거쳐 대륙으로 이어지는 관문 역할을 하게 된다. 일제강점기였던 1929년 10월 처음 개최된 ‘경평대항○○전’은 서울과 평양을 오가며 열렸으며, 광복 직후인 1946년까지 이어졌다. 이러한 역사에 따라서 서울시는 남북교류협력 차원에서 ‘경평○○’의 복원을 추진하고 있다. 위 ○○에 들어갈 스포츠 경기 종목은 ‘배구’이다. 맞으면 O, 틀리면 X를 쓰시오.</p> <p style="text-align: right;">[정답] X</p>
162	<p>【해설】 ‘경평대항축구전’은 일제강점기였던 1929년 10월 서울(경성)과 평양의 축구팀이 맞붙는 형태로 처음 개최되었다. 식민지 지배 속에서 억눌린 민족의 자존심을 고취하고 지역 간 경쟁을 통해 민족적 결속을 강화하려는 배경에서 시작되었다. 이후 서울과 평양을 오가며 이어졌으나, 광복 이후인 1946년 남북 간 정치적 상황 변화와 교류 단절로 인해 중단되었다.</p> <p>이를 복원하고자 지자체 차원의 남북교류협력으로 서울시는 ‘경평축구’의 부활을 위해 2012년 1월 북측에 ‘경평축구’ 재개를 정식으로 제안했고, 2016년 11월에는 서울-평양 교류협력사업의 하나로 2017년 전국체전 100주년에 ‘경평축구’ 개최를 제안하기도 했지만 성사되지</p>

번호	문항
	않았다.
	남한에서 금강산 관광을 갈 때 자가용으로도 이동할 수도 있었다. 맞으면 O, 틀리면 X를 쓰시오.
163	<p style="text-align: right;">[정답] O</p> <p>【해설】 금강산 관광은 1998년 11월 유람선을 이용한 해상 관광 형태로 운영을 시작하였다. 이후 2003년 남북을 잇는 도로가 개통되면서 관광 버스 등을 통한 육로 관광이 진행되었다. 2008년 3월부터는 자가용을 통한 금강산 관광으로 발전하였다. 하지만 금강산 관광은 2008년 7월 11일 새벽에 금강산 관광객이 장전향 북한 측 구역 내에서 북한 군인의 총격을 받아 사망하여 중단되었다.</p>
	금강산 관광 사업은 1998년 시작되어 2008년 중단될 때까지 약 10년간 진행되었고, 약 195만 명의 남한 관광객이 방문하였다. 맞으면 O, 틀리면 X를 쓰시오.
164	<p style="text-align: right;">[정답] O</p> <p>【해설】 현대아산의 추계에 따르면 금강산 관광사업이 1998년 시작되어 2008년 중단될 때까지 금강산에 방문한 남한 관광객은 약 195만 6천 명이다. 금강산 관광은 관광객 및 매출액 증가 등을 통한 국민경제적 효과와 금강산 방문 과정에서 강원도의 지역경제 활성화 효과, 관광수지 개선 효과 등의 직접적인 효과를 포함하여, 국가 신인도 제고를 통한 외채 상환 부담 경감과 외자 유치 확대, 고용 유발 등의 간접 효과도 초래하였다.</p>
165	<p>원산은 북한 강원도에 위치한 항구 도시로, 대표적인 관광 중심지이다. 맞으면 O, 틀리면 X를 쓰시오.</p> <p style="text-align: right;">[정답] O</p> <p>【해설】 원산은 북한 강원도에 위치한 항구 도시이다, 동해에 접해 있으며 2025년 개장한 원산갈마지구가 있는 곳이다.</p>
166	<p>다음 중 북한 강원도 마식령 스키장에 대한 설명으로 알맞지 않은 것은?</p> <p>① 남북 단일팀 겨울 스포츠 선수들의 공동 훈련 장소로 활용되었다. ② 국제 스키대회 유치와 관광객 유치를 위해 개발된 대표적인 겨울</p>

번호	문항
	관광지이다.
	<p>③ 군사적 목적으로 남북이 합동 훈련을 진행하기도 했다. ④ 남북 체육 교류와 평화 협력 상징 지역으로 평가된다.</p> <p style="text-align: right;">[정답] ③</p>
	<p>【해설】 2013년 12월에 개장한 마식령 스키장은 북한 강원도에 위치한 대표적인 겨울 관광지이자 남북 체육 교류 장소이다. 2018년 평창 올림픽 남북 단일팀 준비를 위한 남북 스키 선수들의 공동 훈련이 진행된 바 있으며, 관광과 체육 교류를 통한 평화 협력 상징지로 평가된다. 다만 군사적 목적으로 남북이 합동 훈련을 한 적은 없다.</p>
	북한의 수도 평양에선 외국인 관광객을 대상으로 한 관광이 이루어졌다. 단체 관광은 물론, 경비행기를 활용한 관광 사업도 진행된 바 있다. 맞으면 O, 틀리면 X를 쓰시오.
167	<p style="text-align: right;">[정답] O</p> <p>【해설】 북한의 수도인 평양에서는 외국인 관광객을 대상으로 다양한 관광이 이루어졌다. 단체 관광뿐만 아니라 2016년 무렵에 경비행기를 활용한 항공 관광도 진행된 바 있어 관광객들에게 도시 전경과 주요 명소를 색다른 시각에서 관람할 기회를 제공했다.</p>
	다음 중 남북의 역사학자들이 공동으로 진행한 사업이 아닌 것은?
168	<p>① 평양 단군릉 발굴 및 복원 사업 ② 개성 만월대 공동 발굴사업 ③ 뤼순 안중근 의사 유해 발굴 및 봉환 조사 사업 ④ 평양 일대 고구려 고분군에 대한 공동 실태 조사</p> <p style="text-align: right;">[정답] ①</p> <p>【해설】 평양 단군릉 발굴 및 복원 사업은 1994년 북한이 독자적으로 추진하였다.</p>
	다음 중 《겨레말큰사전》의 성격에 대한 설명이 아닌 것은?
169	<p>① 우리 겨레가 오랜 기간에 걸쳐 창조하고 발전시켜 온 민족어 유산을 조사·발굴하여 총 집대성한 사전이다. ② 사전 편찬에서 제기되는 여러 가지 문제들을 남과 북이 공동으로</p>

번호	문항
	<p>합의·해결한 통일 지향적인 사전이다.</p> <p>③ 수집한 어휘 자료 가운데서 남과 북에서 공통으로 쓰는 어휘만을 수록한 대사전이다.</p> <p>④ 정보화 시대의 요구에 맞게 전자사전을 동시에 발행할 수 있도록 여러 가지 언어 정보를 주는 현대 사전이다.</p> <p style="text-align: right;">[정답] ③</p> <p>【해설】 《겨레말큰사전》 편찬 사업은 남북의 언어 이질화를 극복하고 국어의 통합을 이루기 위해 2005년 2월 20일 금강산에서 남북공동 편찬위원회가 결성되며 공식적으로 시작되었다. 이후 2015년까지 금강산, 개성 등지를 오가며 총 25차례의 공동편찬위원회 회의가 개최되었으며, 이 과정에서 남과 북이 공통으로 사용하는 어휘 약 21만 개를 우선 수록하였다. 또한, 남과 북에서 서로 다르게 사용하여 합의를 통해 단일화한 어휘 약 7만 개를 추가로 수록함으로써, 분단 이후 최초로 남북이 함께 사용할 수 있는 통합 국어 대사전의 기틀을 마련하였다.</p>
	<p>남북의 학자들은 일제강점기 당시 약탈당한 문화재 반환을 위한 공동 학술 토론회를 개최한 적 있다. 맞으면 O, 틀리면 X를 쓰시오.</p> <p style="text-align: right;">[정답] O</p> <p>【해설】 남북 학자들은 일제강점기 약탈 문화재의 실태를 공동으로 조사하고 반환 방안을 모색하기 위해 2004년 2월 평양에서 학술 토론회를 개최한 바 있다. 이 회의는 역사 문제에 대한 공동 대응과 민족 문화유산 회복을 위한 협력의 일환으로 이루어졌으며, 남북한이 함께 협의하며 문화재 반환 문제를 논의한 대표적 사례이다. 실제로 이 과정을 포함한 반환 협의와 노력 끝에, 약탈당한 문화재인 북관대첩비가 2006년 북한으로 반환되었다. 북관대첩비는 임진왜란 당시 함경도 지역에서 일본군을 물리친 승리를 기념하기 위해 1707년에 세워진 비석으로, 1905년 일본군에 의해 일본으로 반출되었다가 한일 시민사회와 남북 협력의 노력으로 약 100년 만에 북한으로 돌아온 문화재이다.</p>
170	<p>남북한 간에 사회문화 교류를 통한 평화 정착 노력에 대한 다음 설명 중 잘못된 것은?</p> <p>① 남북 사회문화 교류는 1985년 이산가족 고향방문으로부터 시작되었다.</p> <p>② 1985년 이산가족 고향 방문에는 남북예술단의 상호 동행 방문 공연이 이루어졌다.</p> <p>③ 지금까지 남북한 간 이산가족 상봉은 대면 형식으로만 진행되었다.</p> <p>④ 2005년부터는 이산가족의 고통화로 화상 상봉을 도입하였다.</p> <p style="text-align: right;">[정답] ③</p> <p>【해설】 남북한의 사회문화 교류 또한 한반도 평화 정착 노력의 중요한 일환이다. 남북 사회문화 교류는 1985년 이산가족 고향 방문으로부터 시작되었는데, 남북예술단도 상호 동행하여 방문 공연을 함으로써 사회문화 교류의 출발점이 되었다. 한반도에서 이산가족 문제는 남북한의 정치 이념과 제도를 초월하는 인도적 문제이면서 한반도 평화의 필</p>
171	<p>남북의 역사학자들은 함흥 일대에서 고구려 고분군에 대한 공동 실태 조사를 진행한 적 있다. 맞으면 O, 틀리면 X를 쓰시오.</p>

번호	문항
	<p style="text-align: right;">[정답] X</p> <p>【해설】 고구려 고분군은 주로 평안도 지역과 중국 지린성 일대에 분포해 있으며, 특히 고구려 고분군은 2004년 유네스코 세계문화유산으로 등재되었다. 남북 역사학자들은 평양 일대에서 고구려 고분군에 대한 공동 실태 조사를 진행하였다.</p>
172	<p>2018년 남북 정상회담 이후, 우리 정부는 제주산 감귤 200톤을 북한에 선물 보냈다. 맞으면 O, 틀리면 X를 쓰시오.</p> <p style="text-align: right;">[정답] O</p> <p>【해설】 2018년 남북 관계가 개선되던 시기, 우리 정부는 북한 정부가 자연산 송이버섯 2톤을 선물한 것에 대한 답례로 제주산 감귤 200톤을 북한에 보냈다. 이는 상징적 남북 교류의 일환으로 이루어진 사례이다. 한편, 2018년 이전에도 민관 차원에서 감귤을 북한에 보내는 활동이 이어져왔다. 1998년 이후 제주도와 제주 지역 단체들은 인도적·교류 목적에서 수십~수백 톤 단위의 감귤을 매년 북한에 지원하며 지속적인 민간 교류를 진행하였으나, 현재는 중단되었다.</p>
173	<p>남북한 간에 사회문화 교류를 통한 평화 정착 노력에 대한 다음 설명 중 잘못된 것은?</p> <p>① 남북 사회문화 교류는 1985년 이산가족 고향방문으로부터 시작되었다.</p> <p>② 1985년 이산가족 고향 방문에는 남북예술단의 상호 동행 방문 공연이 이루어졌다.</p> <p>③ 지금까지 남북한 간 이산가족 상봉은 대면 형식으로만 진행되었다.</p> <p>④ 2005년부터는 이산가족의 고통화로 화상 상봉을 도입하였다.</p> <p style="text-align: right;">[정답] ③</p> <p>【해설】 남북한의 사회문화 교류 또한 한반도 평화 정착 노력의 중요한 일환이다. 남북 사회문화 교류는 1985년 이산가족 고향 방문으로부터 시작되었는데, 남북예술단도 상호 동행하여 방문 공연을 함으로써 사회문화 교류의 출발점이 되었다. 한반도에서 이산가족 문제는 남북한의 정치 이념과 제도를 초월하는 인도적 문제이면서 한반도 평화의 필</p>

번호	문항
	<p>요성을 근본에서 제기하는 남북 교류협력의 중요한 고리이다. 남북한 간에 이산가족 상봉은 1985년부터 2018년까지 대면상봉 총 21차례, 화상 상봉 7차례가 이루어졌으며, 우편을 통해서 진행된 사례도 있다. 주로 금강산 이산가족면회소와 금강산 지역에 위치한 개금강 호텔 등에서 주로 진행되었다. 2005년부터는 이산가족의 고통화로 화상 상봉을 도입하기도 하였으나, 2018년을 마지막으로 대면 상봉은 진행되지 못하고 있다.</p>
174	<p>정부는 민간 차원에서 이루어지는 이산가족 교류에 대해 경비 일부를 지원하고 있다. 맞으면 O, 틀리면 X를 쓰시오.</p> <p style="text-align: right;">[정답] O</p> <p>【해설】 정부는 당국차원의 이산가족 교류와 함께 민간 차원의 교류 활성화를 위해 민간 차원의 이산가족 교류에 대해 경비를 지원하고 있습니다. 경비 지원 기준은 생사확인 300만원, 상봉 600만원, 교류지속(서신교환) 80만원 범위 내이며, 실제 소요경비를 각 1회에 한하여 지급하고 있습니다. 1998년부터 2024년까지 민간교류 12,086건 중 2,919건에 대해 총 34억3천만원을 지원하였습니다.</p>
175	<p>다음의 그림 <게르니카>(1937년 作)는 전쟁의 공포와 잔혹성, 그리고 평화의 소중함을 표현한 그림이다. 당시 히틀러의 나치 전투기들이 스페인의 지방 도시 ‘게르니카’를 폭격해 2천여 명이 희생되는 참사가 있었다. 이 그림은 죽은 아이를 안고 절규하고 있는 어머니 등 전쟁의 참상 속과 인간의 절망을 생생하게 담아내어 전쟁에 저항하는 평화의 상징이 되었다. 입체파를 이끈 거장으로도 잘 알려진 이 그림의 화가는 누구인가?</p>

번호	문항
	 <p>① 피카소 ② 반 고흐 ③ 살바도르 달리 ④ 르노아르</p> <p style="text-align: right;">[정답] ①</p> <p>【해설】 이 그림은 스페인 내전 당시 독일 나치의 공습으로 파괴된 게르니카 마을의 비극을 계기로, 파블로 피카소가 그린 그림이다. 그림 속에는 죽은 아이를 안고 절규하는 어머니, 고통 속에 몸부림치는 인간과 동물들이 뒤엉켜 있으며, 이는 전쟁이 개인의 삶을 얼마나 처참하게 무너뜨리는지를 상징적으로 보여준다. 특히 색채를 배제한 흑백 표현은 참혹한 현실을 더욱 강조하며, 전쟁이 남기는 공포와 절망을 강렬하게 전달한다. 이처럼 <게르니카>는 특정 사건을 넘어 전쟁의 비인간성과 잔혹성을 고발하고, 평화의 소중함을 일깨운 대표적인 반전(反戰) 작품으로 평가된다.</p>
176	<p>(가), (나)에 들어갈 말을 각각 쓰시오.</p>

번호	문항
	<ul style="list-style-type: none"> “적대로 인한 분단 비용을 평화에 기반한 성장 동력으로 바꿔내면 ‘코리아 [가]’를 ‘코리아 [나]’으로 전환할 수 있다.”(제22기 민주평화통일자문회의 출범회의, 의장 이재명 대통령 연설) 코리아 [가]란 분단으로 인한 전쟁 가능성이나 정치 및 안보 불안 등 지정학적 위험과 더불어 후진적인 기업 지배구조 등의 제도적 요인 등이 투자자들에게 위험 요소로 인식되어 한국 자산의 가치를 미리 낮춰 평가하는 현상을 말한다. 코리아 [나]은 한반도 평화와 안정이 정착되거나 제조업 혁신 등 투자 환경이 개선되어 경제적 가치가 높게 평가되는 상황을 말한다. <p style="text-align: right;">[정답] 리스크 / 프리미엄</p> <p>【해설】 한국 기업과 한국 주식시장이 실제 경제력이나 기업 실적에 비해 낮게 평가되는 현상을 ‘한반도 리스크’ 혹은 ‘코리아 리스크’라고 한다. 분단으로 인한 전쟁 가능성이나 정치 및 안보 불안 등 지정학적 위험과 후진적인 기업 지배구조 등 제도적 환경 등에 대한 우려 등이 투자자들에게 위험 요소로 판단되어 한국 자산의 가치를 미리 낮춰 평가하기 때문이다. 반대로 ‘코리아 프리미엄’은 한반도 평화와 안정이 정착되거나 기업 운영 및 제조업 혁신 등 투자 환경이 개선되고 경제적 가치가 높게 평가되는 상황을 뜻한다.</p>
177	<p>다음의 내용이 이루어졌던 대표적인 남북 경제협력 사업의 지역은?</p> <div style="border: 1px solid black; padding: 5px;"> <ul style="list-style-type: none"> 남북이 합작한 북한 경제특구이다. 2000년 8월 현대아산과 북한 합의를 바탕으로 추진되어 2004년부터 본격 가동되었고 2016년 전면 중단되었다. </div> <p>① 해주 ② 개성 ③ 나진 ④ 신의주</p> <p style="text-align: right;">[정답] ②</p> <p>【해설】 개성공단은 남북이 합작해 조성한 북한의 경제특구로 2000년 8월 현대아산과 북한의 합의를 계기로 추진되어 2004년 가동, 2016년 전면 중단되었다. 운영 중에는 약 125여 개 남한 기업이 공단에 입주해</p>

번호	문항
	<p>제품을 생산했고, 약 55,000명 이상의 북한 근로자가 고용된 것으로 평가된다. 통일부 발표에 따르면, 총 누적 생산액은 약 32억 달러(약 3조 5천억 원)에 이른다. 이처럼 개성공단은 남북한 근로자 고용을 통해 직접적으로 일자리를 창출하고, 북한 인력 자원을 활용해 남한 기업의 생산비 절감을 도모했으며, 남북 경제 협력의 상징이라는 점에서 의의가 있다.</p>
178	<p>개성공단 사업은 우리의 자본과 기술에 북한의 토지와 인력 등이 결합하여 추진된 남북 경제협력 사업이다. 맞으면 O, 틀리면 X를 쓰시오.</p> <p style="text-align: right;">[정답] O</p> <p>【해설】 개성공단사업은 남북 협력을 상징하는 사업으로 2000년 8월 현대아산과 북한의 합의서 체결을 계기로 시작되어 2003년 6월 30일 착공식을 거행한 후 2004년 12월 15일 공장이 가동되어 제품생산을 시작하였다. 당시 북측 근로자는 약 5만 명 정도였으며, 남측 기업 직원 수는 1천 명 수준이었다. 정치적인 상황에 따라 중단, 재개 등의 반복을 거듭하다 2016년 2월 이후 전면 중단된 상태이다.</p>
179	<p>다음의 _____에 들어갈 말(세 글자)이 무엇인지 쓰시오.</p> <div style="border: 1px solid black; padding: 5px;"> <ul style="list-style-type: none"> _____개발계획(TRADP)은 동북아 접경지역(북한·중국·러시아 등) 중심의 경제협력 및 개발을 목표로 한 다자 협의체로, 2005년 광역 _____개발계획(GTI)으로 전환되었다. _____ 하류 유역을 중심으로 한 인프라, 교통, 산업단지, 에너지 협력 등을 목표로 하며 남북 및 북방 국가 간 경제 협력 기반 마련에 기여하고자 한다. </div> <p style="text-align: right;">[정답] 두만강</p> <p>【해설】 두만강개발계획(Trumen River Development Plan, TRADP)은 유엔개발계획(UNDP)의 주도로 1990년대 후반 시작된 다자간 경제협력 프로젝트이다. 2005년에는 범위를 확장하여 광역두만강개발계획(Greater Tumen Initiative, GTI)로 전환되면서 중국(동북3성, 내몽고), 몽골(동부지역), 러시아(연해주 일부), 북한(나선 등 두만강유역), 한국</p>

번호	문항
	(동해안)으로 협력 범위를 확대하였다. 물류·교통, 산업단지, 에너지 등 다양한 협력 사업을 포함하여 개발 계획이 논의되었으나, 북핵 문제와 국제 제재로 인해 실제 사업 진행은 제한적이었다. 두만강개발계획은 동북아 최초로 국가 간 경제협약체를 구상하였다는 점에서 의의가 있다.
180	<p>북한 함경북도 나진시와 선봉군 일대에 위치한 경제 특구로, 항만과 철도 등 물류 인프라가 갖춰진 전략적 경제구역이다. 북한 정부가 외국인 투자 유치에 대해 지정한 이곳이 어디인지 쓰시오.</p> <p style="text-align: right;">[정답] 나진-선봉 자유무역지대</p> <p>【해설】 나진-선봉 자유무역지대는 1991년 12월 북한 최초의 자유경제 무역지대로 지정되었으며, 북한 함경북도 나진시와 선봉군 일대에 위치한 경제 특구로, 항만과 철도 등 물류 인프라가 갖춰진 전략적 경제구역이다. 북한 정부가 외국인 투자 유치와 수출입 촉진을 목적으로 지정하였으며, 남북 경협과 북방 경제 연계의 잠재적 거점으로 평가된다. 주요 목적은 외국인 투자 유치를 통해 경제 활성화를 도모하고, 항만과 철도를 중심으로 한 산업단지 개발과 물류 중심 경제구조를 구축하는데 있다. 또한 러시아와 중국 등 북방 국가와의 교역 및 물류망 연계를 통해 남북 및 북방 연계 경제를 활성화하려는 전략적 의미도 있다. 그러나 북한 핵 문제와 국제 제재 등으로 인해 대규모 투자와 산업단지 개발은 제한적이었으며, 남북 기업 참여 또한 현실적으로 제한적이었던 한계가 있다.</p>
181	<p>2007년 10.4 남북 정상회담에서는 개성공단 외에도 경제특구를 더 짓기로 합의하였다. 북한 측이 서부전선 일대를 양보하기로 했던 이 지역은?</p> <p>① 평양 ② 해주 ③ 신의주 ④ 청진</p> <p style="text-align: right;">[정답] ②</p> <p>【해설】 「10·4 남북공동선언」 5항에서 남과 북은 해주지역과 주변 해역을 포괄하는 서해평화협력특별지대를 설치하고 공동어로구역과 평화수역 설정, 경제특구건설과 해주항 활용, 민간 선박의 해주 직항로 통과, 한강하구 공동이용 등을 적극 추진해 나가기로 하였다.</p>

번호	문항
182	<p>다음과 같이 분단으로 발생한 문제로 인해 우리가 부담해야 할 비용을 무엇이라고 하는지 쓰시오.</p> <div style="border: 1px solid black; padding: 5px; margin: 10px 0;"> <ul style="list-style-type: none"> ● 이산가족의 생사 확인·상봉·재결합 등 인도적 문제 ● 남북한의 군사적 대치로 인한 과도한 국방비 문제 ● 대륙의 일원이지만 육로로는 대륙으로 진출할 수 없는 지정학적 문제 ● 국제사회에서 소모적으로 대결해야 하는 외교적 문제 </div> <p style="text-align: right;">[정답] 분단비용</p> <p>【해설】 분단비용이란 남북 분단이 지속되는 한 우리가 떠안아야 할 부담을 총칭하여 일컫는 용어이다. 분단비용에는 눈에 보이는 유형적 비용과 눈으로 직접 확인하기 어려운 무형적 비용이 있다. 유형적 비용은 국방에 소요되는 안보 비용, 외교 비용, 체제 유지비 등이 있고, 무형적 비용은 전쟁에 대한 공포, 이산가족의 고통, 이념 갈등, 국토이용의 제한 및 불균형 발전 등 사회 문제와 연관된 비용을 의미하며 사회적 비용이라고도 한다.</p>
183	<p>다음 중 통일 비용이 아닌 것은?</p> <p>① 한반도 도로·철도·수로 개선 비용 ② 경제(기업) 활성화 지원 비용 ③ 사회적 혼란 비용 ④ 군사 비용</p> <p style="text-align: right;">[정답] ④</p> <p>【해설】 통일비용이란 통일 이후 남북이 하나의 체제를 이루기 위해 지출해야 하는 경제적·비경제적 비용을 말한다. 한반도 도로·철도·수로 개선 비용, 경제(기업) 활성화 지원 비용(지역 경제 활성화, 전철 등 근거리 교통 지원), 사회 보장성 비용(연금, 육아, 노동 시장 보조), 인구 이동에 따른 주택, 교통, 교육 등에서의 혼잡 비용, 사회적 혼란 비용 등이 있다. 그러나 군사 비용은 일반적으로 국가 안보 유지와 군사력 유지에 사용되는 비용으로, 통일 이후 사회 경제 통합 과정에서</p>

번호	문항
	발생하는 통일 비용의 범주에 포함되지 않는다. 오히려 군사 비용은 분단을 유지할 때 발생하는 분단 비용에 포함된다.
	통일이 가져다 줄 경제적·경제외적 보상과 혜택의 총체를 의미하는 용어를 쓰시오. [정답] 통일편익
184	【해설】 통일편익의 유형적 편익으로는 국방비 감축, 외교적 경쟁 비용 해소, 경제 규모 확대 및 남북 경제의 보완성 증대 등이며, 무형적 편익으로는 이산가족문제 해결, 전쟁 가능성 소멸, 국제적 지위 향상, 자율성의 신장, 생활환경의 확산, 다원화된 문화의 확산 등이다.
	남북은 북한의 산림 훼손 및 황폐화에 대응해 산림 복구 기술 협력을 추진했다. 맞으면 O, 틀리면 X를 쓰시오. [정답] O
185	【해설】 남북은 2018년 판문점 선언 이후 남북산림협력분과회담을 개최하여 산림 협력을 추진하였다. 북한의 산림 훼손과 황폐화 문제에 공동으로 대응하기 위해 산림 병해충 공동 방제, 양묘장(묘목 생산시설) 현대화, 산림 복구 기술 협력, 조림 사업 추진 등을 협력 과제로 합의하였다. 또한 2018년 경기도 파주에 남북 산림협력센터가 설치되어 북한 산림 황폐화 문제 해결을 위해 묘목 생산과 양묘장 현대화, 조림 기술 지원, 산림 병해충 공동 방제, 산림 복구 기술 협력 등 다양한 남북 산림협력 사업을 수행하고 있다.
	다음 중 민간 및 지자체 차원에서 이루어진 남북 교류협력 사업의 사례가 아닌 것은? ① 북한 어린이 대상 의약품 및 병원 환경 개선 지원 사업 ② 북한 지역 빵 공장 건설 및 식량 생산 지원 사업 ③ 북한 지역 딸기 재배 단지 조성 및 농업 기술 지원 사업 ④ 북한 군수산업 지원 [정답] ④
186	【해설】 어린이 병원 지원 사업은 남한의 시민단체인 ‘어린이 어깨동무’가 중심이 되어 2000년대 이후 지속적으로 추진한 인도적 지원 사

번호	문항
	업이다. 북한 지역 빵 공장 건설 사업은 ‘우리민족서로돕기운동’을 비롯한 민간 단체와 일부 지자체가 2000년대 초반부터 추진한 사업으로, 평양 등지에 제빵 공장을 설립하고 설비와 원료, 기술을 지원하여 주민들에게 빵을 공급하도록 하였다. 또한 경상남도는 2000년대 후반 남북 농업 협력의 일환으로 북한 지역에 비닐하우스 등 재배 시설과 모종, 재배 기술을 지원하여 지속 가능한 농업 기반을 조성하는 데 도움을 주었다.
	정부는 비무장지대(DMZ)의 평화를 공고히 정착시키고, 접경지역의 번영과 발전을 촉진하기 위해 ‘DMZ 평화의 길’을 조성하였다. 다음 중 ‘DMZ 평화의 길’이 조성된 지역이 아닌 곳은? ① 고성 ② 철원 ③ 강화 ④ 파주 [정답] ③
187	【해설】 2018년 남북정상회담에서 DMZ를 실질적 평화지대로 만들기로 합의했고, 이에 따라 정부는 접경지역의 평화와 지역 발전을 위해 고성, 철원, 파주에 DMZ 평화의 길을 조성하였다. 실제로 일부 구간이 개방되어 관광 및 생태 체험이 가능하지만, 군사적 안전과 접근 제한으로 전 구간 활용은 제한적이다.
	2020년 개정된 남북교류협력법에 따라 지방자치단체는 독자적인 남북교류 협력 사업의 주체로 인정되지 않는다. 맞으면 O, 틀리면 X를 쓰시오. [정답] X
188	【해설】 2020년 개정된 남북교류협력법(남북교류협력에 관한 법률) 제 24조의 2항에 따라 지방자치단체는 남북교류·협력 사업의 주체로 인정되며, 인도적 지원, 사회·문화 교류 등을 추진할 수 있게 되었다. 그러나 개정 이전 법률에서는 지방자치단체가 명시적인 사업 주체로 규정되지 않았다. 그럼에도 경기도, 강원도 등 지방자치단체가 중앙정부의 승인 아래 농업 협력이나 인도적 지원 등 다양한 남북 교류 사업을 추진해 왔다.
189	다음은 남북 관계 발전과 평화통일의 노력에 대한 설명이다. 맞으면 O, 틀리면 X를 쓰시오.

번호	문항
	<p>남북 관계 발전과 평화통일의 노력은 정부만이 아닌 민간 차원의 노력도 병행돼야 한다. 그동안 대북 인도적 지원과 개발지원 및 남북사회문화협력에 NGO와 지방자치단체가 많이 참여해 왔으며, 현재 17개 광역자치단체는 자체적으로 남북교류협력 조례 제정 및 기금 조성 등을 통해 남북교류협력 사업을 지원하고 있다.</p> <p style="text-align: right;">[정답] O</p> <p>【해설】 1999년 제주도의 감귤 지원 사업을 시작으로 지방자치단체의 대북교류 및 인도적 지원 사업은 긴급구호 및 복구지원에서 개발지원으로 전환됐으며, 사업 내용도 단순한 물자지원에서 프로젝트 사업으로 발전(예: 농촌개발 사업은 환경개선 사업과 소득증대 사업으로 구성 등) 되었다. 이를 지원하기 위해 지자체는 자체 조례를 제정하고 기금을 조성해 왔으며, 현재 17개 광역지자체가 관련 조례를 제정하여 운영 중이다.</p>
190	<p>현재 남과 북을 나누는 분단선의 이름을 ‘38도선’ 이라고 한다. 맞으면 O, 틀리면 X를 쓰시오.</p> <p style="text-align: right;">[정답] X</p> <p>【해설】 1953년 7월 27일 정전협정에 따라 남과 북을 나누는 분단선의 이름을 ‘군사분계선(MDL)’ 혹은 ‘휴전선’ 으로 명명하였다.</p>
191	<p>2018년 4·27 남북정상회담 오전 회담을 마치고, 남북정상은 1998년 고 정주영 회장이 소떼 방북을 했던 소떼 길에 기념식수를 하였다. 정전협정이 체결된 1953년산 소나무를 심고, 백두산, ()산의 흙과 한강, ()강의 물을 뿌렸다. ()안에 들어갈 강과 명칭을 쓰시오.</p> <p style="text-align: right;">[정답] 한라, 대동</p> <p>【해설】 4·27 남북정상회담 이후 기념식수로 정전협정이 체결된 해를 의미하는 1953년생 소나무와 남과 북을 상징하는 한라산, 백두산 흙과 남과 북의 수도인 한강, 대동강 물을 뿌렸다. 4.27 남북정상회담은 2018년 4월 27일 판문점에서 대한민국 대통령 문재인과 북한 국무위원장 김정은이 만나 개최한 정상회담이다. 이 회담에서 양 정상은 한반도의 전쟁 종식을 확인하고, 완전한 비핵화와 항구적 평화체제 구축을 위</p>

번호	문항
	<p>해 노력하기로 합의하였으며, 이를 담은 「판문점 선언」을 발표하였다. 걸그룹 레드벨벳은 남측 예술단으로 북측에서 공연한 적 있다. 맞으면 O, 틀리면 X를 쓰시오.</p> <p style="text-align: right;">[정답] O</p> <p>【해설】 2018년 4월 1일 평양 동평양대극장과 4월 3일 류경정주영체육관에서 남북평화 협력기원 남측예술단 평양 공연이 개최되었다. “봄이 온다(Spring is Coming)” 라는 부제목으로 개최된 공연에는 레드벨벳, 조용필, 이선희, 윤도현(YB), 백지영, 서현(소녀시대) 등 남측 주요 가수와 아이돌 그룹이 참여하였다. 공연은 북한 관객과 김정은 국무위원장 앞에서 진행되었으며, 남북 간 문화교류와 평화 분위기 조성에 기여하였다.</p>
192	<p>다음 중 한반도 분단 구조로 인해 나타난 혐오 문화의 예시가 <u>아닌</u> 것은?</p> <p>① 대북·통일 문제에서의 편 가르기 ② 북한 문화·예술에 대한 배척 ③ 남북 간 군사분계선(MDL) 설치 ④ 북한이탈주민에 대한 차별과 편견</p> <p style="text-align: right;">[정답] ③</p> <p>【해설】 군사분계선 설치하는 1953년 7월 27일 체결한 정전 체제 하에서 군사적 충돌을 방지하기 위한 제도적·물리적 장치로, 혐오 문화의 사례로 보기는 어렵다.</p>
193	<p>1978년 제33차 유엔총회에서 평화의 개념을 단순히 전쟁이나 물리적 폭력이 없는 상태가 아니라 정의가 존재하는 상태로 정의했다. 맞으면 O, 틀리면 X를 쓰시오.</p> <p style="text-align: right;">[정답] O</p> <p>【해설】 1978년 제33차 유엔총회는 평화를 단순히 전쟁이나 물리적 폭력이 없는 상태가 아니라 정의가 존재하는 상태로 정의했다. 진정한 평화의 상태는 전쟁 부재의 단계를 넘어 인간의 기본적 권리와 욕구, 정의가 구현되는 사회라는 적극적 평화의 개념으로 정의를 내렸다.</p>
194	<p>1999년 유엔(UN)은 ‘평화문화에 대한 선언’ 과 ‘실행계획’ 을 결의안</p>
195	

번호	문항
	<p>으로 채택하여 평화문화에 대해 정의하였다. 이 중 평화문화로 정의된 것이 <u>아닌</u> 것은?</p> <p>① 갈등의 평화적 해결 ② 인권과 자유, 발전권, 남녀평등의 증진 ③ 교육, 대화, 협력을 통한 비폭력의 중단 ④ 국가의 주권, 영토적 통합, 정치적 독립 등을 존중</p> <p style="text-align: right;">[정답] ③</p> <p>【해설】 1999년 유엔(UN)이 채택한 ‘평화문화에 대한 선언’에서는 평화문화를 단순히 전쟁이 없는 상태가 아니라, 폭력을 예방하고 갈등을 평화적으로 해결하려는 가치·태도·행동 양식의 총체로 정의하였다. 선언에서는 평화문화에 대해 교육, 대화, 협력을 통한 비폭력의 중단이 아닌 실천을 강조했다.</p>
196	<p>북한이 2021년 UN에 지속가능발전목표(SDGs)를 달성하고자 자발적 국가검토(VNR)를 신고하였다.</p> <p style="text-align: right;">[정답] O</p> <p>【해설】 북한 VNR보고서란 UN에 제출한 ‘자발적 국가검토(Voluntary National Review, VNR) 보고서’로, 자국이 지속가능발전목표(Sustainable Development Goal, SDGs)를 얼마나 달성하고 있는지, 그리고 어떻게 이행할 계획인지를 설명하는 문서이다. SDGs는 2030년까지 달성해야 하는 17개의 목표로, 빈곤과 기아 해소, 건강과 교육, 기후변화 대응, 환경 보호 등이 있다. 북한 VNR 보고서에는 빈곤 감소, 기아 종식과 식량 안보 달성, 홍수, 가뭄 등 자연재해가 농업 생산과 식량 안보에 미치는 영향과 이에 대한 대비책, 기후변화로 인한 환경 변화 대응 방안, 재난 관리 체계 강화, 농업 및 지역 사회의 회복력 증진 전략 등이 포함되어 있다. 반면, 불평등 문제나 글로벌 파트너십 등의 항목은 충분히 다루지 않고 있다.</p>
197	<p>스마트폰, 전기차 배터리, 반도체, 풍력발전기 등 첨단 산업에 필수적으로 사용되며, ‘미래 산업의 비타민’이라고 불린다. 또한 북한 지역에 매장량이 많다고 알려져 있어 남북 관계 개선 이후 한국의 미래 산</p>

번호	문항
	<p>업 경쟁력을 높일 수 있는 전략 광물 자원은 무엇인지 쓰시오.</p> <p style="text-align: right;">[정답] 희토류</p> <p>【해설】 희토류는 첨단 산업에 필수적인 17개 희귀 금속 원소으로, 공급이 특정 국가에 편중되어 전략 자원으로 분류된다. 북한은 함경북도와 양강도 일대 등을 중심으로 희토류가 풍부하게 매장된 것으로 알려져 있으며, 일부 연구에 따르면 잠재 매장량을 약 2,000만~2억 톤 이상으로 추정하고 있다. 북한의 희토류는 향후 한반도 경제협력 확대 및 통일 이후 산업 기반 강화 측면에서 공급망 다변화와 첨단 산업 경쟁력 제고에 기여할 수 있는 잠재적 핵심 광물 자원으로 평가된다.</p>
198	<p>남북한은 2013년 ‘개성 역사 유적 지구’를 유네스코 세계 문화유산에 공동으로 등재하는 데 성공했다. 맞으면 O, 틀리면 X를 쓰시오.</p> <p style="text-align: right;">[정답] X</p> <p>【해설】 개성 역사 유적 지구는 2013년에 유네스코 세계 문화유산으로 등재되었지만, 이는 북한이 단독으로 추진한 결과이다. 하지만 남북한은 2006년부터 ‘개성 만월대 공동 발굴 조사’를 통해 고려 궁성 유적을 함께 복구하고 보존하는 학술 교류 사업을 벌이기도 하였다. 개성 만월대 남북 공동 발굴 조사는 남북 문화재 관련 학술 교류 사업이자 고려 궁성 유적을 공동으로 복구, 보존하여 우리 민족의 문화 자산을 지키는 남북 교류·협력 사업이다. 2006년부터 사업을 시작하여 2014년까지 총 1만 1,700여㎡를 발굴하였다. 이 과정에서 공동 조사단은 정전, 경령전 등 건물터 20개 동의 배치를 확인하였고, 고려 시대 원통형 청자, 명문 기와 등 유물 총 1만여 점을 수습하였다.</p>
199	<p>한반도는 삼면이 바다로 둘러싸인 반도국이다. 그러나 남북 분단으로 인해 반도국으로서의 지리적 장점을 살리지 못하고 있다. 다음 중 남북이 통일이 된다면 반도국으로서의 장점이 <u>아닌</u> 것은?</p> <p>① 주변국과의 교류 확대를 통해 경제·문화적 시너지를 창출한다. ② 기차를 타고 유럽으로 여행을 떠날 수 있다. ③ 육로 단절로 인해 해상 무역이 더욱 발달한다. ④ 국제 물류의 중심지가 될 수 있다.</p>

번호	문 항
	<p style="text-align: right;">[정답] ③</p> <p>【해설】 한반도는 삼면이 바다로 둘러싸인 반도국으로, 해양과 대륙을 동시에 연결할 수 있는 지리적 이점을 가지고 있다. 그러나 현재는 남북 분단으로 인해 대륙과 직접 연결되는 육로가 차단되어 이러한 이점을 충분히 활용하지 못하고 있다. 향후 남북관계가 개선될 경우 중국, 러시아 등 대륙 국가와의 육상 교통망이 연결되어 경제·문화 교류가 더욱 활발해질 수 있으며, 대륙 철도망과 연결되어 시베리아 횡단 철도 등을 통해 유라시아 대륙으로 직접 이동이 가능해질 것이다. 또한 해상과 육상을 동시에 활용하는 복합 물류 체계가 구축될 경우, 동북아 물류 허브로 성장할 수 있다.</p>
200	<p>북한 평양에 주재했거나 현재 주재 중인 유엔 산하 기구가 <u>아닌</u> 것은?</p> <p>① 세계보건기구(WHO) ② 유엔아동기금(UNICEF) ③ 국제통화기금(IMF) ④ 유엔식량농업기구(FAO)</p> <p style="text-align: right;">[정답] ③</p> <p>【해설】 북한 평양에 주재한 유엔기구로는 세계보건기구(WHO), 세계식량계획(WFP), 유엔개발계획(UNDP), 유엔식량농업기구(FAO), 유엔아동기금(UNICEF), 유엔인구기금(UNFPA), 유엔인도지원조정국(UNOCHA) 등 7개 였으나, 유엔인도지원조정국(UNOCHA)는 2005년도에 철수했다. 국제통화기금(IMF)은 북한과의 금융·경제 관계가 제한되고 대북 제재로 인해 금융 거래가 중단된 상황이어서 평양에 주재하지 않으며, 북한과 직접적인 상주 협력 활동을 수행하지 않는다.</p>