





Giovanna Giusti

# FARE GEOGRAFIA 2

## Europa

Percorsi di geografia semplificati e facilitati per alunni  
con BES e parlanti italiano L2

*a cura di*

Alan Pona - Giulia Stefanoni

**sestante** edizioni

© 2019 Sestante Edizioni - Bergamo  
www.sestanteedizioni.it

## **FARE GEOGRAFIA 2**

### **Europa**

Percorsi di geografia semplificati e facilitati  
per alunni con BES e parlanti italiano L2

Giovanna Giusti

p. 160 - cm 21x29,7

ISBN – 978-88-6642-321-8

*Tutti i diritti sono riservati. È vietata la riproduzione dell'opera o di parti di essa, con qualsiasi mezzo, compresa fotocopia, microfilm e memorizzazione elettronica, se non espressamente autorizzata dall'editore. L'Editore è a disposizione degli aventi diritto con i quali non è stato possibile comunicare, nonché per eventuali omissioni o inesattezze nella citazione delle fonti.  
Le fonti citate sono esclusivamente a scopo didattico.*

# Indice

<b>EUROPA DEL NORD</b>	PAG.	7
Svezia	»	9
Regno Unito	»	15
<i>Re Artù e i Cavalieri della Tavola Rotonda</i>	»	24
Irlanda	»	26
<i>Halloween</i>	»	31
<b>EUROPA DELL'OVEST</b>	»	33
Francia	»	35
<i>I Castelli della Valle della Loira</i>	»	43
Paesi Bassi	»	45
<b>EUROPA CENTRALE</b>	»	53
Germania	»	55
<i>Il Muro di Berlino</i>	»	63
Polonia	»	65
<i>Il Danubio</i>	»	70
Ungheria	»	72
<b>EUROPA DEL SUD</b>	»	77
Spagna	»	79
Portogallo	»	88
<i>I Grandi esploratori portoghesi</i>	»	95

<b>EUROPA DELL'EST</b>	»	97
Lituania	»	99
Russia	»	104
Romania	»	112
<i>Dracula</i>	»	118
<b>EUROPA BALCANICA</b>	»	119
Serbia	»	121
Albania	»	124
<i>Scanderbeg</i>	»	129
Grecia	»	131
<i>Le Olimpiadi</i>	»	141
<b>MAPPE</b>	»	143

# EUROPA DEL NORD



**1.** SVEZIA

**2.** REGNO UNITO

**3.** IRLANDA

**4.** DANIMARCA



**5.** FINLANDIA



**6.** ISLANDA



**7.** NORVEGIA





# SVEZIA

## Sverige

(nome originale del Paese)

lat. 69°-55°N; long. 11°-24°E

### La Svezia è nell'Unione europea.



La bandiera nasce nel 1569 ed è formata da una croce gialla su uno sfondo blu. Il giallo e il blu sono i colori delle uniformi (vestiti) antiche dei soldati della Svezia. Inoltre il giallo rappresenta il sole e il blu rappresenta il mare.

<b>Capitale</b> (città più importante)	Stoccolma
<b>Città importanti</b>	Göteborg, Malmö, Uppsala
<b>Lingua</b>	Svedese
<b>Abitanti</b> (quante persone vivono nel Paese)	10.014.900
<b>Superficie</b> (quanto è grande il Paese)	450.295 km <sup>2</sup>
<b>Densità della popolazione</b> (quante persone vivono in un km <sup>2</sup> )	23 abitanti per km <sup>2</sup>
<b>Moneta</b>	Corona svedese
<b>Governo</b>	Monarchia parlamentare (significa che c'è il re, ma c'è anche una Parlamento che limita il potere del re)
<b>Religione</b>	Cristiani protestanti (circa il 60%), atei (18,5%), musulmani (4,3%)
<b>PIL per abitante</b> (Prodotto Interno Lordo, è il valore di tutto quello che un Paese produce. Il PIL per abitante è diviso tra gli abitanti)	54.815 dollari (per abitante per anno)
<b>ISU</b> (Indice di Sviluppo Umano, indica lo sviluppo di un Paese in una classifica dei Paesi del mondo)	14° posto

Come si chiamano i bambini svedesi? Ebba e Hugo

## Confini

La Svezia confina con la Norvegia a Nord e a Ovest, con la Finlandia a Nord-Est. Il Mar Baltico bagna la Svezia a Sud-Est. Puoi vedere sulla carta a Nord il Golfo di Botnia. A Sud-Ovest lo Stretto del Kattegat divide la Svezia dalla Danimarca.

## Territorio

Osserva la carta fisica della Svezia: il territorio è montuoso a Ovest, verso la Norvegia. Le montagne sono arrotondate (non a punta) perché sono antiche. Vicino al mare, sulla costa, il territorio è pianeggiante (una pianura).

La Svezia è divisa in tre zone: a Nord c'è il Norrland, al centro c'è lo Svealand, a Sud c'è il Gotaland.

Il Gotaland è la zona meno fredda, dove vivono più persone e dove c'è più lavoro.

Dal 2000 la Svezia è unita alla Danimarca da un ponte che collega la città di Malmö (in Svezia) alla città di Copenaghen (capitale della Danimarca).

In Svezia ci sono molti fiumi, soprattutto a Nord: nel Norrland.

Ci sono anche molti laghi (circa l'8% del territorio); i laghi più grandi sono il Vänern (5585 km<sup>2</sup>) e il Vättern (1912 km<sup>2</sup>).



Un'immagine di Stoccolma

## Clima

La Svezia è un Paese molto esteso (grande) da Nord a Sud. Per questo motivo il clima cambia: a Nord c'è molto freddo, il clima è polare.

A Sud e sulla costa il clima è continentale freddo, cioè freddo in inverno e fresco in estate.

In Svezia non piove molto: ma scende (c'è) la neve.

## Storia

Le persone vivono in Svezia fin dalla Preistoria, soprattutto a Sud.

In passato qui viveva il popolo degli Sueoni, poi verso l'800 d.C. nasce la civiltà dei Vichinghi.

I Vichinghi sono molto famosi: con le loro barche, i drakkar, andavano sulle coste



dell'Inghilterra, della Francia e in altre zone dell'Europa e facevano razzia (rubavano e distruggevano).

Dal 1397 al 1523 la Svezia era insieme alla Norvegia e alla Danimarca.

Nel XX secolo (1900) la Svezia è stata neutrale (cioè non ha partecipato) durante la I e la II guerra mondiale.

A Uppsala è nata nel 1477 la più antica università della Scandinavia (la Scandinavia è la penisola che comprende Norvegia, Svezia e Finlandia).

## **Economia**

Fino al 1800 la Svezia era un Paese povero. Molte persone sono partite per cercare lavoro, specialmente verso gli USA.

Ora la Svezia è uno degli Stati più ricchi e sviluppati al mondo.

L'80% degli svedesi lavora nel settore terziario.

Nel settore primario lavora solo l'1,1% delle persone, ma i risultati sono alti.

La Svezia produce cereali (orzo, frumento, avena e segale), patate e barbabietola da zucchero.

Gli svedesi sfruttano (usano) molto i grandi boschi che hanno per produrre legna e carta e hanno molto legno nelle miniere.

Nel settore secondario lavora il 18% della popolazione. I turisti in Svezia visitano la città di Stoccolma, i laghi, le foreste, il Sole di mezzanotte (in estate, per alcune settimane, il sole non tramonta mai), le aurore boreali (strisce luminose rosse o verdi-azzurre che puoi vedere in cielo).



## **Popolazione**

Le persone che abitano in Svezia sono poche: 10 milioni. La densità degli abitanti della Svezia è bassa: circa 23 abitanti per km<sup>2</sup>. Gli abitanti sono svedesi, gli stranieri che vivono qui sono circa 1.200.000. Gli stranieri arrivano in questo Paese perché la Svezia è molto ricca e perché lo Stato spende molto per le persone, specialmente per le persone più in difficoltà (anziani, disoccupati, madri sole con bambini, immigrati).



Un gruppo di persone vive qui da molto tempo (prima degli svedesi): sono i Sami. I Sami vivono in una zona divisa tra Svezia, Norvegia e Finlandia (zona che puoi chiamare Lapponia) e allevano le renne.

### In giro per la Svezia



Le renne



La taiga



Le case di Stoccolma

### Ancora qualcosa...

Gli svedesi amano mangiare lo smörgåsbord, tanti cibi su un tavolo.

Puoi prendere questi cibi e mangiare in piedi.



Smörgåsbord



Festa di Santa Lucia

il 13 Dicembre è la festa di Santa Lucia. Le ragazze portano una corona di candele in testa per celebrare con la luce il giorno più corto dell'anno.



**Buongiorno!**

Ecco come le persone dicono buongiorno in lingua svedese:

**God dag!**





1. Vai alla sezione mappe in fondo al libro (pag. 145). Trova la cartina della Svezia (pag. 147) e guarda. Colora il territorio della Svezia; ricorda che le pianure sono verdi, le colline giallo-marroni, le montagne marroni.



2. In questa cartina segna la capitale della Svezia e le sue città più importanti:



3. In questa tabella indica con un segno sui pallini gli elementi importanti del territorio svedese (della Svezia):

Nel territorio ci sono	Le isole sono	In Svezia ci sono
<input type="checkbox"/> montagne <input type="checkbox"/> colline <input type="checkbox"/> pianure	<input type="checkbox"/> Norrland <input type="checkbox"/> Brandenburg <input type="checkbox"/> Carelia <input type="checkbox"/> Svealand <input type="checkbox"/> Gotaland	<input type="checkbox"/> molti fiumi e laghi <input type="checkbox"/> pochi fiumi e laghi



4. Spiega con parole tue chi sono i vichinghi, dove andavano e cosa facevano.

-----

-----

-----

-----

-----

-----

5. Scrivi in questa tabella le persone che lavorano nei tre settori economici:

Settore primario	Settore secondario	Settore terziario
----- %	----- %	----- %

6. I Sami vivono in Lapponia. La Lapponia è una zona divisa fra tre Stati, quali?

-----	-----	-----
-------	-------	-------

7. Osserva le fotografie della Svezia: quale di queste fotografie ti piace di più e perché?

-----

-----

-----

-----

-----

9. Scrivi il saluto svedese e, se puoi, ascoltalo sul web:

-----

-----

-----

# REGNO UNITO

## United Kingdom


(nome originale del Paese)

lat. 62°-49°N; long. 8°W-2°E

**Il Regno Unito era nell'Unione europea fino al 2017.**



La bandiera inglese è formata da tre bandiere unite:



la bandiera dell'Inghilterra

la bandiera della Scozia

la bandiera dell'Irlanda

<b>Capitale</b> (città più importante)	Londra
<b>Città importanti</b>	Birmingham, Leeds, Glasgow, Sheffield
<b>Lingua</b>	Inglese, gaelico irlandese
<b>Altre lingue</b>	Gallese, scozzese
<b>Abitanti</b> (quante persone vivono nel Paese)	65.648.100
<b>Superficie</b> (quanto è grande il Paese)	242.521 km <sup>2</sup>
<b>Densità della popolazione</b> (quante persone vivono in un km <sup>2</sup> )	266 abitanti per km <sup>2</sup>
<b>Moneta</b>	Sterlina inglese
<b>Governo</b>	Monarchia parlamentare (significa che c'è il re, ma c'è anche una Parlamento che limita il potere del re)
<b>Religione</b>	Cristiani (circa il 60%), atei (25%), musulmani (4,8%)
<b>PIL per abitante</b> (Prodotto Interno Lordo, è il valore di tutto quello che un Paese produce. Il PIL per abitante è diviso tra gli abitanti)	40.096 dollari (per abitante per anno)
<b>ISU</b> (Indice di Sviluppo Umano, indica lo sviluppo di un Paese in una classifica dei Paesi del mondo)	16° posto

Come si chiamano i bambini inglesi? Amelia e Harry

## Confini

Il Regno Unito si trova (è) nell'oceano Atlantico, vicino alle coste francesi (della Francia).

Il Regno Unito è composto

da Gran Bretagna  
e Irlanda del Nord.



L'Irlanda del Nord è una regione del Regno Unito dal 1922. In questo anno le persone hanno diviso l'Irlanda in Irlanda del Nord e Irlanda del Sud. L'Irlanda del Sud è la Repubblica d'Irlanda.

L'isola della Gran Bretagna è divisa in tre regioni: l'Inghilterra, la Scozia, il Galles. Nel passato l'Inghilterra era una regione molto importante, per questo motivo a volte le persone chiamano Inghilterra tutto il Regno Unito.



Il Regno Unito ha anche molte isole: queste isole sono vicine e lontane (in America e nell'oceano Pacifico).

Le isole vicine più importanti sono le isole Orcadi, Shetland e Ebridi e sono tutte a Nord della Gran Bretagna.

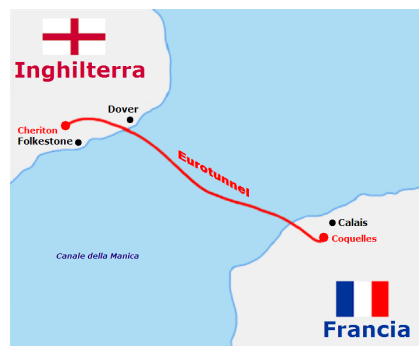


C'è un canale (zona del mare) che a Sud Est divide il Regno Unito dalla Francia.

Puoi chiamare questo canale “Canale della Manica.”

Nel 1994 le persone hanno costruito nel Canale della Manica un tunnel (galleria) che passa sotto il mare che unisce il Regno Unito alla Francia.

Questo tunnel è lungo 50 chilometri e le auto o il treno impiegano circa 30 minuti per percorrerlo (ci vogliono circa 30 minuti di tempo).



### Territorio

Osserva la carta fisica del Regno Unito: il territorio è pianeggiante (con pianure) e collinare (con colline). Ci sono alcune montagne non alte nel Galles e in Scozia. La montagna più alta del Paese è il Ben Nevis che si trova (è) in Scozia: è alto 1.344 metri.

I fiumi inglesi più importanti sono il Severn (km. 354) e il Tamigi (km. 346).

Il fiume Tamigi scorre (passa) attraverso la città di Londra.



I laghi più grandi sono in Irlanda del Nord e sono il Lough Neagh e il Lough Erne. In Scozia si trova (c'è) il famoso Loch Ness; in questo lago le persone dicono che viva (vive) un mostro antico.

### Clima

Il clima del Regno Unito è atlantico: cioè ci sono inverni miti (non troppo freddi) ed estati fresche. In questo Paese piove molto, ma non è mai troppo a freddo grazie alla Corrente del Golfo, una corrente di acqua calda che viene dall'America.

## Storia

Molti popoli hanno vissuto nel Regno Unito: prima i Celti, poi i Romani, poi gli Angli e i Sassoni, poi i Normanni che venivano dalla Francia.


Del 1215 è la Magna Charta libertatum (dal latino: importante documento delle libertà). Con questa Charta le persone in questo Paese sono più libere e hanno più diritti; il potere del re è limitato.

Con il re Enrico VIII (XV-XVI secolo) nasce l'anglicanesimo, cioè molti cristiani non sono più cristiani cattolici, ma diventano cristiani anglicani.

Da quel momento il re diventa il capo della Chiesa anglicana; ancora oggi la regina Elisabetta II è il capo degli anglicani.



Una regione del Regno Unito, l'Inghilterra, è stato il primo luogo al mondo dove sono nate le fabbriche; qui è nata la Rivoluzione industriale (fine 1700-inizio 1800). Per questo motivo il Regno Unito è diventato ricchissimo e ha cominciato a conquistare (prendere) tanti altri Paesi nel mondo. Questi paesi diventano "Colonie".



Per molto tempo inglesi e irlandesi hanno combattuto per la religione. Purtroppo sono avvenuti anche fatti molto tristi. Ricorda la "Domenica di sangue"; in Irlanda del Nord nel 1972 alcune persone manifestano per essere indipendenti (liberi) dal Regno Unito.

L'esercito inglese spara e uccide 14 persone, tutte molto giovani.

## Economia

Il Regno Unito è un Paese ricco.

Nel settore primario lavora l'1,1% delle persone.

Il Regno Unito produce cereali (orzo, frumento, avena e segale), patate e barbabietola da zucchero, ma questi prodotti non bastano per tutti. Per questo motivo il Paese deve importare (prendere) cibo da altri Stati.

Nel settore secondario lavora il 18% della popolazione. Ci sono molti tipi di fabbriche che producono tante cose diverse. Importante è il settore dell'energia (petrolio, gas naturale, carbone).

Nel terziario lavora l'80,5% delle persone. Nel Regno Unito ci sono molte banche e assicurazioni.

I turisti nel regno Unito visitano la città di Londra, i paesaggi della Scozia e della Cornovaglia.

## Popolazione

In questo Paese le persone vivono soprattutto in città (83%).

Nel Regno Unito ci sono circa 5.600.000 di stranieri che vengono soprattutto da India e dalla Polonia.

## In giro per il Regno Unito



Londra



La campagna.



La Cornovaglia

## Ancora qualcosa...

Gli inglesi amano molto bere il tè, soprattutto nel pomeriggio, alle ore 17. Questa abitudine è nata nel 1800.



Gli inglesi guidano “a sinistra”, cioè chi guida l’auto deve stare sul lato sinistro della strada. Chi guida è seduto a destra.



Nel Regno Unito dal 1965 esiste (c’è) in maniera ufficiale il sistema metrico decimale che usiamo in tutta Europa; però esiste (c’è) anche un sistema di misura particolare: il sistema imperiale britannico.

Infatti, qui le persone possono usare il pollice (inch), il piede (foot) e la iarda (yard) per misurare una lunghezza; l’onzia (ounce), la pinta (pint) e il gallone (gallon) per misurare un liquido, la scala Fahrenheit per misurare la temperatura (in Italia e nel resto d’Europa usiamo la scala Celsius).

Sistema imperiale britannico	Nome inglese	Sistema metrico decimale
Pollice	Inch	25,4 mm
Piede	Foot	304,8 mm
Iarda	Yard	0,9144 m
Stadio	Furlong	201,168 m
Miglio terrestre	Stature mile	1.609,344 m
Oncia	Ounce	28,349523 g
Pinta	Pint	28,4 ml
Quarto	Quart	1,1364 l
Gallone	Gallon	4,546 l
Libbra	Pound	453,59237 g



**Buongiorno!**

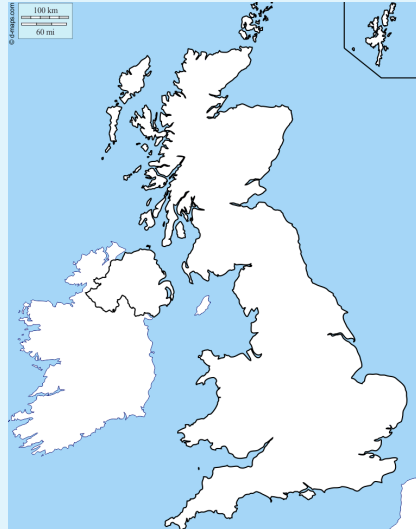
Ecco come le persone dicono buongiorno in lingua inglese:

**Good morning!**

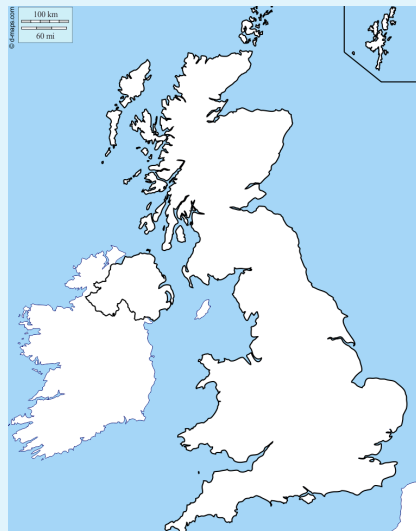




1. Vai alla sezione Mappe (pag. 145) e trova la cartina del Regno Unito. Colora il territorio del Regno Unito; ricorda che le pianure sono verdi, le colline giallo-marroni, le montagne marroni. Indica anche il fiume Tamigi (Thames in inglese).



2. In questa cartina segna la capitale del Regno Unito e le sue città più importanti:



3. In questa tabella indica con un segno sui pallini gli elementi importanti del territorio inglese (del Regno Unito):

Nel territorio ci sono	Le isole vicine al Regno Unito sono	Nel lago di Loch Ness le persone dicono che ci sia (c'è)
<input type="checkbox"/> montagne <input type="checkbox"/> colline <input type="checkbox"/> pianure	<input type="checkbox"/> Lofoten <input type="checkbox"/> Ebridi <input type="checkbox"/> Orcadi <input type="checkbox"/> Svalbard <input type="checkbox"/> Shetland	<input type="checkbox"/> un'antica nave <input type="checkbox"/> un mostro marino



4. Scrivi da quali parti è composto il Regno Unito:

_____	_____
-------	-------

5. La Gran Bretagna è composta da tre regioni; scrivi quali sono:

_____	_____	_____
-------	-------	-------

6. Scrivi dove è nata la Rivoluzione industriale e quando:

Dove	Quando
_____	_____

7. Scrivi in questa tabella le persone che lavorano nei tre settori economici:

Settore primario	Settore secondario	Settore terziario
_____ %	_____ %	_____ %

8. Dove vanno i turisti nel Regno Unito?

- 1. \_\_\_\_\_
- 2. \_\_\_\_\_
- 3. \_\_\_\_\_
- 4. \_\_\_\_\_

9. Osserva le fotografie del Regno Unito: quale di queste fotografie ti piace di più e perché?

\_\_\_\_\_

\_\_\_\_\_

\_\_\_\_\_

\_\_\_\_\_

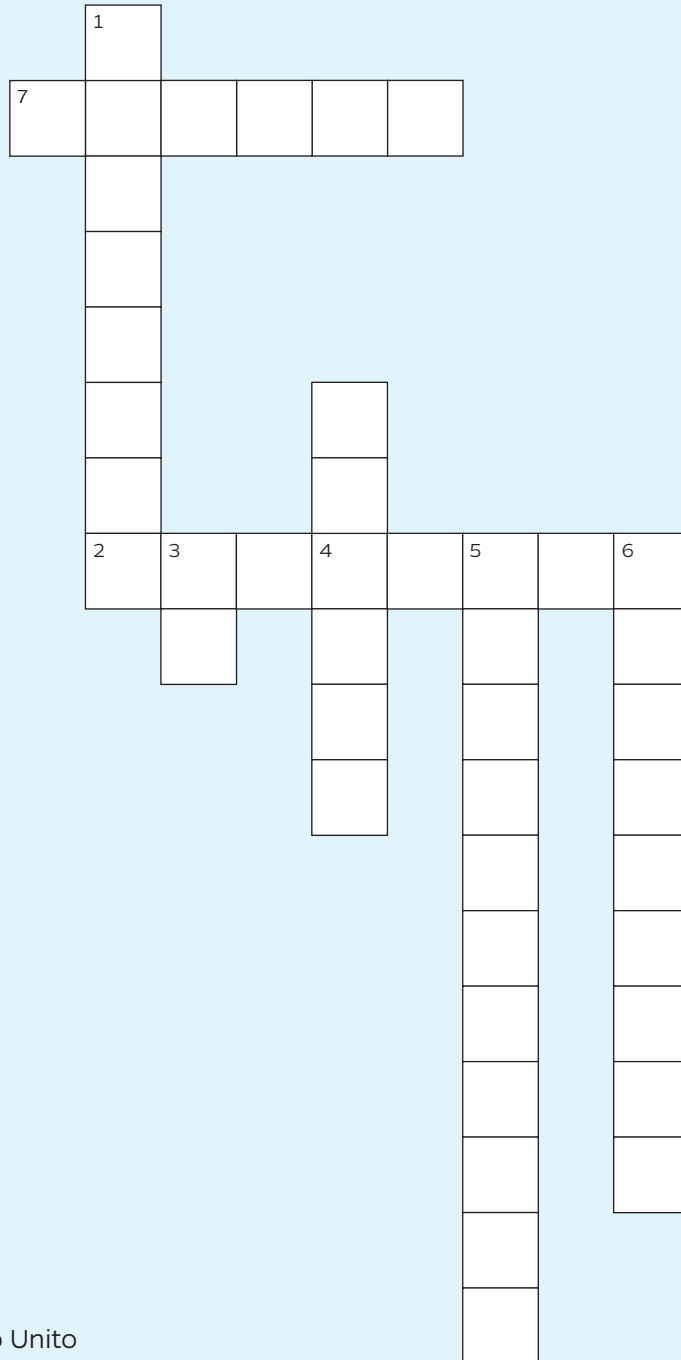
\_\_\_\_\_

10. Scrivi il saluto inglese e, se puoi, ascoltalo sul web:

\_\_\_\_\_



11. Completa il cruciverba sul Regno Unito.




**Orizzontale →**

- 2. La moneta inglese
- 7. La capitale del Regno Unito

**Verticale ↓**

- 1. Un famoso lago dove vive un mostro antico
- 3. Gli inglesi amano berlo alle 17.00
- 4. Fonda l'anglicanesimo
- 5. Dove nasce la rivoluzione industriale
- 6. Il clima del Regno Unito

# RE ARTÙ E I CAVALIERI DELLA TAVOLA ROTONDA



L'uomo che vedi nell'immagine è Re Artù, un forte guerriero celtico (del popolo dei Celti).

Re Artù vive in Gran Bretagna tra il 400 e il 500 d.C. e combatte contro altri popoli, come i Sassoni.

Re Artù vive a Camelot, un luogo che forse può essere il castello di Tintagel, a Sud della Gran Bretagna. Ora questo castello è in rovina (cioè il castello è quasi distrutto).



Quando Artù è ancora un bambino, riesce a tirare fuori dalla roccia una spada magica: Excalibur. Molti uomini provano a tirare fuori la spada, ma solo Artù riesce a prendere Excalibur.



Grazie a questo, Artù diventa re del suo popolo.

Re Artù insieme a 25 cavalieri (guerrieri a cavallo) compie (fa) molte avventure per cercare una coppa (un bicchiere prezioso) sacra: il Sacro Graal.



Re Artù e i suoi cavalieri siedono a una tavola rotonda: nessuno siede in un posto più importante dell'altro perché loro sono tutti uguali.



# IRLANDA

## Éire

(nome originale del Paese)

lat.55°-51°N; long. 11°-6°O

L'Irlanda è nell'Unione europea.



La bandiera irlandese è formata da tre colori: il verde indica il territorio verde dell'Irlanda e i cristiani cattolici, l'arancione indica i cristiani protestanti e il bianco indica la pace tra le due correnti religiose (cattolici e protestanti). La bandiera irlandese è un messaggio di pace.

<b>Capitale</b> (città più importante)	Dublino
<b>Città importanti</b>	Galway, Cork, Limerick
<b>Lingua</b>	Gaelico irlandese, inglese
<b>Abitanti</b> (quante persone vivono nel Paese)	4.761.860
<b>Superficie</b> (quanto è grande il Paese)	68.890 km <sup>2</sup>
<b>Densità della popolazione</b> (quante persone vivono in un km <sup>2</sup> )	65 abitanti per km <sup>2</sup>
<b>Moneta</b>	Euro
<b>Governo</b>	Repubblica parlamentare (significa che c'è il Parlamento che fa nuove leggi e rispetta una Costituzione)
<b>Religione</b>	Cristiani (circa il 60%), ateo (25%), musulmani (4,8%)
<b>PIL per abitante</b> (Prodotto Interno Lordo, è il valore di tutto quello che un Paese produce. Il PIL per abitante è diviso tra gli abitanti)	40.096 dollari (per abitante per anno)
<b>ISU</b> (Indice di Sviluppo Umano, indica lo sviluppo di un Paese in una classifica dei Paesi del mondo)	16° posto

Come si chiamano i bambini irlandesi? Emily e Jack

## Confini

Il mare bagna tutte le coste dell'Irlanda, infatti il Paese è un'isola.

A Ovest si trova (c'è) l'oceano Atlantico, a Est il Mare d'Irlanda, a Sud il Mare celtico.

A Nord-Est l'Irlanda confina con l'Irlanda del Nord, cioè con il Regno Unito.

## Territorio

In Irlanda ci sono molte pianure e prati, vicino alla costa puoi vedere qualche collina e molte scogliere (roccia davanti alle coste).

In Irlanda ci sono molti fiumi, il più importante è lo Shannon (365 km).



Le scogliere irlandesi



Un'immagine di Dublino

## Clima

Il clima dell'Irlanda è atlantico: cioè ci sono inverni miti (non troppo freddi) ed estati fresche. Ci sono sempre molta pioggia e nebbia. In inverno non è mai troppo freddo grazie alla Corrente del Golfo, una corrente marina (del mare) di acqua calda che viene dall'America. In Irlanda c'è anche molto vento.

Grazie al clima umido, l'Irlanda è molto verde (cioè ha molti prati) e le persone la chiamano "Isola di smeraldo".



## Economia

L'Irlanda è un Paese abbastanza ricco, anche se negli ultimi anni la crisi dell'economia mondiale (del mondo) ha colpito anche l'Irlanda.

In passato questo Paese era molto povero e tante persone sono partite per cercare una vita migliore.

Ora le persone che lavorano nel settore primario sono il 5%; le persone producono soprattutto cereali e patate. Il settore della pesca è a buon livello.

Le persone che lavorano nel settore secondario sono il 18,8%; queste persone lavorano soprattutto nel settore dell'elettronica e dell'informatica (computer).

L'Irlanda non ha molte risorse di energia e prende il gas da altre regioni (come la Scozia).

Le persone che lavorano nel settore terziario sono il 76,2%. Le persone lavorano soprattutto nel commercio (comprare e vendere) e nelle banche.

## Popolazione

Le persone in Irlanda sono soprattutto di origine celtica (un antico popolo che viveva qui molti secoli fa: i Celti) e cristiane cattoliche. Gli stranieri sono circa il 10% della popolazione.

In Irlanda le persone parlano l'inglese, ma soprattutto parlano la loro lingua nazionale: il gaelico irlandese (è una lingua celtica). Dal 2007 il gaelico irlandese è una lingua ufficiale dell'Unione europea.

In Irlanda e in Irlanda del Nord c'è un partito (lo "Sinn Féin" che significa "Noi stessi") che combatte perché l'Irlanda del Nord non sia più nel Regno Unito, ma sia unita al resto dell'Irlanda.

In Irlanda c'è anche l'IRA, un gruppo di persone armate che combatte per gli stessi motivi dello Sinn Féin. Dal 2005, l'IRA non vuole più usare le armi, ma arrivare ad un accordo pacifico (di pace).



### Buongiorno!

Ecco come le persone dicono buongiorno in lingua gaelica irlandese:

**Móra na maidine duit!**





1. Colora il territorio dell'Irlanda; ricorda che le pianure sono verdi, le colline giallo-marroni, le montagne marroni. Disegna anche il percorso del fiume più importante.



2. In questa cartina segna la capitale dell'Irlanda e le sue città più importanti:



3. In questa tabella indica con un segno sui pallini gli elementi importanti del territorio irlandese (dell'Irlanda):

Nel territorio ci sono	L'Irlanda è	L'Irlanda è molto verde
<input type="checkbox"/> montagne <input type="checkbox"/> colline <input type="checkbox"/> pianure	<input type="checkbox"/> una penisola <input type="checkbox"/> un'isola <input type="checkbox"/> un continente	<input type="checkbox"/> per il clima secco <input type="checkbox"/> per il clima umido



**4. In questa tabella scrivi le caratteristiche del clima dell'Irlanda:**

Clima	-----
Inverni	-----
Estate	-----
Pioggia	<input type="checkbox"/> SÌ <input type="checkbox"/> NO
Nebbia	<input type="checkbox"/> SÌ <input type="checkbox"/> NO
Vento	<input type="checkbox"/> SÌ <input type="checkbox"/> NO
Corrente marina calda	<input type="checkbox"/> SÌ <input type="checkbox"/> NO

**5. Scrivi in questa tabella le persone che lavorano nei tre settori economici:**

Settore primario	Settore secondario	Settore terziario
----- %	----- %	----- %

**6. Scrivi le due lingue che le persone parlano in Irlanda:**

-----	-----
-------	-------

**7. Perché il partito "Sinn Féin" combatte? Che cosa vuole ottenere?**

-----

-----

-----

-----

-----

-----

**8. Scrivi il saluto gaelico irlandese e, se puoi, ascoltalo sul web:**

-----

# HALLOWEEN



Forse anche tu hai visto una zucca come questa...

Questa zucca è il simbolo della festa di Halloween. Le persone festeggiano Halloween la sera del 31 ottobre e indossano maschere e costumi (vestiti) che fanno paura.



I bambini vanno di casa in casa (vanno prima in una casa, poi in un'altra, poi in un'altra ancora...) e chiedono dolci e caramelle. In Italia i bambini dicono una frase: "Dolcetto o scherzetto?".

Questa festa non nasce negli USA, ma nasce in Irlanda tanto tempo fa.

È la festa dei morti e le persone volevano un po' ricordare i morti e un po' volevano spaventare gli spiriti cattivi.

Per spaventare le persone intagliavano (usavano il coltello) le rape (ce ne sono molte in Irlanda) con un viso che faceva paura e ci mettevano dentro una candela.

Quando molti irlandesi partono per gli USA per cercare lavoro, portano con sé questa festa.

Negli USA non ci sono rape, ma zucche; quindi le persone cominciano a usare le zucche.

Ai nostri tempi la festa di Halloween è diffusa in molte zone del mondo, anche in Italia.